

گنجینه سوال رایگان

+ پاسخ تشریحی

یاوران دانش



راه های ارتباطی با ما:

www.Dyavari.com

۰۲۱-۷۶۷۰۳۸۵۸

۰۹۱۲-۳۴ ۹۴ ۱۳۴



سهم دهک اول	۳ درصد
سهم دهک دوم	۴ درصد
سهم دهک سوم	۵ درصد
سهم دهک چهارم	۶ درصد
سهم دهک چهارم	۷/۳ درصد
سهم دهک پنجم	۸ درصد
سهم دهک ششم	۱۰ درصد
سهم دهک هفتم	؟
سهم دهک هشتم	۱۵/۷ درصد
سهم دهک نهم	۲۹ درصد
۱۰۰٪ جمعیت کشور	۱۰۰٪ درآمد ملی

۱- با توجه به جدول توزیع نابرابری، اگر جمعیت کشور ۲۰ میلیون نفر و درآمد ملی صد هزار میلیارد ریال باشد:

(الف) سهم دهک چهارم از درآمد ملی چند میلیارد ریال است؟

(ب) جمعیت دهک هشتم چند میلیون نفر است؟

(ج) سهم دهک هشتم چند درصد است؟

(د) شاخص توزیع درآمد چه عددی است؟

(۱) ۶/۹ - ۱۲ - ۲ - ۶۰۰۰

(۲) ۱۰ - ۱۴ - ۲ - ۶۰۰۰

(۳) ۹/۶ - ۱۲ - ۱۰ - ۶۰۰

(۴) ۱۰ - ۱۴ - ۱۰ - ۶۰۰

۲- تعداد گزاره‌های درست در کدام گزینه آمده است؟

(الف) کسانی که در ازای کاری که انجام می‌دهند حقوق می‌گیرند، شاغل تمام وقت محسوب می‌شوند.

(ب) برخی از کسانی که شغلی ندارند، بیکار محسوب می‌شوند.

(ج) اگر تعداد افراد بیکار و شاغل را با هم جمع کنیم، عدد جمعیت فعال به دست می‌آید.

(د) دانشجویان و دانش‌آموزان بیکار محسوب نمی‌شوند. هر چند آن‌ها را در جمعیت فعال دسته‌بندی می‌کنند.

(ه) طبق تعریف بیکارانی که از جست‌وجوی شغل دلسرد شده‌اند بیکار محسوب نمی‌شوند.

(۱) ۴ (۲) ۳ (۳) ۲ (۴) ۱

۳- در محاسبه‌ی تولید ناخالص داخلی کدام گزینه لحاظ نمی‌شود؟

(۱) هر کالای باارزشی که در بازار جریان داشته، در محاسبه لحاظ خواهد شد.

(۲) تولید فقط محدود به تولید کالاها نیست، خدمات هم در محاسبه لحاظ می‌شود.

(۳) برای اندازه‌گیری تولید، تنها کالا و خدمات نهایی را در نظر نمی‌گیریم، بلکه محصولات واسطه‌ای هم محاسبه می‌شوند.

(۴) تولید ناخالص داخلی، محاسبه‌ی تمام تولیداتی که در داخل یک کشور تولید شده، حتی اگر توسط خارجی‌ها باشد.



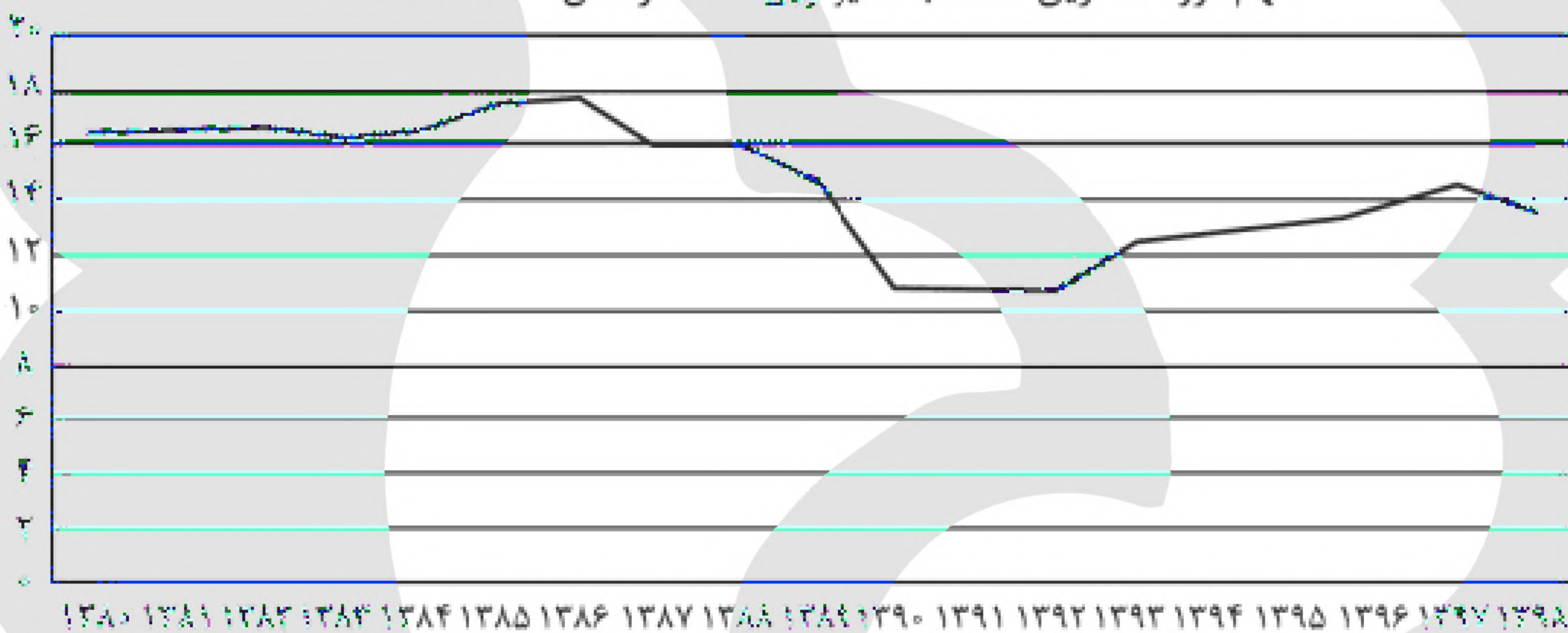
۱	ارزش پوشاک تولیدی	۸۰۰۰ میلیارد دلار
۲	ارزش خدمات خارجیان تیم کشور	۱۳۵۰ میلیارد دلار
۳	ارزش مبادلات کالاهای دست دوم	۳۵۰۰ میلیارد دلار
۴	ارزش خدمات افراد مقیم خارج	$\frac{1}{3}$ ردیف ۱
۵	ارزش تولید کالاهای سرمایه‌ای	$\frac{4}{5}$ ردیف ۳
۶	ارزش تولید مواد غذایی	۲۰ میلیون نفر
۷	جمعیت فعال	۲۰ میلیون نفر
۸	جمعیت کل کشور	۵۰ میلیون نفر

۴- در یک جامعه‌ی فرض کالاها و خدمات زیر در طول یک سال، طبق جدول داده شده، تولید شده است. با توجه به این داده‌ها:

- الف: تولید ناخالص داخلی سرانه
 ب: تولید ناخالص داخلی را تعیین کنید.
 (۱) الف: ۳۲۰ هزار دلار ب: ۱۶۰۰۰
 (۲) الف: ۸۰۰ هزار دلار ب: ۱۶۰۰۰
 (۳) الف: ۳۲۳ هزار دلار ب: ۱۵۰ و ۱۶
 (۴) الف: ۸۰۷/۵ هزار دلار ب: ۱۵۰ و ۱۶

۵- با توجه به نمودار زیر کدام گزینه نادرست است؟

سهم ثروتمندترین دهک به فقیرترین دهک از سال ۱۳۸۰ تا ۱۳۹۸



- (۱) گاهی درآمدهای مردم برای به دست آوردن شاخص دهک‌ها، قابل ثبت نیست به همین دلیل برای به دست آوردن اختلاف درآمدی، اختلاف هزینه‌ای را محاسبه می‌کنند.
 (۲) در سال ۱۳۸۰، ده درصد ثروتمند جامعه، شانزده برابر ده درصد فقیر جامعه درآمد داشته‌اند.
 (۳) در سال ۱۳۹۲، شاخص توزیع درآمد عدد مناسب‌تری را نشان می‌دهد و این به معنای پیشرفت در زمینه‌ی عدالت اقتصادی است.
 (۴) برای تعیین شاخص دهک‌ها نسبت ده درصد بالای جدول را به ده درصد پایین جدول محاسبه می‌کنیم.

۶- با توجه به عبارت داده شده به ترتیب کدام گزینه درست است؟

- «شاخص فقر»، «عدالت اقتصادی و اجتماعی»، «توسعه ظرفیت‌های تولیدی»، «میانگین سال‌های تحصیلی»
 (۱) HDI - گزارش HDI - رشد HDI
 (۲) گزارش HDI - پیشرفت - رشد HDI
 (۳) پیشرفت - توسعه - گزارش HDI
 (۴) توسعه - گزارش HDI - توسعه - گزارش HDI



۷- کدام گزینه کاککل کنندهی عبارات زیر می باشد؟

الف) در زمانی که اقتصاد کشور دچار تورم می شود، بانک مرکزی سیاست را به کار می گیرد.
ب) در بخش اقتصادی قانون اساسی، بر آموزه‌هایی همچون اقتصاد مردمی، نفی سلطه بیگانگان، استقلال اقتصادی، و عدالت اقتصادی تأکید شده است.

ج) اقتصاد مقاومتی، اقتصادی است پیشرفته، مردمی و دانش‌بنیان که در برابر تهدیدات و تکانه‌های داخلی و خارجی آسیب‌ناپذیر است و با اتکا به قابلیت‌ها و و استفاده از مشکلات را رفع می کند.

۱) الف: پولی انقباضی ب: حقوق شهروندی ج: ظرفیت بیرونی - فرصت داخلی

۲) الف: پولی انقباضی ب: حقوق شهروندی ج: ظرفیت داخلی - فرصت بیرونی

۳) الف: پولی انقباضی ب: خودباوری ج: ظرفیت داخلی - فرصت بیرونی

۴) الف: پولی انبساطی ب: ظرفیت بیرونی - فرصت داخلی

۸- کدام مورد پاسخ پرسش‌های زیر است و آنها را کامل می کند؟

- در نیمه‌ی اول حکومت صفویه، اقتصاد و شکل گرفت.
- در این دوره، ایران فرصت طلایی خود را برای جبران کاستی‌های اقتصادی از دست داد.
- تبدیل ایران به بازار مصرفی کالاهای کشورهای صنعتی در دوره‌ی پهلوی، پیامد کدام مورد است؟
- در بخش اقتصادی قانون اساسی نظام جمهوری اسلامی بر آموزه‌هایی همچون تأکید شده است.

۱) یکپارچه و مستقل - پهلوی - درآمدهای نفتی - نفی سلطه بیگانگان

۲) وابسته و یکپارچه - پهلوی - وابستگی به غرب - اقتصاد مردمی

۳) یکپارچه و مستقل - قاجاریه - درآمدهای نفتی - حقوق اقتصادی شهروندان

۴) وابسته و یکپارچه - قاجاریه - وابستگی به غرب - عدالت اقتصادی

۹- اطلاعات ارائه شده در جدول مقابل، مربوط به یک جامعه فرضی است. با توجه به مندرجات این جدول موارد زیر را معلوم کنید.

۱	ارزش پولی چک	۱۳۸۰ واحد
۲	ارزش پولی مجموع مسکوکات	$\frac{۳}{۵}$ موجودی اسکناس‌ها
۳	ارزش پولی مجموع اسکناس‌ها	۳۰۰۰ واحد
۴	ارزش پولی سپرده‌های دیداری	۱۵۰ واحد
۵	ارزش پولی سپرده‌های پس‌انداز بلندمدت	۳۲۰ واحد
۶	ارزش پولی مجموع سپرده‌های دیداری و پس‌اندازهای بلندمدت و کوتاه‌مدت	۱۱۰۰

الف) ارزش پولی مسکوکات

ب) میزان شبه پول

ج) میزان نقدینگی

۱) الف: ۲۱۰۰ ب: ۱۱۰۰ ج: ۷۲۸۰۰

۲) الف: ۲۱۰۰ ب: ۱۱۰۰ ج: ۷۷۵۰

۳) الف: ۱۸۰۰ ب: ۹۵۰ ج: ۷۲۸۰

۴) الف: ۱۸۰۰ ب: ۹۵۰ ج: ۷۷۵۰

۱۰- با توجه به اطلاعات ارائه شده پیرامون سطح عمومی قیمت‌ها برای دو کشور A و B، نرخ تورم کشور B و سطح عمومی قیمت‌ها در ابتدای سال برای کشور A کدام است؟

۱) ۲۸۰ - %۳۰ (۲) ۲۵۰ - %۳۰

۲) ۲۸۰ - %۴۰ (۴) ۲۵۰ - %۴۰

کشور	قیمت	ابتدای سال	انتهای سال	نرخ تورم
A	؟	؟	۳۰۰	$\frac{۱}{۲}B$
B	۲۰۰	۲۰۰	۲۸۰	؟



۱۱- کدام گزینه پاسخ پرسش‌های زیر است؟

- این نوع بیکاری کوتاه‌مدت است و در همه‌ی کشورها وجود دارد.
- اینکه نیروی کار ساده در اقتصاد وجود داشته ولی نیروی کار متخصص مورد نیاز باشد، مربوط به کدام نوع بیکاری است؟
- این نوع بیکاری در هنگام رکود اقتصادی رخ می‌دهد.
- اقتصاددانان آن میزان بیکاری را که همیشه در جامعه وجود دارد چه می‌نامند؟
- (۱) بیکاری فصلی - اصطکاکی - ساختاری - نرخ آشکار بیکاری
- (۲) بیکاری اصطکاکی - ساختاری - دوره‌ای - نرخ طبیعی بیکاری
- (۳) بیکاری فصلی - اصطکاکی - دوره‌ای - نرخ طبیعی بیکاری
- (۴) بیکاری اصطکاکی - ساختاری - فصلی - نرخ آشکار بیکاری

۱۲- پاسخ سوالات زیر در کدام گزینه آمده است؟

- سومین وظیفه‌ی پول کدام است؟
- کدام جمله در مورد تورم درست نیست؟
- سیاست پولی انقباضی توسط بانک مرکزی به کدام شکل اعمال می‌شود؟
- (۱) وسیله‌ی سنجش ارزش - تورم نشان می‌دهد که قدرت خرید پول چقدر کاهش یافته است - کاهش نقدینگی در گردش
- (۲) وسیله‌ی سنجش ارزش - اقتصاددان تغییر در سطح عمومی قیمت‌ها را تورم می‌گویند - افزایش نقدینگی در گردش
- (۳) وسیله‌ی پس‌انداز و حفظ ارزش - کاهش نرخ تورم به معنای کاهش سطح عمومی قیمت‌هاست - کاهش نقدینگی در گردش
- (۴) وسیله‌ی پس‌انداز و حفظ ارزش - تورم برای برخی از افراد سودرسان است - افزایش نقدینگی در گردش

۱۳- هزینه سبد بازار در سال جدید نسبت به سال گذشته ۲۶ درصد افزایش داشته و به ۷۰,۵۶۰ واحد پولی رسیده است. همزمان بانک مرکزی مجوز تسهیلات بانکی را از ۵۰,۰۰۰ میلیون واحد پولی به ۶۰,۵۰۰ میلیون واحد پولی افزایش داده است، در این صورت:

- الف) هزینه سبد بازار در سال گذشته چقدر بوده است؟
- ب) چه تغییری در وضعیت اعضای جامعه ایجاد شده است؟
- (۱) الف: ۵۹,۶۰۵ ب: قدرت خرید نسبت به سال گذشته ۲۱ درصد افزایش یافته است.
- (۲) الف: ۵۶,۰۰۰ ب: قدرت خرید نسبت به سال گذشته ۲۱ درصد افزایش یافته است.
- (۳) الف: ۵۶,۰۰۰ ب: قدرت خرید نسبت به سال گذشته ۵ درصد کاهش یافته است.
- (۴) الف: ۵۹,۶۰۵ ب: قدرت خرید نسبت به سال گذشته ۵ درصد کاهش یافته است.



«بانک سوال موسسه یاوران دانش»

۱۴- با توجه به سوالات زیر کدام گزینه صحیح است؟

الف) طبق گزارش توسعه‌ی انسانی، ایران در چه رتبه‌ای و با چه سطحی از توسعه قرار دارد؟

ب) اولین وسیله‌ی مبادله در گذشته چه بود؟

ج) خمس باید به چه کسی داده شود؟

۱) الف) رتبه‌ی ۶۵ و کشوری با توسعه‌یافتگی بالا - ب) کالاهای خاص پرترفدار در هر منطقه - ج) مرجع تقلید یا نماینده‌ی او

۲) الف) رتبه‌ی ۵۶ و کشوری نیمه توسعه یافته - ب) کالاهای تهاتری - ج) امام یا سادات

۳) الف) رتبه‌ی ۶۵ و کشوری با توسعه‌یافتگی بالا - ب) کالاهای تهاتری - ج) مرجع تقلید یا نماینده‌ی او

۴) الف) رتبه‌ی ۵۶ و کشوری نیمه توسعه یافته - ب) کالاهای خاص پرترفدار در هر منطقه - ج) امام یا سادات

۱۵- جدول زیر مبین وضعیت توزیع درآمد در دو کشور در سال ۲۰۲۲ است.

کشور B	کشور A	
x	۲	سهم دهک اول
۵	۴	سهم دهک دوم
۷	۵	سهم دهک سوم
۷	۷	سهم دهک چهارم
۹	۸	سهم دهک پنجم
x	۹	سهم دهک ششم
۱۰/۵	x	سهم دهک هفتم
۱۱/۵	۱۳	سهم دهک هشتم
۱۴	۱۷	سهم دهک نهم
۲۴	۲۶	سهم دهک دهم
۱۰۰٪ درآمد ملی		۱۰۰ درصد جمعیت کشور

براساس شاخص دهک‌ها:

الف) توزیع درآمد در کدام کشور عادلانه تر است؟

ب) در کشور A سهم دهک هفتم چقدر است؟

ج) اگر تفاوت سهم دهک اول و سوم، ۴ درصد و تفاوت سهم دهک ششم و چهارم، درصد باشد، دهک اول و ششم

در کشور B معادل چه عددی است؟

۱) الف) کشور B - ب) $x_7 = 14$ - ج) $x_1 = 2$ - د) $x_6 = 9$

۲) الف) کشور A - ب) $x_7 = 10$ - ج) $x_1 = 3$ - د) $x_6 = 10$

۳) الف) کشور B - ب) $x_7 = 9$ - ج) $x_1 = 3$ - د) $x_6 = 9$

۴) الف) کشور A - ب) $x_7 = 8$ - ج) $x_1 = 2$ - د) $x_6 = 10$



۱۶- اطلاعات جدول زیر، مربوط به اطلاعات استخراجی از حساب‌های ملی کشوری فرضی است. با توجه به داده‌ها، سهم

۳۸۰	تولید خالص ملی	۱
۳۵	سهم تولید مردم کشور که در خارج اقامت دارند	۲
۳۷۵	تولید ناخالص داخلی	۳

تولید خارجیان مقیم کشور چقدر است؟

- (۱) ۳۰
(۲) ۴۵
(۳) ۳۵
(۴) ۴۰

۱۷- کدام یک از گزینه‌های زیر در تولید ناخالص داخلی محاسبه می‌شود؟

- (۱) شخصی که به منظور عدم پرداخت عوارض گمرکی، اجناس خود را توسط کولبران و از یکی از کشورهای هم‌مرز وارد ایران می‌کند.
(۲) فردی که پرورش ماهی دارد و در شب سال نو به اقوام درجه یک خود ماهی شب عید می‌دهد.
(۳) آقای که تصمیم می‌گیرد تا برای تغییر دکور دفتر مهندسی خود، وسایل قدیمی دفتر را بفروشد.
(۴) خانم خانه‌داری که با هنر قلاب‌بافی و فروش آن از طریق اینستاگرام، توانسته است برای خود درآمدی کسب کند.

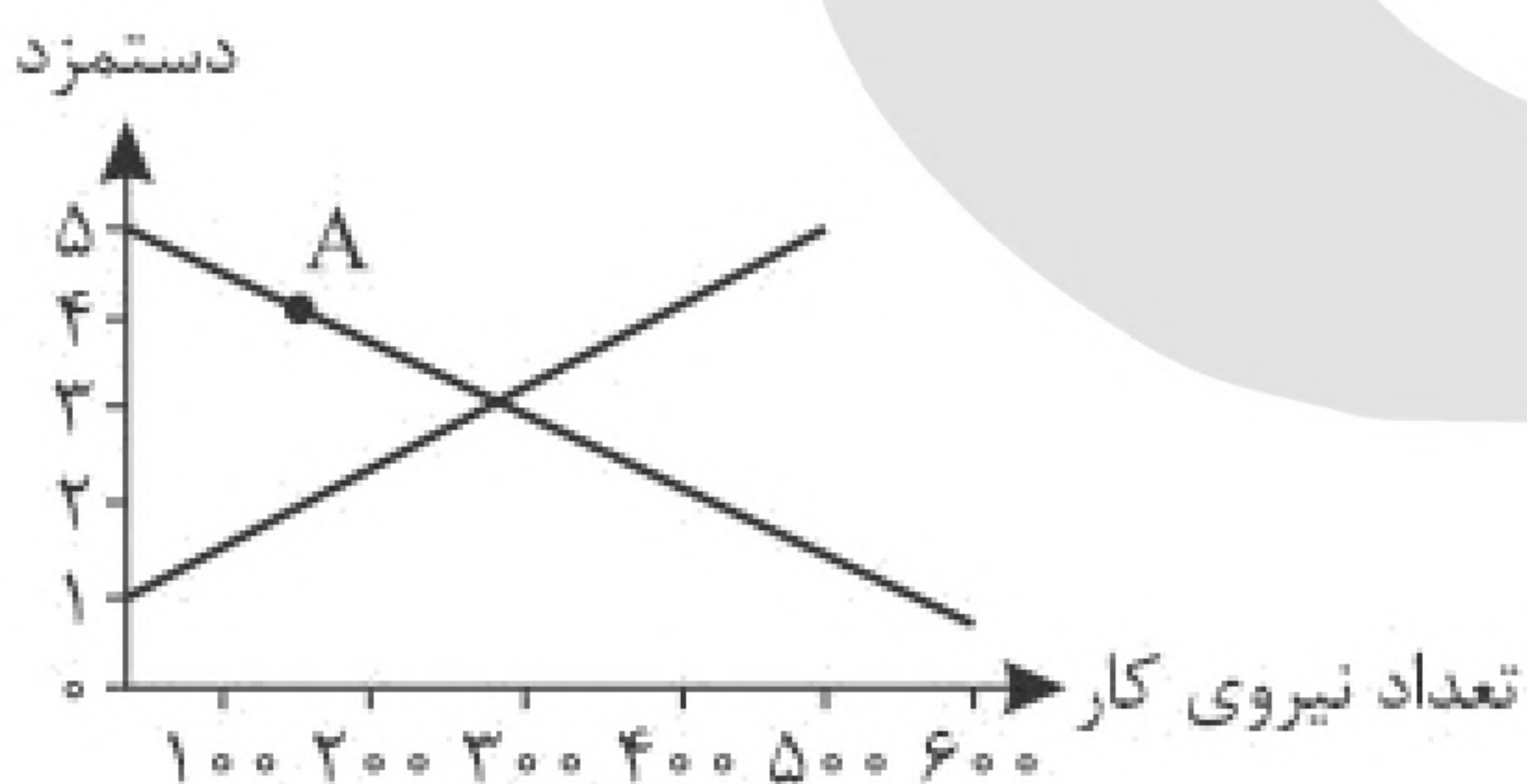
۱۸- هزینه سبد بازار در کشور A در سال ۲۰۲۰ معادل ده میلیون دلار و در سال ۲۰۲۱ معادل سیزده میلیون دلار بوده است. اگر هزینه سبد بازار در کشور B در سال ۲۰۲۱ معادل $1/3000/000$ دلار باشد، با فرض اینکه درصد تغییرات

CPI در کشور A و B با هم برابر باشد، هزینه سبد بازار در کشور B در سال ۲۰۲۰ چقدر است؟

- (۱) سه میلیون دلار (۲) یک میلیون دلار (۳) ده میلیون دلار (۴) سیزده میلیون دلار

۱۹- با توجه به سوالات زیر، صحیح‌ترین پاسخ به موارد زیر در کدام گزینه آمده است؟

- الف) در کدام دوره‌ی تاریخی، ایران برخلاف سایر کشورهای منطقه گرفتار ضعف‌های ساختاری در اقتصاد بود؟
ب) دولت‌ها برای کنترل تورم، چگونه می‌توانند بر میزان عرضه کالاها در کوتاه مدت اثر بگذارند؟



ج) با توجه به نقطه‌ی «A» در نمودار مقابل، بازار در چه وضعیتی قرار دارد؟

- (۱) الف) دوره‌ی قاجار - ب) افزایش واردات - ج) مازاد عرضه نیروی کار
(۲) الف) دوره‌ی پهلوی - ب) افزایش ظرفیت‌های تولیدی - ج) مازاد تقاضای نیروی کار

(۳) الف) دوره‌ی قاجار - ب) افزایش ظرفیت‌های تولیدی - ج) نبود تقاضای نیروی کار

(۴) الف) دوره‌ی پهلوی - ب) افزایش واردات - ج) کمبود عرضه نیروی کار



۲۰- با توجه به موارد «الف» و «ب» کدام گزینه صحیح است؟
الف) این نوع از بیکاری در موقع رکود اقتصادی رخ می‌دهد.
ب) زمانی که افزایش نقدینگی با افزایش تولید هماهنگ نباشد، اعمال این سیاست پولی از طریق بانک مرکزی راهگشا است.

- ۱) الف) بیکار دوره‌ای - ب) سیاست افزایش نقدینگی
- ۲) الف) بیکاری ساختاری - ب) سیاست افزایش نقدینگی
- ۳) الف) بیکاری دوره‌ای - ب) سیاست پولی انقباضی
- ۴) الف) بیکاری ساختاری - ب) سیاست پولی انبساطی

۲۱- جمله‌ی زیر کدام مفهوم اقتصادی را بهتر تعریف می‌کند؟
«تعامل مقتدرانه، منطقی و از روی تدبیر با سایر کشورها نشان از عملکرد صحیح یک کشور در سطح بین‌المللی است.»

- ۱) اقتصاد مقاومتی
- ۲) استقلال مقاومتی
- ۳) اقتصاد پایدار
- ۴) تاب‌آوری اقتصادی

۲۲- هر یک از جملات زیر مربوط به کدام دوره‌ی تاریخی در ایران است؟
الف) در این دوران در حالی که کشورهای دیگر منطقه همچون مصر و ترکیه و سوریه و لبنان، در روند تجارت و گسترش تولید و صادرات محصولات کشاورزی، رشد مطلوبی داشتند، ایران گرفتار ضعف‌های ساختاری در اقتصاد بود.

ب) ویژگی عمده‌ی این دوره جدا شدن اقتصاد ایران از ابعاد هویتی، فرهنگی، اجتماعی، تاریخی و دینی خود بود.
ج) رونق و آبادانی اقتصاد ایران را در این دوران، در زیربنایها، عمران بندرها، بازارها، مدارس علمی و ... می‌توان دید.

- ۱) الف) دوره‌ی قاجار - ب) دوره‌ی قاجار - ج) تا اواسط حکومت صفویه
- ۲) الف) دوره‌ی صفویه - ب) دوره‌ی قاجار - ج) دوره‌ی پهلوی
- ۳) الف) دوره‌ی قاجار - ب) دوره‌ی پهلوی - ج) تا اواسط حکومت صفویه
- ۴) الف) دوره‌ی صفویه - ب) دوره‌ی پهلوی - ج) دوره‌ی پهلوی

۲۳- در کشور فرضی درصد تغییرات COI در کشور (الف) و (ب) با هم برابر است، هزینه‌ی سبد بازار در سال ۲۰۲۲ در کشور (ب) چقدر است؟

سال ۲۰۲۲	سال ۲۰۲۱	هزینه‌ی سبد بازار
؟	۵۱۰۰	الف
۷۷۰۰	۷۰۰۰	ب

- ۱) ۵۶۱۰ واحد پولی
- ۲) ۶۷۱۰ واحد پولی
- ۳) ۶۵۱۰ واحد پولی
- ۴) ۷۶۱۰ واحد پولی



۲۴- اطلاعات ارائه شده در جدول زیر، مربوط به یک جامعه‌ی فرضی است. با توجه به آن:

الف) نسبت نقدینگی به شبه پول چقدر است؟

ب) حجم پول چقدر است؟

۱	ارزش مسکوکات در دست مردم	۶۰٪ ارزش اسکناس‌ها
۲	ارزش اسکناس‌های نزد مردم	۶۲۰۰ واحد پولی
۳	میزان سپرده‌های دیداری	$\frac{1}{4}$ میزان سپرده‌های پس‌انداز بلندمدت
۴	میزان سپرده‌های پس‌انداز بلندمدت	۸۰۰۰ واحد پولی
۵	مجموع سپرده‌های دیداری و چک‌پول‌ها	۷۸۰۰ واحد پولی
۶	میزان سپرده‌های پس‌انداز کوتاه‌مدت	۲۰۰۰ واحد پولی

الف) $\frac{2}{772}$ - ب) $\frac{17}{720}$

الف) $\frac{1}{772}$ - ب) $\frac{21}{720}$

الف) $\frac{2}{772}$ - ب) $\frac{21}{720}$

الف) $\frac{1}{772}$ - ب) $\frac{17}{720}$

۲۵- با توجه به موارد (الف) و (ب) کدام گزینه صحیح است؟
الف) کدام انتخاب موجب گسترش تجارت در داخل کشورها و بین‌ملتها و رونق فعالیت‌هایی همچون دریانوردی و حمل و نقل شد؟

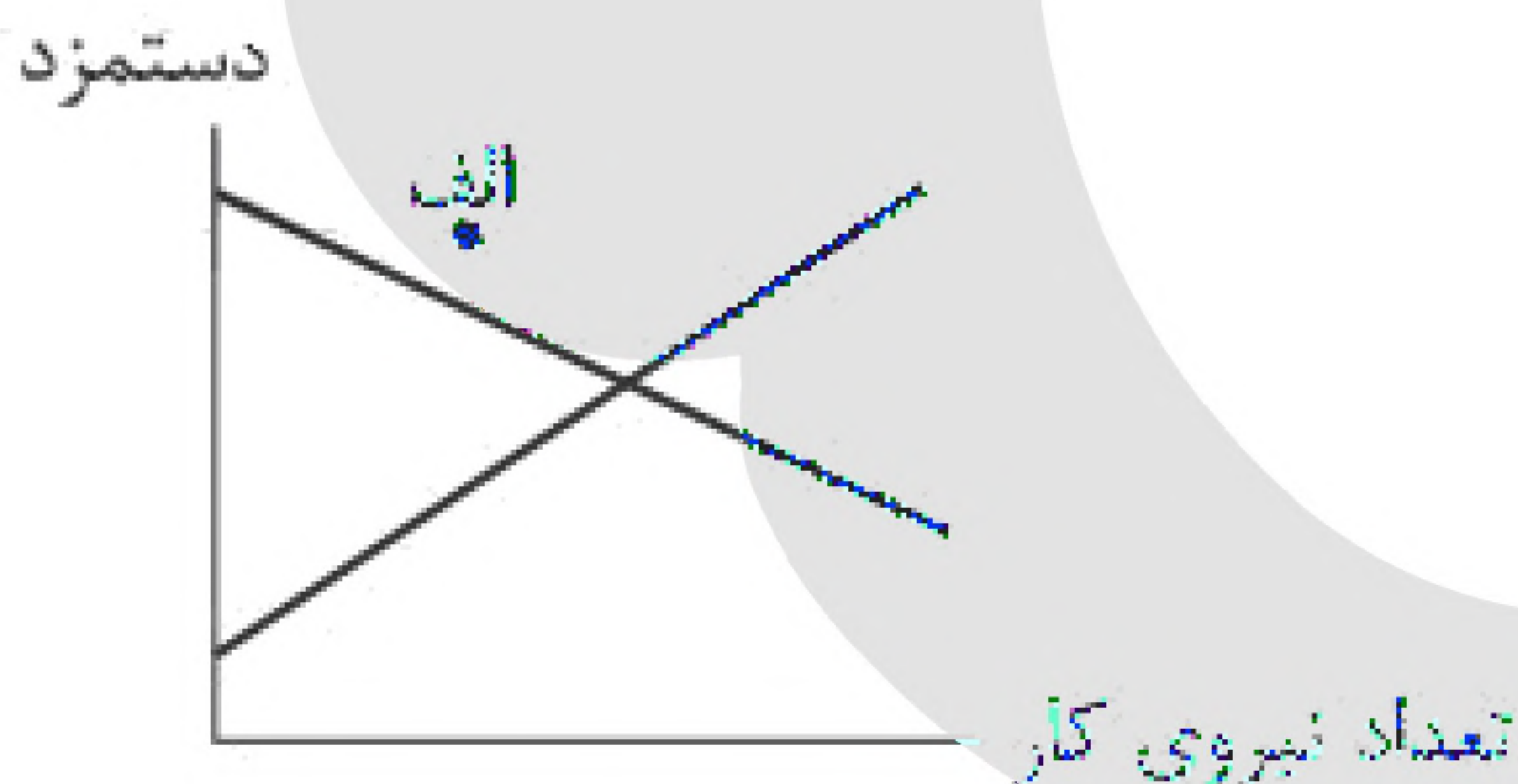
ب) نقش اصلی پول در مبادلات چیست؟

الف) رسیدهای معتبر نزد صرافی‌ها - ب) آسان‌سازی مبادله

الف) پول فلزی - ب) حفظ ارزش

الف) رسیدهای معتبر نزد صرافی‌ها - ب) حفظ ارزش

الف) پول فلزی - ب) آسان‌سازی مبادله



۲۶- کدام گزینه پاسخ صحیح پرسش‌های زیر است؟

الف) روش کلی در تعیین میزان فقر چیست؟

ب) کدام گزینه از عوامل مهم بیکاری و فقر نیست؟

ج) با توجه به نمودار مقابل در نقطه‌ی (الف) بازار با چه وضعیتی

مواجه است؟

الف) سنجش درآمد سرانه‌ی کشور و تعیین ارزش دلاری از طریق روش PPP و مشخص کردن سطح فقر - ب) بی‌ثباتی قیمت‌ها - ج) کمبود عرضه‌ی نیروی کار

الف) مقایسه‌ی نیازمندی‌های افراد با توانمندی آنان برای دستیابی به آن نیازمندی‌ها ب) افزایش واردات و صادرات - ج) مازاد عرضه‌ی نیروی کار

الف) سنجش درآمد سرانه‌ی کشور و تعیین ارزش دلاری از طریق روش PPP و مشخص کردن سطح فقر - ب) قاچاق یا واردات کالاهای مشابه با نمونه‌ی داخلی - ج) مازاد تقاضای نیروی کار

الف) مقایسه‌ی نیازمندی‌های افراد با توانمندی آنان برای دستیابی به آن نیازمندی‌ها ب) قانون‌گذاری‌های داخلی متعدد، متناقض و دائماً در حال تغییر - ج) کمبود تقاضای نیروی کار



۲۷- با توجه به موارد (الف) و (ب) کدام گزینه صحیح است؟

(الف) این بیکاری هنگام رکود اقتصادی اتفاق می‌افتد.

- (ب) مطابق با معیارهای بانک جهانی، درآمد افرادی که زیر خط فقر مطلق قرار دارند، چقدر است؟
- (۱) (الف) بیکاری دوره‌ای - (ب) ۱/۹ دلار
- (۲) (الف) بیکاری اصطکاکی - (ب) ۱/۴ دلار
- (۳) (الف) بیکاری دوره‌ای - (ب) ۱/۹ دلار
- (۴) (الف) بیکاری اصطکاکی - (ب) ۱/۹ دلار

۲۸- در یک کشور فرضی با ۹۸ میلیون نفر جمعیت، ۲۸ میلیون نفر زیر ۱۵ سال سن دارند، ۳۰ میلیون نفر غیرفعال و ۲۰

میلیون نفر شاغل هستند. در این کشور نرخ بیکاری چقدر است؟

- (۱) ۶۶٪ (۲) ۵۲٪ (۳) ۵۰٪ (۴) ۶۴٪

۲۹- به ترتیب درستی یا نادرستی گزاره‌های زیر در کدام گزینه به درستی بیان شده است؟

(الف) در فقر مطلق، تعریف فقر نسبت به وضعیتی که در آن هستیم، محاسبه می‌شود و در نتیجه معیار فقر در مناطق و زمان‌های مختلف متفاوت است.

(ب) با توجه به تعریف فقر مطلق، محاسبه‌ی تعداد افراد فقیر بسیار سخت، پیچیده و شاید ناممکن است. در نتیجه مفهوم فقر نسبی، به کار گرفته می‌شود.

(ج) در شاخص فقر مطلق، ارزش دلار از طریق نرخ ارز رایج در بازار محاسبه می‌شود.

(د) مطابق با معیار بانک جهانی، افرادی که زیر ۱/۹ دلار در روز درآمد دارند، زیر خط فقر مطلقاند و از تأمین احتياجات اولیه‌ی زندگی خود عاجزند.

- (۱) ص - ص - ص - غ (۲) ص - ص - غ - غ (۳) غ - غ - ص - ص (۴) غ - غ - غ - ص

۳۰- وضعیت توزیع درآمد کشور A در سال گذشته در جدول زیر

آمده است. از دهک چهارم تا دهک اول، تفاوت هر دهک با دهک قبلی ۱ درصد است، همچنین مجموع سهم دهک دهم و نهم از درآمد ملی ۴۵ درصد و تفاوت سهم این دو دهک ۱۳ درصد است. اگر درآمد ملی کشور A در سال گذشته ۵۰,۰۰۰ میلیارد واحد پولی باشد، به ترتیب سهم ۱۰ درصد جمعیت پایین و کم درآمد جامعه و سهم ۲۰ درصد بالا و پردرآمد جامعه از درآمد ملی چند میلیارد واحد پولی است؟

وضعیت توزیع درآمد کشور A	
سهم دهک اول	۴
سهم دهک دوم	۴
سهم دهک سوم	۴
سهم دهک چهارم	۶ درصد
سهم دهک پنجم	۷ درصد
سهم دهک ششم	۸ درصد
سهم دهک هفتم	۱۰ درصد
سهم دهک هشتم	۱۲ درصد
سهم دهک نهم	۴
سهم دهک دهم	۴
۱۰۰٪ جمعیت	۱۰۰٪ درآمد ملی

(۱) ۱۵۰۰ - ۲۲۵۰۰

(۲) ۱۵۰۰ - ۵۵۲۰

(۳) ۲۲۵۰ - ۵۵۲۰

(۴) ۲۲۵۰ - ۲۲۵۰۰

۳۱- اگر هزینه سبد بازار کشور A در سال ۲۰۰۰، ششصد و شصت میلیون تومان و در سال ۱۹۹۹، ششصد میلیون تومان

باشد، شاخص cpi این کشور در سال ۲۰۰۰ کدام است؟

- (۱) ۲۰ درصد (۲) ۵ درصد (۳) ۱۰ درصد (۴) ۱۵ درصد



۳۲- کدام گزینه در ارتباط با «شاخص توسعه‌یافتگی و توسعه‌نیافتگی» در تعدادی از کشورهای جهان، صحیح است؟

- (۱) «امید به زندگی در بدو تولد» در نروژ ۸۵/۶ سال است.
- (۲) «میانگین سال‌های تحصیلی» در سوئیس ۱۳/۴ سال است.
- (۳) «رتبه‌ی (HDI)» در آلمان ۲ است.
- (۴) درآمد ناخالص ملی سرانه (GNI) در ایرلند ۵۹/۳۷۵ دلار PPP است.

سهام دهک اول	۳ درصد
سهام دهک دوم	۴/۵ درصد
سهام دهک سوم	۵ درصد
سهام دهک چهارم	۶/۵ درصد
سهام دهک پنجم	۸ درصد
سهام دهک ششم	۱۲/۵ درصد
سهام دهک هفتم	۱۳ درصد
سهام دهک هشتم	؟
سهام دهک نهم	۱۵/۵ درصد
سهام دهک دهم	؟

۳۳- با توجه به جدول توزیع درآمد زیر:

الف) اگر اختلاف بین دهک پنجم و دهک هشتم، ۷ درصد باشد؛ به ترتیب سهم دهک هشتم و دهم چقدر است؟

ب) شاخص دهک‌ها چقدر است؟

- (۱) الف) ۹ درصد - ۲۳ درصد ب) ۵/۶
- (۲) الف) ۹ درصد - ۲۳ درصد ب) ۴/۳
- (۳) الف) ۱۵ درصد - ۱۷ درصد ب) ۵/۶
- (۴) الف) ۱۵ درصد - ۱۷ درصد ب) ۴/۳

وضعیت توزیع	درآمد
سهام دهک اول	۴ درصد
سهام دهک دوم	۵ درصد
سهام دهک سوم	۶ درصد
سهام دهک چهارم	۸ درصد
سهام دهک پنجم	۹ درصد
سهام دهک ششم	؟
سهام دهک هفتم	۱۳ درصد
سهام دهک هشتم	؟
سهام دهک نهم	۱۵ درصد
سهام دهک دهم	۱۶ درصد
۱۰۰٪ جمعیت کشور	۱۰۰٪ درآمد ملی کشور

۳۴- با توجه به جدول توزیع درآمد زیر که مربوط به یک جامعه فرضی است، کدام گزینه صحیح است؟

- (۱) اگر تفاوت سهم دهک پنجم و ششم یک درصد باشد، آنگاه سهم دهک ششم برابر با ۱۲ درصد است.
- (۲) اگر مجموع سهم دهک هشتم و دهم ۳۰ درصد باشد، آنگاه سهم دهک هشتم برابر با ۱۴ درصد است.
- (۳) شاخص دهک‌ها در این جامعه برابر با ۸ است.

(۴) اگر درآمد ملی معادل ۱۵,۰۰۰ میلیارد واحد پولی باشد، سهم دهک دوم از درآمد ملی ۸۲۰ میلیارد واحد پولی خواهد بود.



۳۵- جدول زیر بیانگر قیمت سه نوع کالا در یک سال معین است. چنانچه درصد تورم در قیمت این کالاها برابر باشد، قیمت کالاهای A و C به ترتیب در ابتدای سال و انتهای سال، چقدر است؟

کالا	قیمت	ابتدای سال (به ریال)	انتهای سال (به ریال)
A	؟	۹۶,۰۰۰	؟
B	۲۷۰,۰۰۰	۴۶۲,۵۰۰	؟
C	۲۹۰,۵۰۰	؟	؟

(۲) ۷۶,۸۰۰ - ۳۶۳,۱۲۵

(۴) ۱۲۰,۰۰۰ - ۳۶۳,۱۲۵

(۱) ۱۲۰,۰۰۰ - ۲۳۲,۴۰۰

(۳) ۷۶,۸۰۰ - ۲۳۲,۴۰۰

۳۶- کدام گزینه در مورد مسیر تاریخی اقتصاد ایران، صحیح است؟

- (۱) تغییر و تحول سریع در اروپا و رقابت شدید نظامی و تجاری کشورها با یکدیگر همزمان با نیمه اول حکومت صفویه در ایران بود که اقتصادی یکپارچه و مستقل پایه‌ریزی شد.
- (۲) در دوران قاجار، سیاست‌های رکودکی و انقباضی، اعطای امتیازها به شرکت‌ها و کشورهای استعماری، بیانیه‌های در حمایت از تولید ملی، تأسیس دارالفنون و برقراری نظم مالی و اداری توسط امیرکبیر بسیار اثربخش بود و توانست تا حدی ایران را از ضعف‌های ساختاری در اقتصاد برهاند.
- (۳) در دوران پهلوی اقداماتی مانند ایجاد زمینه‌های قانونی و زیرساخت‌های مواصلاتی، گسترش مدارس و دانشگاه‌ها و بهبود نسبی بهداشت هم نتوانست اقتصاد ایران را از ضعف ساختاری و هویتی برهاند.
- (۴) تعدی حکومت بر موقوفات و مالکیت‌های خصوصی در زمان قاجار، سبب غفلت از سرمایه‌های انسانی و اجتماعی شد و دست‌اندازی دولت در اقتصاد را بیشتر کرد.

۳۷- جملات زیر به ترتیب به کدام یک از وظایف پول اشاره دارند؟

- الف) واحد ارزش در اتحادیه‌ی اروپا یورو، در آمریکا دلار و در ایران ریال (تومان) است.
 - ب) خریدهای اقساطی و رد و بدل کردن حواله‌های بانکی
 - ج) نقش اصلی پول در مبادلات، آسان‌سازی مبادله است.
 - د) برخی اوقات افراد تمایل دارند بخشی از ثروت و دارایی خود را به شکل پول نگه دارند.
- (۱) الف) وسیله‌ی سنجش ارزش ب) وسیله‌ی پرداخت‌های آینده ج) وسیله‌ی پرداخت‌های آینده د) وسیله‌ی سنجش ارزش
 - (۲) الف) وسیله‌ی پس‌انداز و حفظ ارزش ب) وسیله‌ی پرداخت‌های آینده ج) وسیله‌ی پرداخت‌های آینده د) وسیله‌ی پس‌انداز و حفظ ارزش
 - (۳) الف) وسیله‌ی سنجش ارزش ب) وسیله‌ی پرداخت‌های آینده ج) وسیله‌ی پرداخت در مبادلات د) وسیله‌ی پس‌انداز و حفظ ارزش
 - (۴) الف) وسیله‌ی پس‌انداز و حفظ ارزش ب) وسیله‌ی پس‌انداز و حفظ ارزش ج) وسیله‌ی پرداخت در مبادلات د) وسیله‌ی سنجش ارزش



- ۳۸- دوره تغییر و تحول سریع در اروپا و شکل‌گیری قدرت‌های بزرگ در آن قاره، مصادف با کدام حکومت در ایران و به چه دلیل بوده است؟
- (۱) همزمان با دوره پایانی حکومت صفویه و به دلیل گسترش تجارت، تولید و صادرات محصولات کشاورزی بود.
- (۲) همزمان با نیمه اول حکومت صفویه و به دلیل رشد تعداد مراکز علمی و تجهیز زیرساخت‌ها و نیز دست‌اندازی به ثروت سایر ملل بود.
- (۳) همزمان با دوره پایانی حکومت صفویه و به دلیل رقابت شدید نظامی و تجاری کشورهای اروپایی با یکدیگر و استعمار سایر کشورها بود.
- (۴) همزمان با نیمه اول حکومت قاجار و به دلیل رشد تجارت خارجی و بهبود و تجهیز زیرساخت‌ها و نیز برقراری نظام نوین مالیات‌ستانی بود.

- ۳۹- در رابطه با «اقدامات اقتصادی دوره پهلوی» کدام مورد نادرست است؟
- (۱) بسیاری از کارخانجات بزرگ و زیرساخت‌های صنعتی در این دوران ساخته شد.
- (۲) در نتیجه افزایش درآمدهای نفتی، قدرت اقتصادی دولت افزایش یافت و بخشی از درآمدهای نفتی کشور صرف ساخت و ساز شد.
- (۳) نوسازی و توسعه ایران در این زمان به صورتی سطحی و با صنایع مونتاژ انجام می‌شد.
- (۴) در این دوره، دولت حضور بسیار محدود و کمی در عرصه اقتصاد کشور داشت و نظام مالیات‌گیری و بودجه‌بندی کشور همانند دوران قاجار بود و دولت نتوانست نظام نوینی را در مالیات‌گیری و بودجه‌بندی کشور پدید آورد.

وضعیت توزیع درآمد در کشور A	
سهم دهک اول	۳ درصد
سهم دهک دوم	۵ درصد
سهم دهک سوم	۷ درصد
سهم دهک چهارم	۹ درصد
سهم دهک نهم	۱۸ درصد
سهم دهک دهم	۲۱ درصد

- ۴۰- وضعیت توزیع درآمد در کشور A، مطابق جدول مقابل است. با توجه به دو فرمول نسبت ۲۰ درصد بالا به ۲۰ درصد پایین و نسبت ۱۰ درصد بالا به ۴۰ درصد پایین، پاسخ پرسش‌های الف، ب و ج کدام است؟
- الف) کدام شاخص، توزیع درآمد در این کشور را مناسب‌تر نشان می‌دهد؟
- ب) کدام شاخص، بیانگر نامناسب‌تر بودن توزیع درآمد در این کشور است؟
- ج) اگر شاخص دهک‌ها در کشور فرضی B برابر با ۵ باشد، وضعیت توزیع درآمد در کدام کشور مناسب‌تر است؟
- (۱) الف: نسبت ۱۰ درصد بالا به ۴۰ درصد پایین ب: نسبت ۲۰ درصد بالا به ۲۰ درصد پایین ج: کشور A

- (۲) الف: نسبت ۲۰ درصد بالا به ۲۰ درصد پایین ب: نسبت ۱۰ درصد بالا به ۴۰ درصد پایین ج: کشور A
- (۳) الف: نسبت ۱۰ درصد بالا به ۴۰ درصد پایین ب: نسبت ۲۰ درصد بالا به ۲۰ درصد پایین ج: کشور B
- (۴) الف: نسبت ۲۰ درصد بالا به ۲۰ درصد پایین ب: نسبت ۱۰ درصد بالا به ۴۰ درصد پایین ج: کشور B