

گنجینه سوال رایگان  
+ پاسخ تشریحی

یاوران دانش



راه های ارتباطی با ما:

[www.Dyavari.com](http://www.Dyavari.com)

۰۲۱-۷۶۷۰۳۸۵۸

۰۹۱۲-۳۴ ۹۴ ۱۳۴





- ۱- مفهوم «مقرون به صرفه بودن» در تجارت، با کدام عبارت متناسب است؟  
(۱) بهبود عملکرد بازار (۲) کاهش تعرفه‌ها (۳) مزیت اقتصادی (۴) رونق اقتصادی

مالیات بر مصرف	۲۰۰ میلیون تومان
مالیات بر درآمد اشخاص	۸۰ میلیون تومان
مالیات بر دارایی	$\frac{1}{3}$ مالیات بر درآمد
مالیات بر درآمد	۳۳۰ میلیون تومان
عوارض نوسازی	۲۵ درصد مالیات بر مصرف
VAT	۲ برابر مالیات بر دارایی

- ۲- با توجه به جدول زیر که میزان مالیات پرداختی در یک جامعه را ارائه می‌دهد، پاسخ‌های پرسش‌های زیر به ترتیب کدام است؟  
الف: مجموع میزان مالیات مستقیم چند میلیون تومان است؟  
ب: مجموع میزان پرداختی برای مهم‌ترین نوع مالیات چند میلیون تومان است؟  
ج: افراد این جامعه چند میلیون تومان مالیات غیرمستقیم پرداخته‌اند؟

(۲) ۵۲۰، ۸۰، ۴۷۰

(۴) ۴۴۰، ۸۰، ۴۷۰

(۱) ۴۴۰، ۱۱۰، ۲۵۰

(۳) ۵۲۰، ۱۱۰، ۲۵۰

- ۳- هریک از عبارت‌های زیر به کدام نوع مالیات اشاره دارد؟  
- مالیاتی که از مالیات‌ستانی مضاعف جلوگیری می‌کند.  
- معمولاً برای حمایت از صنایع داخلی نیز به کار گرفته می‌شود.  
- مهم‌ترین نوع مالیات است.  
- اساس و مبنای آن ثروت مؤدی است.  
(۱) مالیات بر درآمد - مالیات بر مصرف - مالیات بر ارزش افزوده  
(۲) مالیات بر درآمد - عوارض گمرکی - مالیات بر مصرف - مالیات بر ارزش افزوده  
(۳) مالیات بر ارزش افزوده - مالیات بر مصرف - مالیات بر ارزش افزوده - مالیات بر دارایی  
(۴) مالیات بر ارزش افزوده - عوارض گمرکی - مالیات بر درآمد اشخاص - مالیات بر دارایی

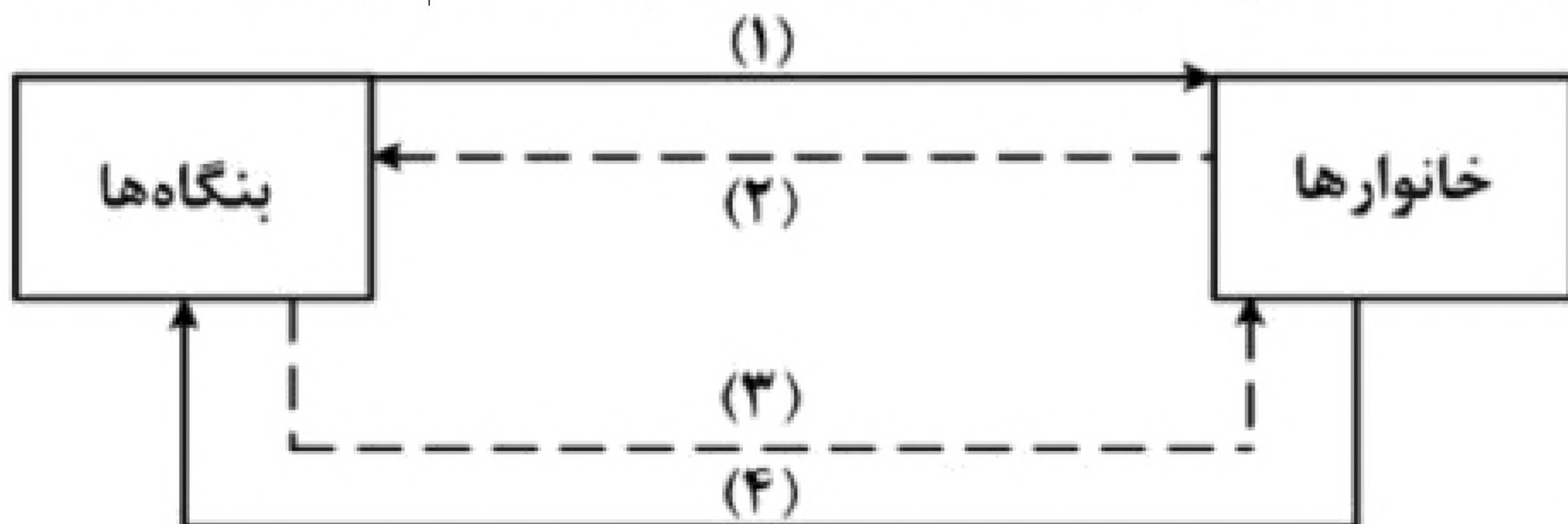
- ۴- رابطه قیمت و تقاضا در کالاهای جانشین و مکمل مانند برنج، ماکارانی، قند و چای را در نظر بگیرید. کدام مورد درست است؟

- (۱) با افزایش قیمت برنج، تقاضای ماکارانی افزایش می‌یابد.  
(۲) افزایش قیمت قند، موجب افزایش تقاضای چای می‌شود.  
(۳) با کاهش قیمت برنج، تقاضای ماکارانی افزایش می‌یابد.  
(۴) کاهش قیمت قند، تقاضای قند را کاهش می‌دهد.





۵- شکل زیر جریان چرخه اقتصادی بین خانوارها و بنگاه‌ها را نشان می‌دهد. کدام مورد درست است؟



- (۱) جریان ۲ و ۴ بیانگر عرضه و تقاضای بازار کالا است.  
(۲) رابطه شماره ۱ و ۴ به ترتیب بازار عوامل تولید و کالا و خدمات را بیان می‌کند.  
(۳) رابطه بنگاه‌ها و خانوارها در شماره ۳ و ۴ به ترتیب جریان درآمد و عوامل تولید را نشان می‌دهد.  
(۴) جریان شماره ۲ و ۴ به ترتیب، مجموعه خریداران و فروشندگان کالاها و خدمات را نشان می‌دهد.

۶- کدام مورد در رابطه با قرارداد «گات» درست است؟

- (۱) کشورهای آلمان و اروپای شرقی و ایالات متحده در جهت تقویت و حمایت از صنایع داخلی خود، تعرفه‌های حمایتی متعددی بر کالاهای وارداتی وضع کردند.  
(۲) کنگره آمریکا، تعرفه‌های گمرکی را تا ۵۲ درصد افزایش داد و سایر کشورها به تلافی این اقدام، تجارت خود را با آمریکا کاهش دادند و قرارداد تجارت آزاد، مشهور به «گات» را امضا کردند.  
(۳) سیاست‌های حمایت‌گرایانه ایالات متحده و برخی کشورهای اروپایی باعث به وجود آمدن مشکلاتی شده بود که کنفرانس پولی و مالی سازمان ملل به نام گات در سال ۱۹۴۴ تشکیل شد.  
(۴) بیست و سه کشور برای جلوگیری از اقدامات حمایت‌گرایانه کشورها علیه یکدیگر و حفظ روابط تجاری بین خودشان قراردادی غیررسمی را امضا کردند که بعدها به سازمان دائمی تجارت جهانی تبدیل شد.

۷- با توجه به اثر هریک از روش‌های درآمدزایی دولت، کدام یک از موارد زیر درست نیست؟

- (۱) درآمد ناشی از فروش دارایی‌های تجدیدنپذیر به دلیل نوسان قیمت و وابستگی به قیمت بازارهای بین‌المللی، درآمد قابل اطمینانی نیست.  
(۲) ایجاد بدهی از طریق قرض از مردم در هنگام سرمایه‌گذاری عمرانی با فروش اوراق مشارکت، یک نوع درآمد پایدار و مؤثر در اقتصاد کشور است.  
(۳) اگر درآمد حاصل از فروش دارایی‌ها به خلق دارایی جدید منجر نشود، حتماً نسل‌های آینده متضرر می‌شوند.  
(۴) درآمد حاصل از مالیات‌ها فراتر از کسب درآمد است زیرا رفتار مصرف‌کنندگان را اصلاح می‌کند.

۸- یک دامدار، شیر تولیدی خود را به کارگاه تولید محصولات لبنی ۲ میلیون تومان می‌فروشد. کارگاه خامه تولید شده از شیر را به شیرینی‌پزی به قیمت ۳ میلیون تومان می‌فروشد و شیرینی‌پز کیک درست شده از خامه را به مغازه‌دار ۴ میلیون تومان می‌فروشد و مغازه‌دار آن کیک را به قیمت ۵ میلیون تومان به مشتری می‌فروشد. اگر نرخ VAT، ده درصد باشد، مجموع مالیات بر ارزش افزوده جمع‌آوری شده و مالیات بر ارزش افزوده خالص جمع‌آوری شده توسط مغازه‌دار به ترتیب چند هزار تومان است؟

- (۱) پانصد - صد  
(۲) چهارصد - صد  
(۳) نهصد - چهارصد  
(۴) یک میلیون و چهارصد - چهارصد





۹- کدام مورد، هزینه فرصت اجتماعی «کمک‌های بلاعوض به فقرا» را تبیین می‌کند؟

- (۱) کمک به افراد کم‌توان مالی، انتظار آنها را افزایش می‌دهد و به عدم فعالیت اقتصادی تشویق می‌کند.
- (۲) دولت باید از همه مردم مالیات بیشتر بگیرد که در بیشتر اوقات امکان‌پذیر نیست.
- (۳) کمک دولت به افراد نیازمند، سبب افزایش اشتغال در جامعه می‌شود.
- (۴) با اختصاص منابع به این نوع کمک‌ها، سرمایه برای فعالیت‌های مولد کاهش می‌یابد.

۱۰- کشور الف و ب فقط دو محصول برنج و چای تولید می‌کنند. کشور الف به ازای هر کیلو چای که تولید می‌کند از تولید ۵ کیلو برنج صرف‌نظر می‌کند. کشور ب به ازای هر کیلو چای که تولید می‌کند از تولید ۸ کیلو برنج صرف‌نظر می‌کند. با توجه به اطلاعات ارائه شده، کشور الف دارای کدام مزیت است؟

- (۱) مزیت نسبی در تولید برنج
- (۲) مزیت نسبی در تولید چای
- (۳) مزیت مطلق در تولید برنج
- (۴) مزیت مطلق در تولید چای

۱۱- کدام سیاست اقتصادی، جهت مقابله با تحریم‌های تجاری مناسب است؟

- (۱) افزایش درآمد سرانه
- (۲) افزایش ارزش پولی صادرات و واردات
- (۳) کاهش حجم نقدینگی و حفظ ارزش پول ملی
- (۴) افزایش نسبت صادرات غیرنفتی به تولید کل

تعارف‌های گمرکی	۱۸۰ میلیون تومان
مالیات بر درآمد اشخاص	$\frac{1}{5}$ مالیات بر دارایی
مالیات بر دارایی	۲۴۰ میلیون تومان
عوارض خودرو	۳۵ میلیون تومان
مالیات شکر	۱۵ میلیون تومان

۱۲- با توجه به جدول میزان مالیات پرداختی در یک جامعه برای

موارد الف و ب به ترتیب، چند میلیون تومان است؟

الف) مجموع میزان مالیات مستقیم پرداختی

ب) مجموع میزان مالیات غیرمستقیم پرداختی

(۱) ۲۸۸ و ۲۱۵

(۲) ۲۸۸ و ۲۳۰

(۳) ۳۰۴ و ۲۱۵

(۴) ۳۰۴ و ۲۳۰

۱۳- در هنگام عدم تعادل، در وضعیت کمبود تقاضا در بازار، دولت از ابزار مالیات‌گیری جهت بهبود عملکرد بازار استفاده

می‌کند، از کدام نوع مالیات و با چه هدفی، مالیات گرفته می‌شود؟

- (۱) مالیات مستقیم - کسب درآمد
- (۲) مالیات مستقیم - کاهش مصرف
- (۳) مالیات غیرمستقیم - حمایت از مصرف‌کننده
- (۴) مالیات غیرمستقیم - کاهش مصرف

۱۴- در جریان چرخه فعالیت‌های اقتصادی، کدام مورد بیان مناسبی در رابطه با تعاملات بین بازیگران کلیدی است؟

- (۱) خانوارها با درآمدی که از فروش عوامل تولید کسب کرده‌اند، خدمات موردنیاز خود را از بنگاه خریداری می‌کنند.
- (۲) خانوارها باید منابع را از کارخانه‌های تولیدی خریداری کنند و نیروی کار را به بنگاه‌ها اجاره دهند.
- (۳) بازار فقط شامل مجموعه خریداران و فروشندگان چیزی در مکان خاصی می‌باشد.
- (۴) بنگاه‌ها در مبادلات خود با خانوارها باید به صورت حقیقی در بازار حضور یابند.





۱۵- پاسخ پرسش‌های زیر، به ترتیب کدام است؟

- کدام مورد از سطوح چهارگانه آمارهای اقتصادی، خرد تلقی می‌شود؟
- هریک از موارد «لوازم التحریر»، «صید ماهی در دریاها و رودخانه‌ها»، «فعالیت‌های فرهنگی و فردی» و «تولید و تکثیر آبزیان در حوضچه‌های مخصوص»، به ترتیب جزو کدام نوع تولید و رسیدن به محصول است؟
- شیب منحنی عرضه نشان‌دهنده کدام است و چنانچه شیب منحنی عرضه تولیدکننده‌ای بیشتر باشد، کشش قیمتی عرضه، چگونه خواهد بود؟

- (۱) روستایی، شهری - احیاء، حیازت، صنعت، خدمات - «میزان حساسیت تولیدکننده نسبت به میزان تولید»، «زیاد»
- (۲) روستایی، شهری - صنعت، حیازت، محصولات نرم، احیاء - «میزان حساسیت تولیدکننده نسبت به میزان تولید»، «زیاد»

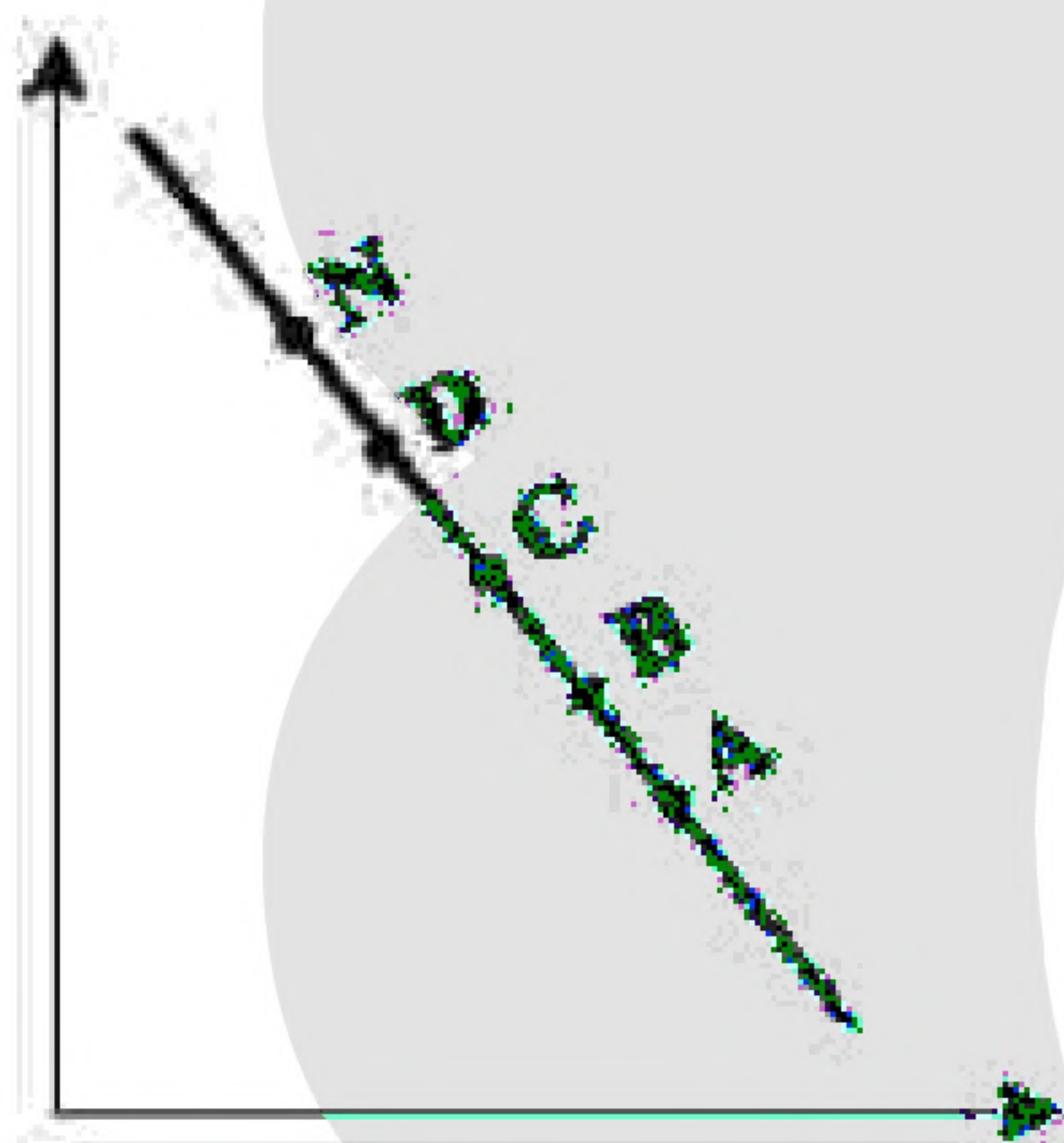
- (۳) خانوارها یا شرکت‌ها و مؤسسات تولیدی - احیاء، حیازت، صنعت، خدمات - «درجه حساسیت تولیدکننده نسبت به قیمت»، «پایین»

- (۴) خانوارها یا شرکت‌ها و مؤسسات تولیدی - صنعت، حیازت، محصولات نرم، احیاء - «درجه حساسیت تولیدکننده نسبت به قیمت»، «پایین»

۱۶- کدام مورد، عبارت زیر را تکمیل می‌کند؟

«در نمودار منحنی ..... ، حرکت از نقطه ..... به نقطه ..... بیانگر .....  
قیمت و حرکت از نقطه ..... به نقطه ..... بیانگر ..... قیمت است.»

- (۱) تقاضا، B، A، کاهش، D، N، افزایش
- (۲) عرضه، B، A، افزایش، D، N، کاهش
- (۳) عرضه، B، A، افزایش، N، D، کاهش
- (۴) تقاضا، B، A، کاهش، D، N، افزایش



«بانک سوال موسسه یاوران دانش»

۱۷- پاسخ پرسش‌های زیر، به ترتیب کدام است؟

- حقوق و عوارض گمرکی در واقع، مالیات بر کدام مورد است؟
- از دیدگاه اقتصاددانان «راه گسترش توسعه اقتصادی و افزایش سرعت روند توسعه یافتگی جامعه» و «مانع بر سر راه پیشرفت همه‌جانبه کشور»، به ترتیب کدام است؟

- (۱) تجارت خارجی - «رفع فقر و حمایت از اقشار کم‌درآمد»، «فقر گسترده»
- (۲) واردات و صادرات - «طراحی و اجرای سیاست‌های مناسب»، «فقر گسترده»
- (۳) تجارت خارجی - «طراحی و اجرای سیاست‌های مناسب»، «اعتیاد به مواد مخدر فراگیر»
- (۴) واردات و صادرات - «رفع فقر و حمایت از اقشار کم‌درآمد»، «اعتیاد به مواد مخدر فراگیر»





۱۸- پاسخ درست و کامل پرسش‌های زیر، به ترتیب کدام است؟

- «دستمزدها»، «درآمد صاحبان سرمایه»، «درآمد صاحبان املاک» و «سود شرکت‌ها و مؤسسات» در درون کدام شاخص قرار می‌گیرند؟
  - در کدام حالت، سرمایه‌گذاری‌های دولتی می‌تواند یکی از منابع تأمین درآمد دولت محسوب شود؟
  - عدم رعایت اصل مزیت‌های مطلق و نسبی، کدام نتایج را به دنبال خواهد داشت؟
- (۱) درآمد ملی - مبتنی بر هدف کسب سود و سودآوری باشد - اسراف و تبذیر منابع و سرمایه‌ها در فضای تولید، کاهش رفاه جوامع
- (۲) تولید خالص ملی - مبتنی بر هدف کسب سود و سودآوری باشد - تولید محصولات کمتر و با کیفیت بالاتر، افزایش رفاه جوامع
- (۳) تولید خالص ملی - در صورتی که منابع درآمدی نتواند تمام هزینه‌های دولتی را پوشش دهد - اسراف و تبذیر منابع و سرمایه‌ها در فضای تولید، کاهش رفاه جوامع
- (۴) درآمد ملی - در صورتی که منابع درآمدی نتواند تمام هزینه‌های دولتی را پوشش دهد - تولید محصولات کمتر و با کیفیت بالاتر، افزایش رفاه جوامع

۱۹- «سود یک شرکت یا حقوق یک کارمند که ماهانه تحقق می‌یابد» و «اتومبیل یا ساختمان یک شرکت که دارایی یا ثروت است» به ترتیب، به کدام متغیر اشاره دارد؟

- (۱) انباره، انباره (۲) انباره، جاری (۳) جاری، انباره (۴) جاری، جاری

۲۰- فرض کنید شخصی ماهیانه ۸۵ میلیون ریال درآمد دارد. با توجه به جدول مالیاتی زیر، پاسخ هریک از پرسش‌های الف، ب، ج و د کدام است؟

درآمدهای تا ۱۵ میلیون ریال	معاف از مالیات
درآمدهای تا ۲۵ میلیون ریال	با نرخ ۱۰٪ نسبت به مازاد ۱۵ میلیون ریال
درآمدهای تا ۳۵ میلیون ریال	با نرخ ۱۵٪ نسبت به مازاد ۲۵ میلیون ریال
درآمدهای تا ۶۵ میلیون ریال	با نرخ ۱۸٪ نسبت به مازاد ۳۵ میلیون ریال
درآمدهای بالاتر از ۶۵ میلیون ریال	با نرخ ۲۴٪ نسبت به مازاد ۶۵ میلیون ریال

الف- میزان مالیات ماهیانه او، چقدر است؟

ب- میزان مانده خالص ماهیانه او، چقدر است؟

ج- نام «نرخ مالیاتی» مورد محاسبه، کدام است؟

د- چنانچه این شخص  $\frac{1}{3}$  مانده خالص ماهیانه خود را در سرمایه‌گذاری جدید به کار گیرد، چه مقدار از این مانده برای

سایر هزینه‌های او باقی خواهد ماند؟

- (۱) الف: ۱۷,۲۰۰,۰۰۰ ب: ۶۷,۸۰۰,۰۰۰ ج: تصاعدی کلی د: ۴۵,۲۰۰,۰۰۰
- (۲) الف: ۱۷,۲۰۰,۰۰۰ ب: ۶۷,۸۰۰,۰۰۰ ج: تصاعدی طبقه‌ای د: ۴۵,۲۰۰,۰۰۰
- (۳) الف: ۱۲,۷۰۰,۰۰۰ ب: ۷۲,۳۰۰,۰۰۰ ج: تصاعدی کلی د: ۴۸,۲۰۰,۰۰۰
- (۴) الف: ۱۲,۷۰۰,۰۰۰ ب: ۷۲,۳۰۰,۰۰۰ ج: تصاعدی تصاعدی د: ۴۸,۲۰۰,۰۰۰





ردیف	قیمت به ریال	مقدار تقاضا به کیلو	مقدار عرضه به کیلو
۱	۱۰۰	۱۲۰۰	۰
۲	۱۵۰	۱۰۰۰	۲۰۰
۳	۲۰۰	۸۰۰	۴۰۰
۴	۲۵۰	۶۰۰	۶۰۰
۵	۳۰۰	۴۰۰	۸۰۰
۶	۳۵۰	۲۰۰	۱۰۰۰
۷	۴۰۰	۰	۱۲۰۰

۲۱- جدول زیر، نمودار: «تقاضا، عرضه، قیمت» در

یک جامعه بازاری فرضی است، در این صورت کدام یک از ردیف‌های جدول، بیان‌گر:

الف) مازاد عرضه است؟

ب) برابری میان «تقاضا و عرضه است و نام

«اصطلاح اقتصادی» آن کدام است؟

ج) کمبود عرضه است؟

۱) الف) ردیف: ۳ ب) ردیف: ۴- قیمت تعادلی

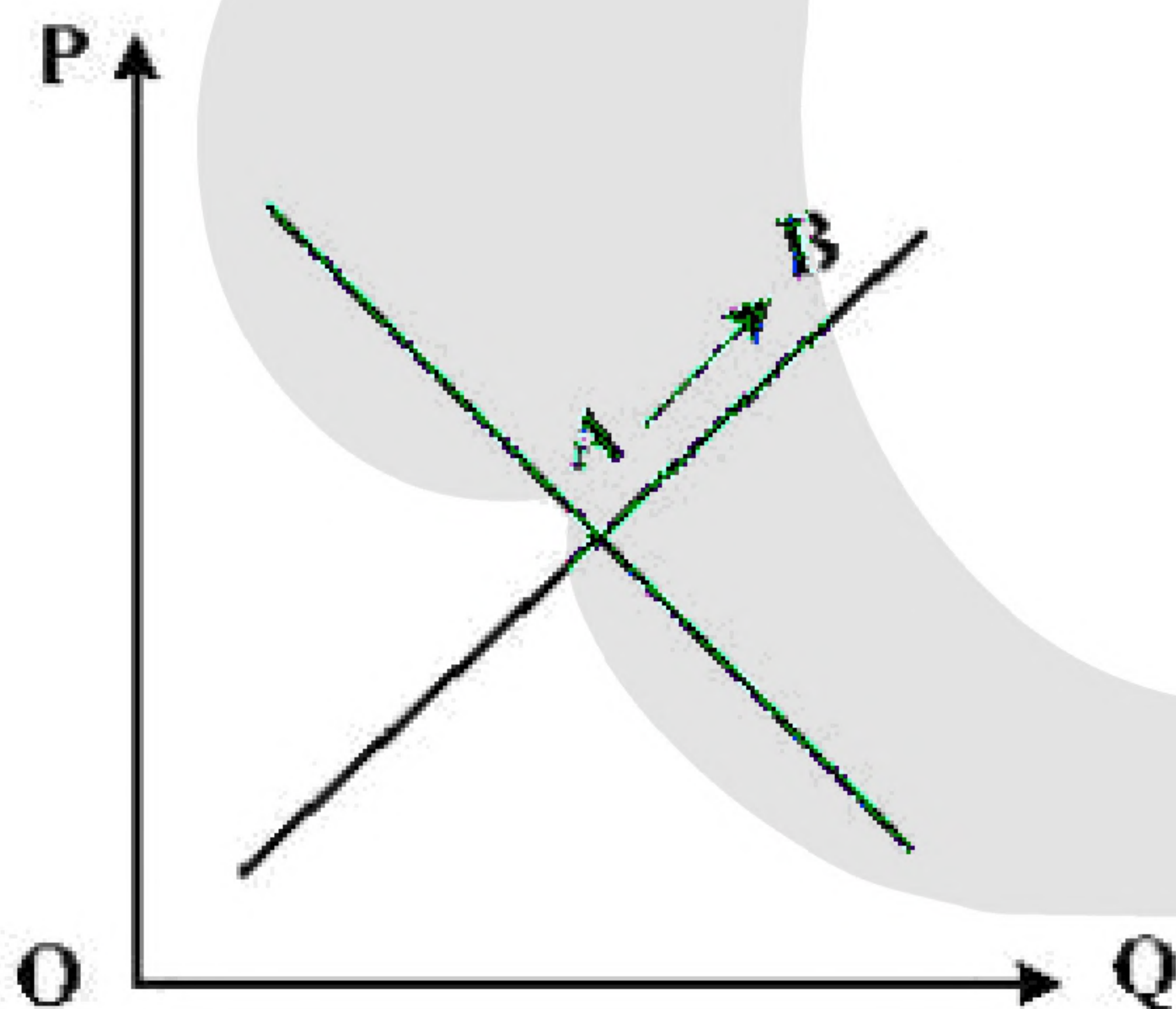
ج) ردیف ۳

۲) الف) ردیف: ۳ ب) ردیف: ۵- مقدار تعادلی

ج) ردیف ۴

۳) الف) ردیف: ۵ ب) ردیف: ۴- قیمت و مقدار تعادلی ج) ردیف ۳

۴) الف) ردیف: ۵ ب) ردیف: ۵- مقدار و قیمت تعادلی ج) ردیف ۴



۲۲- با توجه به نمودار منحنی ..... علت حرکت از نقطه‌ی A به

B کدام است؟

۱) تقاضا - افزایش عرضه

۲) عرضه - کاهش قیمت کالا

۳) تقاضا - کاهش مقدار عرضه

۴) عرضه - افزایش قیمت کالا





- ۲۳- پاسخ درست و کامل پرسش‌های زیر در کدام گزینه مطرح شده است؟
- الف) کدام اثر و نتیجه، مربوط به برقراری ارتباط بین عرضه‌کنندگان و تقاضاکنندگان سرمایه در فعالیتهای بورس تلقی می‌شود؟
- ب) دو مؤسسه‌ی تولید محصولات صنعتی و تولید محصولات کشاورزی در استفاده از کدام نهادهای تولید، اشتراک دارند؟
- ج) با توجه به مشکلات عدیده در دوران استفاده از کالاهای پولی انسان با استفاده از پول ..... از به کارگیری کالاها در مبادلات رهایی یافت و استفاده از برخی فلزات از جمله ..... را جایگزین آنها نمود.
- د) برخی از انواع بازارها را می‌توان دید که در قالب حراجی‌ها به دو صورت ..... فعالیت می‌کنند. فروشندگان آثار هنری با برگزاری نمایشگاه‌ها و حراجی‌ها از روش ..... و خریداران عمده‌ی کالاها و خدمات مثل خریدهای دولتی از روش ..... استفاده می‌کنند.
- ۱) الف) کاهش نرخ تورّم ب) ماشین‌آلات ج) کاغذی - اسکناس د) مزایده و مناقصه - مناقصه - مزایده
- ۲) الف) تنظیم معاملات بازار سرمایه ب) نیروی کار ج) فلزی - طلا و نقره د) مناقصه و مزایده - مزایده - مناقصه
- ۳) الف) افزایش حجم سرمایه‌گذاری ب) مواد اولیه ج) فلزی - مفرغ و نیکل د) رقابت و انحصار - مزایده - مناقصه
- ۴) الف) اجرای پروژه‌های بزرگ خصوصی و دولتی ب) سردخانه ج) پول کاغذی - رسیده‌های جایگزین پول د) رقابت و انحصار - مزایده - مناقصه

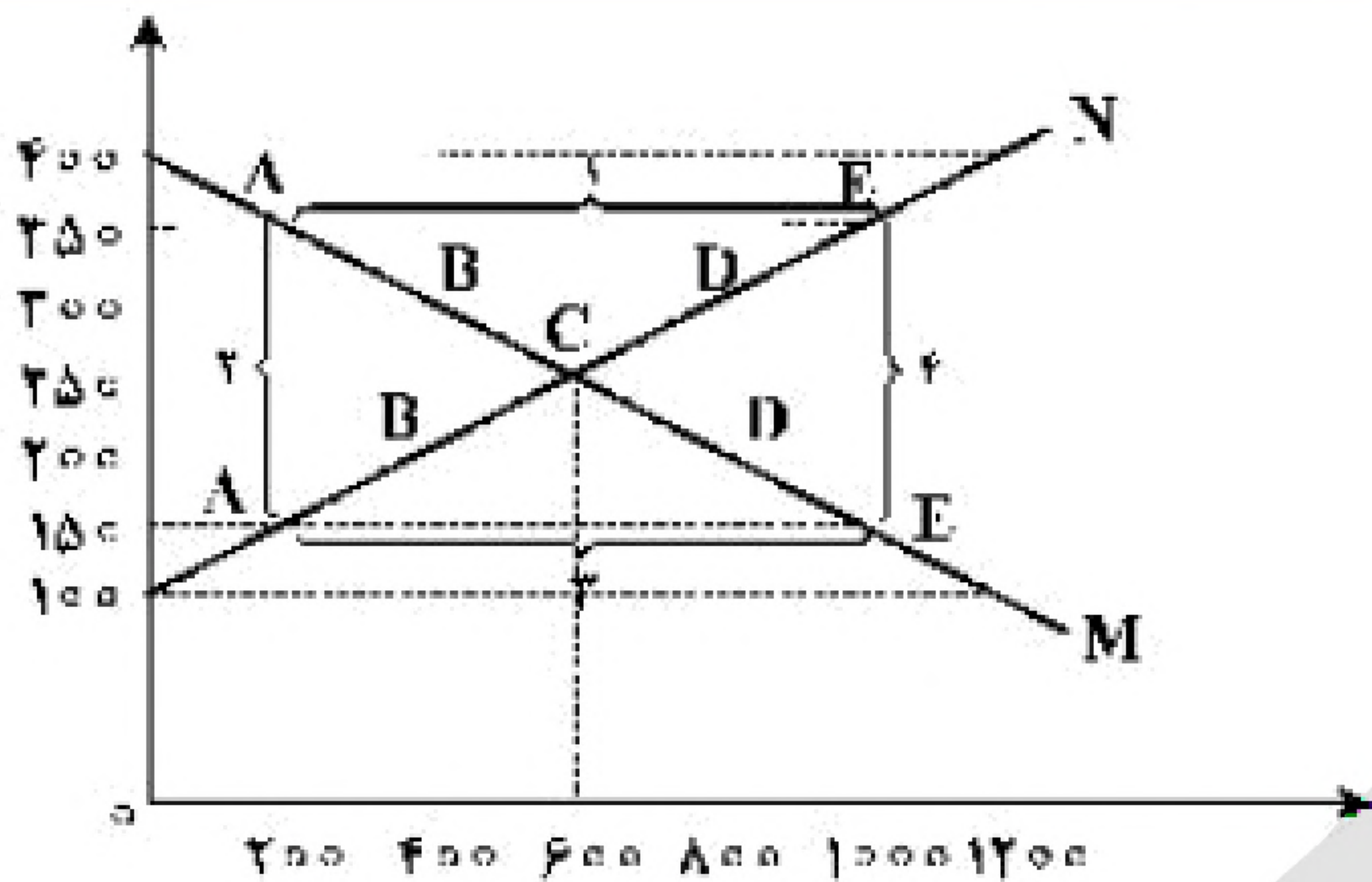
ردیف	قیمت را به ریال	مقدار تقاضا به کیلو	مقدار عرضه به کیلو
۱	۱۰۰	۱۲۰۰	۰
۲	۱۵۰	۱۰۰۰	۲۰۰
۳	۲۰۰	۸۰۰	۴۰۰
۴	۲۵۰	۶۰۰	۶۰۰
۵	۳۰۰	۴۰۰	۸۰۰
۶	۳۵۰	۲۰۰	۱۰۰۰
۷	۴۰۰	۰	۱۲۰۰

- ۲۴- جدول زیر، نمودار: «تقاضا، عرضه، قیمت» در یک جامعه بازاری فرضی است، به‌ترتیب کدام ردیف‌های جدول بیان‌گر:
- الف) برابری میان «تقاضا و عرضه» است و نام اصطلاح اقتصادی آن کدام است؟
- ب) کمبود عرضه است؟
- ج) مازاد عرضه است؟
- ۱) الف) ردیف: ۴ - مقدار و قیمت تعادلی
- ب) ردیف ۳ ج) ردیف ۵
- ۲) الف) ردیف: ۴ - مقدار تعادلی ب) ردیف ۵ ج) ردیف ۳
- ۳) الف) ردیف: ۷ - قیمت و مقدار تعادلی ب) ردیف ۵ ج) ردیف ۳
- ۴) الف) ردیف: ۷ - قیمت تعادلی ب) ردیف ۳ ج) ردیف ۵





۲۵- با توجه به نمودار زیر:



الف) کدام شماره، بیانگر مازاد عرضه است؟

ب) کدام دو نقطه، به ترتیب بیانگر قیمت و مقدار و مفهوم تعادلی است؟

ج) کدام شماره، مبین مفهوم کمبود عرضه است؟

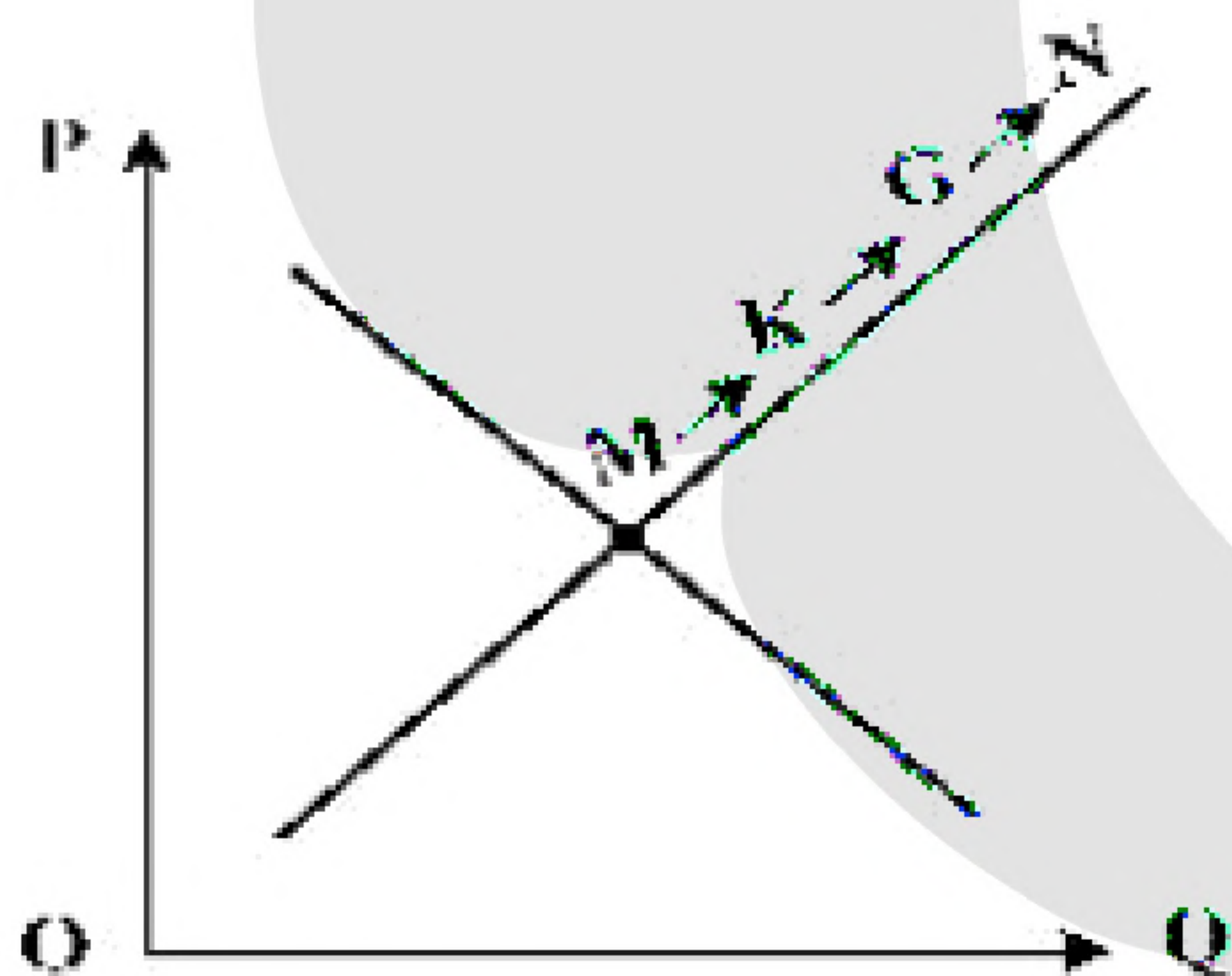
د) کدام حروف به ترتیب، بیانگر منحنی تقاضا و عرضه است؟

ه) کدام دو عدد بیانگر «عرضه صفر» است؟ و کدام

دو عدد مبین «تقاضای صفر» است؟

- ۱) الف) ۱ (ب) C - ۲۵۰ - ۶۰۰ (ج) ۳ (د) N و M (ه) ۱۰۰، ۱۲۰۰ و ۴۰۰، ۱۲۰۰
- ۲) الف) ۱ (ب) B - ۲۵۰ - ۶۰۰ (ج) ۴ (د) N و M (ه) ۱۰۰، ۱۲۰۰ و ۴۰۰، ۱۲۰۰
- ۳) الف) ۳ (ب) B - ۶۰۰ - ۲۵۰ (ج) ۲ (د) N و M (ه) ۱۰۰، ۱۲۰۰ و ۴۰۰، ۱۲۰۰
- ۴) الف) ۳ (ب) C - ۶۰۰ - ۲۵۰ (ج) ۱ (د) N و M (ه) ۱۰۰، ۱۲۰۰ و ۴۰۰، ۱۲۰۰

۲۶- با توجه به نمودار منحنی ..... علت حرکت از نقطه‌ی M به N، کدام است؟



- ۱) عرضه - قیمت بالاتر و عرضه‌ی کمتر
- ۲) تقاضا - قیمت پایین‌تر و تولید بیش‌تر
- ۳) عرضه - قیمت بیش‌تر و عرضه‌ی بیش‌تر
- ۴) تقاضا - توانایی تولید کم‌تر و قیمت بالاتر





۲۷- کدام گزینه، دربرگیرنده‌ی پاسخ درست و کامل پرسش‌های زیر است؟

الف) تولیدکنندگان برای تولید محصولات خود اعم از کالاها و خدمات به ناچار باید مقداری هزینه کنند، کدام مورد در این رابطه، درست نیست؟

ب) کدام گزینه، مبین مفهوم و معنای نزولی بودن منحنی تقاضاست؟

ج) وصول مطالبات اسنادی و سود سهام مشتریان و واریز به حساب آن‌ها مربوط به کدام فعالیت‌ها است؟

د) همه‌ی موارد در رابطه با به وجود آمدن نهادی با عنوان دولت درست است؛ به جز:

ه) در سال‌های بعد از پایان جنگ جهانی دوم کشورهای در حال توسعه تلاش جدی برای رسیدن به شکوفایی را آغاز کردند اما در اکثر کشورها، پیشرفت‌های مختصر آن هم به بهای «.....» اتفاق افتاد.

۱) الف) ماشین‌آلات و مواد اولیه خریداری نمایند. ب) کاهش مقدار تقاضا در مقابل کاهش قیمت ج) بانک‌های خصوصی د) در عصر ما انسان‌ها، وجود و حضور دولت بیش‌تر از اعصار گذشته احساس می‌شود. ه) ائتلاف منابع انسانی

۲) الف) تعدادی کارگر و کارمند به استخدام خود درآورند. ب) کاهش مقدار تقاضا در مقابل کاهش قیمت ج) بانک مرکزی د) با گذشت زمان دولت‌ها به تدریج به محدوده‌ی اقتصاد جامعه نیز نفوذ کردند و با شهروندان خود رابطه‌ی مالی برقرار نمودند. ه) از بین رفتن منابع آب

۳) الف) آن‌ها باید محلی را به عنوان کارگاه، مغازه یا دفتر کار خریداری یا اجازه کنند. ب) افزایش قیمت در مقابل کاهش قیمت ج) بانک‌های تخصصی د) از زمان شکل‌گیری نخستین تمدن‌های بشری، نیاز به نهادی که اداره‌ی امور این جوامع را برعهده گیرد احساس می‌شد. بنابراین نخستین دولت‌ها به وجود آمدند. ه) فقر بیش‌تر جامعه

۴) الف) تولیدکنندگان با فروش محصولات خود مقداری پول به دست می‌آورند. ب) کاهش مقدار تقاضا در مقابل افزایش قیمت ج) شبکه‌ی بانکی د) ماهیت این نهاد و میزان قدرت آن در جوامع مختلف یکسان بوده اما با گذشت زمان و تکامل جوامع و کشف قوانین حاکم بر طبیعت، محدوده‌ی اقتدار دولت تنگ‌تر شده است. ه) تخریب شدید محیط زیست





۲۸- کدام گزینه، بیان‌گر پاسخ درست و کامل سؤالات زیر است؟

الف) کدام مورد، ردیف فعالیت‌های مربوط به خدمات بانکی نیست؟

ب) در استفاده از کدام مورد، وجود دریافتی حتماً باید در طرح‌های مشخص، تولیدی، عمرانی و یا خدماتی به کار گرفته شود و در استفاده از کدام مورد برای وام گیرنده محدودیت خاصی وجود ندارد؟

ج) مطلب زیر مربوط به کدام یک از عوامل روی‌آوری کشورها به تجارت بین‌الملل است؟

«بعضی کشورها از زمین‌های حاصل‌خیز و منابع آبی کافی، برخی از منابع زیرزمینی فراوان و برخی دیگر از نیروی انسانی متخصص بهره‌مندند. برای مثال: کشور ایران دارای منابع نفت و گاز فراوان است. در کشور استرالیا زمین‌های حاصل‌خیز و آب کافی برای محصولات کشاورزی فراوان یافت می‌شود و کشور ژاپن در حوزه الکترونیک نیروی متخصص فراوان در اختیار دارد.»

د) کدام عبارت، در رابطه با مهم‌ترین اهداف سازمان همکاری اقتصادی، نادرست است؟

۱) الف) پرداخت بدهی مشتریان در صورت درخواست آن‌ها ب) اوراق سهام - اوراق قرضه ج) شرایط اقلیمی متفاوت د) بهبود شرایط برای توسعه اقتصادی پایدار کشورهای عضو

۲) الف) نقل و انتقال وجود در داخل کشور ب) اسناد خزانه - اوراق مشارکت ج) تنوع و تعدد نیازها و متفاوت بودن آن‌ها در مناطق مختلف د) تهیه برنامه‌ی مشترک برای توسعه‌ی منابع انسانی

۳) الف) وصول مطالبات اسنادی و سود سهام مشتریان و واریز به حساب آن‌ها ب) اوراق قرضه - اوراق مشارکت ج) یکسان نبودن کشورها از نظر دسترسی به تکنولوژی د) اتخاذ تدابیری برای حذف تدریجی موانع تجاری در منطقه اکو

۴) الف) نگهداری ذخایر قانونی و موجودی نقدی بانک‌ها ب) اوراق مشارکت - اوراق قرضه ج) یکسان نبودن منابع و عوامل تولید د) تسریع در برنامه‌های توسعه‌ی زیربنای شبکه‌های بزرگ آبرسانی، ساخت نیروگاه‌های پتروشیمی





۲۹- کدام گزینه، مبین پاسخ درست و کامل پرسش‌های زیر است؟

الف) برخی از انواع بازارها را می‌توان دید که در قالب حراجی‌ها به دو صورت «.....» و «.....» فعالیت می‌کنند. فروشندگان آثار هنری با برگزاری نمایشگاه‌ها و حراجی‌ها از روش «.....» و خریداران عمده‌ی کالاها و خدمات مثل خریدهای دولتی از روش «.....» استفاده می‌کنند.

ب) کدام دو بانک اگر چه جزو بانک‌های تخصصی محسوب می‌شوند، بیش‌تر نقش بانک تجاری را ایفاء می‌کنند؟  
ج) کدام اثر و نتیجه مربوط به برقراری ارتباط بین عرضه‌کنندگان و تقاضاکنندگان سرمایه در فعالیت‌های بورس تلقی می‌شود؟

د) دو مؤسسه تولید محصولات صنعتی و تولید محصولات کشاورزی در استفاده از کدام نهاده‌های تولید اشتراک دارند؟

ه) با توجه به مشکلات عدیده در دوران استفاده از کالاهای پولی، انسان با استفاده از پول «.....» از به‌کارگیری کالاها در مبادلات رهایی یافت و استفاده از برخی فلزات از جمله «.....» را جایگزین آن‌ها نمود.

و) اندازه‌گیری تولید هر کشور، براساس چه معیارهایی صورت می‌گیرد و تحلیل‌گران اقتصادی شاخص‌های تولید را به چند دسته تقسیم می‌کنند؟

۱) الف) مناقصه - مزایده - مناقصه - مزایده ب) مسکن - ملت ج) کاهش نرخ تورم د) ماشین‌آلات ه) پول کاغذی - اسکناس و) مرزهای داخلی آن کشور و دولت آن کشور - دو دسته داخلی و ملی

۲) الف) رقابت - انحصار - مزایده - مناقصه ب) کشاورزی - صادرات ج) افزایش حجم سرمایه‌گذاری د) مواد اولیه ه) فلزی - مفرغ و نیکل و) مرزهای داخلی آن کشور و دولت آن کشور - دو دسته ناخالص داخلی و ناخالص ملی

۳) الف) مزایده - مناقصه - مزایده - مناقصه ب) مسکن - کشاورزی ج) تنظیم معاملات بازار سرمایه د) نیروی کار ه) فلزی - طلا و نقره و) مرزهای داخلی آن کشور و ملت آن کشور و دو دسته داخلی و ملی

۴) الف) رقابت - انحصار - مناقصه - مزایده ب) ملی - توسعه‌ی صادرات ج) اجرای پروژه‌های بزرگ دولتی و خصوصی د) سردخانه ه) پول کاغذی - رسیدهای جایگزین پول و) مرزهای داخلی آن کشور و ملت آن کشور - دو دسته بین‌المللی و جهانی





۳۰- پاسخ درست و کامل سؤالات زیر در کدام گزینه، مطرح شده است؟

الف) عوامل مولد انسانی شامل: نیروی کار یا «.....» صاحب کسب و کار و محصول یا «.....» است. گاهی از متخصصان به عنوان «.....» یاد می‌شود.

ب) در رابطه با تقسیم کالاها به دو دسته‌ی: «ضروری و تجملی، چنانچه شیب «.....» کم باشد، یعنی عکس‌العمل مصرف‌کننده در برابر قیمت «.....» است که اصطلاحاً گفته می‌شود که «.....» است. که به آن کالای «.....» می‌گویند.

ج) «.....» شاخه‌ای از مطالعات اقتصادی است که با ارائه شاخص‌های گوناگون به بررسی و اندازه‌گیری میزان فعالیت‌های اقتصادی در سطح «.....» می‌پردازد و سه مورد از آن‌ها عبارتند از: «.....» و «.....» و «.....».

د) قبل از شکل‌گیری خدمات نوین بانکی: «.....» مساوی مجموع مسکوکات و اسکناس‌های در گردش و «.....» بوده است.

ه) حسابی که پول مشتری برای مدتی نامعین در آن نگهداری می‌شود، اما مشتری می‌تواند با مراجعه به بانک موجودی این حساب را در هر زمان که بخواهد دریافت کند، چه نام دارد؟

۱) الف) کارگر نیمه ماهر - کارفرما، متخصص و مدیر - سرمایه‌ی اجتماعی ب) منحنی عرضه - کم - کشش قیمتی عرضه کم - ضروری ج) حسابداری ملّی - کلان - مصرف و پس‌انداز کل کشور - درآمد خانوار و میزان تولید کالا - خدمات د) نقدینگی کل - سپرده‌های غیردیداری ه) سپرده‌ی غیردیداری

۲) الف) کارگر ساده - کارفرما، متخصص و کارآفرین - سرمایه‌ی انسانی ب) منحنی تقاضا - زیاد - کشش قیمتی تقاضا زیاد - لوکس یا تجملی ج) حسابداری ملّی - ملّی - حجم نقدینگی - صادرات و واردات - سطح عمومی قیمت‌ها د) نقدینگی کل - خارج از گردش پس‌انداز خانگی ه) سپرده پس‌انداز

۳) الف) کارگر ساده - نوآور، متخصص و مدیر - سرمایه‌ی انسانی ب) منحنی تقاضا - کم - کشش قیمتی تقاضا کم - لوکس یا تجملی ج) مالیه‌ی عمومی - خرد - صادرات و واردات - درآمد شرکت‌ها - سطح عمومی قیمت‌ها د) حجم کل پول موجود در کشور - خارج از گردش پس‌انداز خانگی ه) سپرده‌ی مدت‌دار

۴) الف) کارگر نیمه ماهر - نوآور، متخصص و کارآفرین - سرمایه‌ی اجتماعی ب) منحنی عرضه - زیاد - کشش قیمتی عرضه زیاد - ضروری ج) مالیه‌ی عمومی - خرد - مصرف و پس‌انداز کل کشور، میزان تولید کالاها و خدمات - درآمد مؤسسات تولید شهری د) حجم کل پول موجود در کشور - سپرده‌های غیردیداری ه) سپرده‌ی دیداری





۳۱- کدام گزینه، دربردارنده‌ی پاسخ درست و کامل پرسش‌های زیر است؟

الف) بانک «.....» مستقر در جدّه «.....» بوده و بانک «.....» محسوب می‌شود.

ب) علاوه بر خرید حضوری روش دیگر برای سرمایه‌گذاری در بورس، کدام است؟

ج) مطلب زیر مربوط به چیست؟

«هر کشوری در پی جذب سرمایه‌گذاری‌های خارجی برای کشور خود است. تا بدین ترتیب نه تنها پس‌اندازهای داخلی بلکه پس‌اندازهای کشورهای دیگر را نیز در جهت رشد و افزایش کارخانه‌ها و بخش‌های تولیدی داخل به کار گیرد.»

د) مطلب زیر مربوط به چیست؟

«در تحکیم بنیان‌های اقتصادی، اصل رفع نیازهای انسان در جریان رشد و تکامل است نه همچون دیگر نظام‌های اقتصادی، تمرکز و تکاثر ثروت و سودجویی، زیرا در مکاتب مادی، اقتصاد عامل تخریب و فساد و تباهی می‌شود ولی در اسلام «.....» است و از آن نیز جزء کارآیی بهتر در راه وصول به مقصد و منظور مطلوب، انتظار دیگری نمی‌توان داشت.»

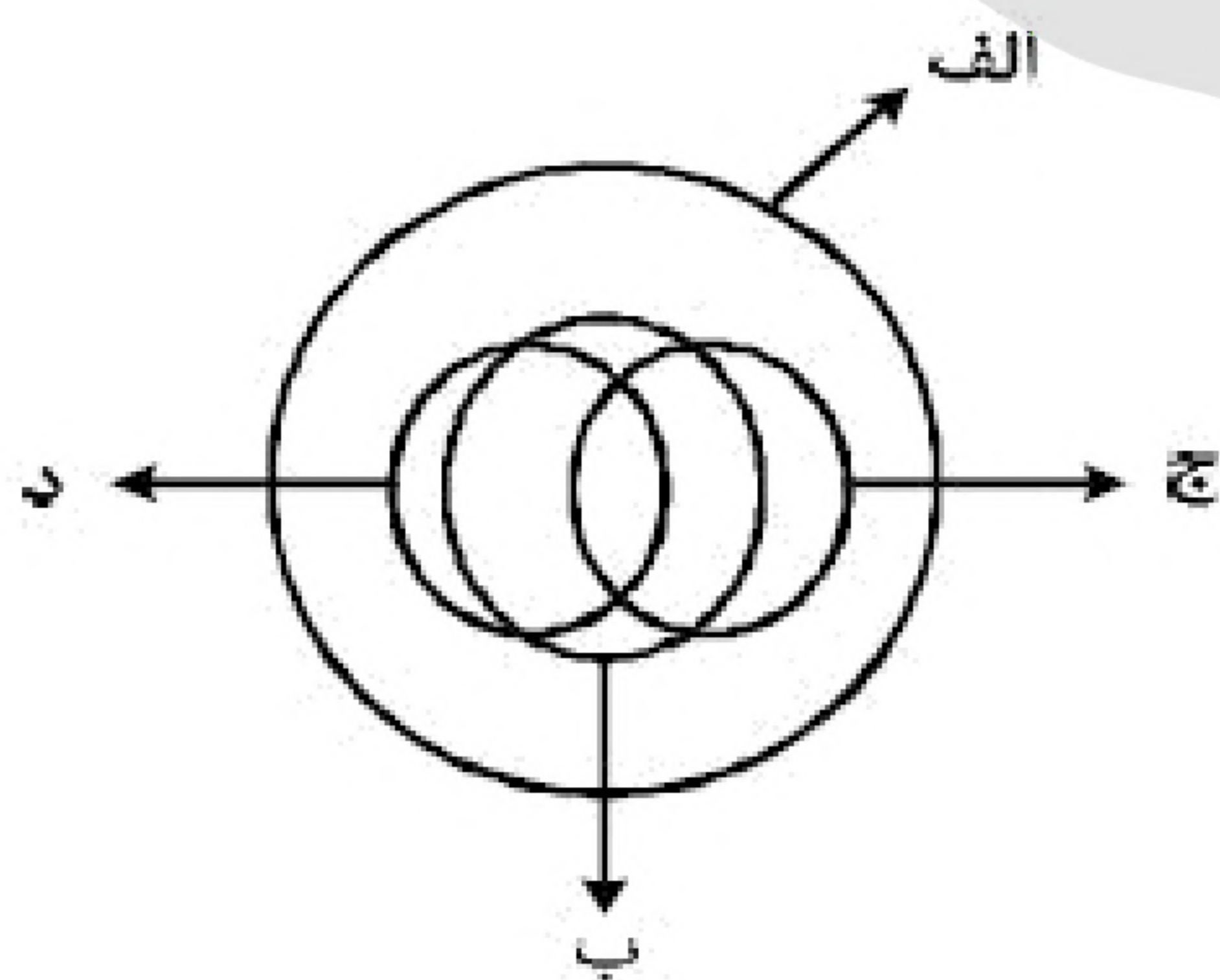
۱) الف) توسعه‌ی تعاونی جهان اسلام - وابسته به سازمان کنفرانس اسلامی - تعاونی اسلامی ب) از طریق اینترنت ثبت‌نام کرده و رسید واریز مبلغ سرمایه‌گذاری را به کارگزاری مربوط ارسال نمایند ج) جابه‌جایی عوامل تولید - فرار سرمایه‌ها به خارج د) اصل ۴۳ قانون اساسی - اقتصاد هدف است نه وسیله.

۲) الف) توسعه‌ی تعاونی جهان اسلام - وابسته به سازمان ممالک اسلامی حوزه‌ی خلیج فارس - توسعه‌ای ب) با ثبت‌نام در اینترنت تأیید عضویت خود را از سامانه‌ی معاملاتی بورس درخواست نمایند ج) مبادلات بین‌المللی در بازارهای نیروی کار و سرمایه - مصادره‌ی سرمایه‌های خارجی د) مقدمه‌ی قانون اساسی - اقتصاد هدف است نه وسیله.

۳) الف) توسعه‌ی اسلامی - وابسته به سازمان کنفرانس اسلامی - توسعه‌ای ب) اشخاص می‌توانند از طریق اینترنت نیز به خرید اقدام کنند و پس از عملیات، نمونه‌ی چاپی آن‌را به عنوان رسید دریافت نمایند ج) مبادلات بین‌المللی در بازارهای نیروی کار و سرمایه - حرکت سرمایه د) مقدمه‌ی قانون اساسی - اقتصاد وسیله است نه هدف.

۴) الف) توسعه‌ی اسلامی - وابسته به سازمان ممالک اسلامی حوزه‌ی خلیج فارس - تعاونی اسلامی ب) اشخاص می‌توانند از طریق اینترنت به خرید سهام در بورس اقدام کرده و تأیید عضویت خود را از سامانه‌ی معاملاتی بورس تقاضا نمایند ج) جابه‌جایی عوامل تولید - سرمایه‌گذاری‌های استعماری در ممالک جهان سوم د) اصل ۴۴ قانون اساسی - اقتصاد وسیله است نه هدف.

۳۲- شکل زیر، نسبت میان مصادیق کدام مفاهیم را به درستی نشان می‌دهد؟



۱) الف: فلز؛ ب: گیوه؛ ج: جامد؛ د: مایع

۲) الف: جسم؛ ب: میز؛ ج: چوبی؛ د: سبز

۳) الف: حیوان؛ ب: انسان؛ ج: آسیایی؛ د: اروپایی

۴) الف: اروپایی؛ ب: مسیحی؛ ج: شاعر؛ د: نویسنده