

گنجینه سوال رایگان
+ پاسخ تشریحی

یاوران دانش



راه های ارتباطی با ما:

www.Dyavari.com

۰۲۱-۷۶۷۰۳۸۵۸

۰۹۱۲-۳۴ ۹۴ ۱۳۴



۱- به ترتیب کدام گزینه دربردارنده‌ی پرسش‌های زیر است؟

- اساس و مبنای مالیات بر ارزش افزوده چیست؟

- کدام نوع از مالیات معمولاً برای حمایت از صنایع داخلی به کار گرفته می‌شود؟

- عبارت کدام گزینه در خصوص مالیات بر ارزش افزوده صحیح است؟

(۱) ثروت مؤدی - مالیات بر مصرف - مالیات پرداخت‌شده‌ی تولیدکنندگان قبلی به مالیات بر فروش بعدی اضافه می‌شود. به عبارت دیگر کالا و خدمات نهایی و واسطه‌ای مشمول پرداخت مالیات‌اند.

(۲) درآمد مؤدی - تعرفه‌های گمرکی - در کشورهایی که ساز و کار مالیات بر ارزش افزوده در آن‌ها برقرار است، کسب و کارها، منبع مالیات را از خرید دیگر کسب و کارها، جمع‌آوری و آن را از طریق فروش خودشان پرداخت می‌کنند.

(۳) ثروت مؤدی - تعرفه‌های گمرکی - این نوع از مالیات، چند مرحله‌ای است و در هر یک از مراحل تولید و تکمیل تا مصرف نهایی برحسب ارزش افزوده گرفته می‌شود.

(۴) درآمد مؤدی - مالیات بر مصرف - مالیاتی است که از تفاوت ارزش بین کالا و خدمات عرضه شده با ارزش کالا و خدمات خریداری شده در دوره‌ای مشخص گرفته می‌شود.

۲- با توجه به جدول زیر کدام گزینه دربردارنده‌ی پاسخ صحیح پرسش‌های زیر است؟

مرحله (۳)	مرحله (۲)	مرحله (۱)	مراحل تولید
۹۰,۰۰۰ تومان	۶۰,۰۰۰ تومان	۳۰,۰۰۰ تومان	قیمت فروش کالا
۱۰۳,۵۰۰		۳۴,۵۰۰	قیمت فروش با مالیات بر ارزش افزوده
C	۹,۰۰۰	۴,۵۰۰	مالیات بر ارزش افزوده جمع‌آوری شده توسط فروشنده
D	B		اعتبار مالیات بر ارزش افزوده‌هایی که در مرحله قبل پرداخت شده
	A		مالیات بر ارزش افزوده خالص جمع‌آوری شده

الف) نرخ مالیات بر ارزش افزوده چقدر است؟

ب) ارزش افزوده‌ی محصول در مرحله‌ی سوم چه میزان است؟

ج) مالیات بر ارزش افزوده‌ی جمع‌آوری شده توسط فروشنده در مرحله‌ی دوم، با کدام قسمت برابر است؟

د) مجموع مالیات بر ارزش افزوده‌ی جمع‌آوری شده، چند تومان است؟

ه) مالیات بر ارزش افزوده‌ی خالص جمع‌آوری شده در مرحله‌ی دوم کدام است؟

(۱) الف) ۱۵ درصد ب) ۱۳,۵۰۰ تومان ج) B د) ۳۰,۰۰۰ تومان ه) ۶,۵۰۰ تومان

(۲) الف) ۱۰ درصد ب) ۱۳,۵۰۰ تومان ج) C د) ۳۰,۰۰۰ تومان ه) ۴,۵۰۰ تومان

(۳) الف) ۱۵ درصد ب) ۳۰,۰۰۰ تومان ج) D د) ۱۳,۵۰۰ تومان ه) ۴,۵۰۰ تومان

(۴) الف) ۵ درصد ب) ۳۰,۰۰۰ تومان ج) D د) ۱۳,۵۰۰ تومان ه) ۶,۵۰۰ تومان



۳- با توجه به موارد «الف» و «ب» کدام گزینه صحیح است؟

الف- مجموع سهام شرکتی ۳۰۰,۰۰۰ سهم است. اگر شخصی ۲۱,۰۰۰ سهم را خریده باشد، در چند درصد از سهام شریک است؟

ب- کدام سازمان تولیدی با هدف تأمین نیازمندی اعضا برای بهبود وضعیت اقتصادی شکل می‌گیرد؟

ج- کدام کسب‌وکار از مزیت منافع مالیاتی برخوردار است؟

۱) الف- ۱۴/۲٪ / ب- شرکت سهامی / ج- خیریه‌ها

۲) الف- ۷٪ / ب- شرکت سهامی / ج- کسب‌وکار خویش‌فرمایی

۳) الف- ۱۴/۲٪ / ب- شرکت تعاونی / ج- مؤسسات غیرانتفاعی

۴) الف- ۷٪ / ب- شرکت تعاونی / ج- کسب‌وکار شخصی

۴- با توجه به منحنی مقابل و سؤالات، گزینه‌ی درست را مشخص کنید.

الف) دریافتی نیروی کار در سطح دستمزد ۷ چقدر است؟

ب) پرداختی کارفرما در سطح دستمزد ۳ چقدر است؟

ج) کدام نوع از بیکاری است که از عدم تطبیق شغل‌های موجود و افراد جویای کار به‌وجود می‌آید؟

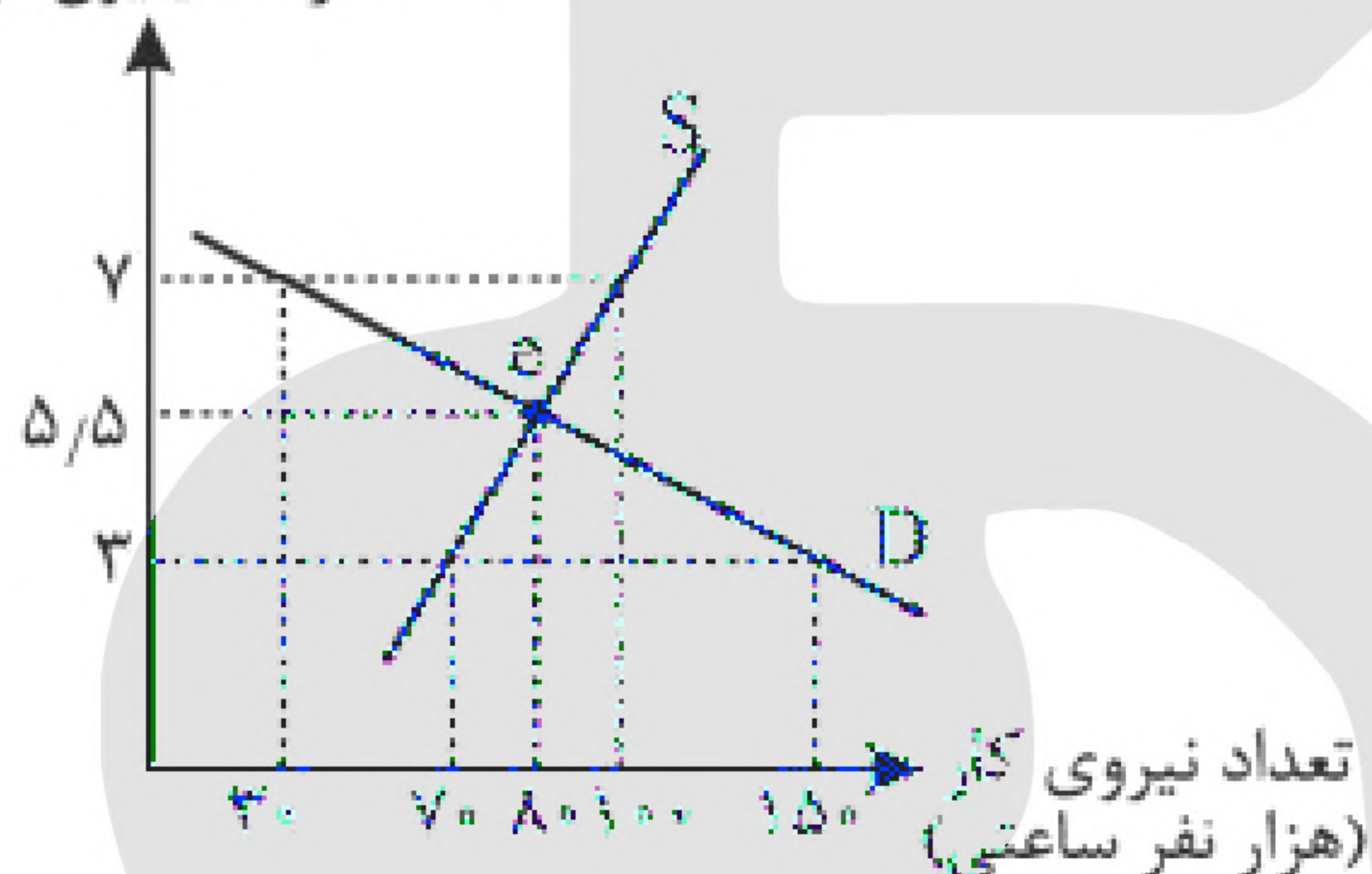
۱) الف: ۲۱۰ / ب: ۲۱۰ / ج: اصطکاکی

۲) الف: ۲۱۰ / ب: ۲۱۰ / ج: ساختاری

۳) الف: ۷۰۰ / ب: ۳۰۰ / ج: اصطکاکی

۴) الف: ۷۰۰ / ب: ۳۰۰ / ج: ساختاری

دستمزد (میلیون تومان)



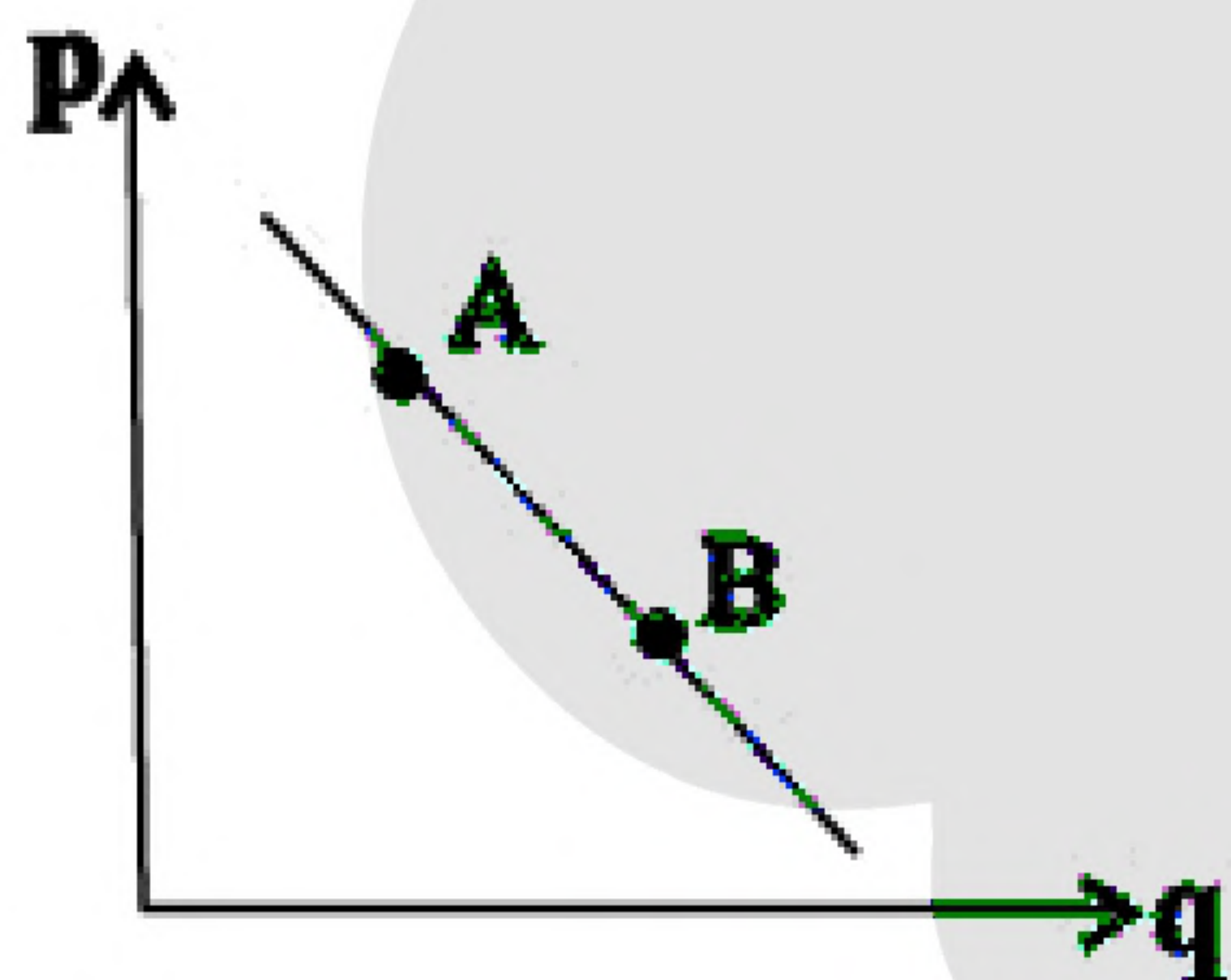
۵- کدام مورد، عبارت زیر را به درستی کامل می‌کند؟

«با توجه به نمودار منحنی که در شکل مقابل نشان داده شده است،

حرکت منحنی از نقطه به نقطه بیانگر کاهش قیمت کالا است.»

۱) تقاضا، A، B ۲) تقاضا، B، A

۳) عرضه، A، B ۴) عرضه، B، A



۶- کدام گزینه جمله‌های زیر را کامل می‌کند؟

الف) در بازار کالا و خدمات، خانوارها و بنگاه‌ها

ب) حضوری و حقیقی بودن صادرات در بازار

ج) دریافتی خانوارها بابت فروش نیروی کار نامیده می‌شود.

د) با افزایش درآمد مقدار خرید کالای پست می‌یابد.

۱) خریدار، فروشنده هستند - ضروری نیست - دستمزد - کاهش

۲) فروشنده، خریدار هستند - ضروری است - سود - کاهش

۳) تقاضاکننده - عرضه‌کننده هستند - ضروری است - دستمزد - افزایش

۴) عرضه‌کننده، تقاضاکننده هستند - ضروری نیست - سود - افزایش



۷- هر یک از موارد زیر به کدام نوع از مالیات اشاره دارد؟

- فردی یک کسب و کار شخصی راه‌اندازی کرده و از منافع مالیاتی برخوردار است.
 - دولت با هدف کاهش آلودگی هوا، برای خرید بنزین مالیات تعیین می‌کند.
 - برای جلوگیری از واردات کالاهای خارجی، مالیات دریافت می‌شود.
 - برای تأمین مالی هزینه‌ی ساخت بزرگراه، پس از بهره‌برداری از آن، مردم باید مالیات پرداخت کنند.
- (۱) مالیات بر درآمد - مالیات بر مصرف - مالیات بر ارزش افزوده - مالیات بر مصرف
- (۲) مالیات بر سود - مالیات بر ارزش افزوده - عوارض شهرداری - عوارض شهرداری
- (۳) مالیات بر درآمد - مالیات بر مصرف - تعرفه‌های گمرکی - عوارض خدماتی
- (۴) مالیات بر سود - عوارض گمرکی - مالیات بر مصرف - مالیات بر ثروت دولت

۸- با توجه به جدول زیر که خلاصه‌ای از میزان مالیات پرداختی در یک جامعه است:

مالیات بر مصرف	۱۲۰ میلیون تومان
مالیات بر ارزش	$\frac{1}{5}$ کل مالیات بر دارایی
مالیات بر دارایی	۷۰ میلیون تومان
مالیات بر درآمد	$\frac{1}{8}$ مالیات بر مصرف
عوارض خودرو	۲۴ میلیون تومان

(الف) مجموع میزان مالیات مستقیم پرداختی، کدام است؟

(ب) مجموع میزان پرداختی برای مهم‌ترین نوع مالیات، چقدر است؟

(ج) مجموع میزان پرداختی برای مهم‌ترین نوع مالیات بر دارایی، کدام است؟

- (۱) الف (۹۵ میلیون تومان، ب) ۲۵ میلیون تومان، ج) ۱۶ میلیون تومان
- (۲) الف (۸۵ میلیون تومان، ب) ۱۵ میلیون تومان، ج) ۱۴ میلیون تومان
- (۳) الف (۸۵ میلیون تومان، ب) ۱۵ میلیون تومان، ج) ۱۶ میلیون تومان
- (۴) الف (۹۵ میلیون تومان، ب) ۲۵ میلیون تومان، ج) ۱۴ میلیون تومان

۹- با توجه به سرگذشت پول، کدام مورد مسیر تکاملی پول را به درستی ذکر می‌کند؟



(ج)

(ب)

(الف)

- (۲) الف: کالای اضافی ب: اسکناس ج: الکترونیکی
- (۴) الف: کالای اضافی ب: کاغذی ج: بیت کوین

- (۱) الف: کالای بادوام ب: اسکناس ج: ثبتي
- (۳) الف: کالای بادوام ب: کاغذی ج: الکترونیکی

۱۰- کشورهای A و B فقط دو محصول گندم و پنبه تولید می‌کنند. کشور A به ازای هر تن گندم که تولید می‌کند از تولید ۱۰ تن پنبه صرف‌نظر می‌کند. کشور B به ازای هر تن گندم که تولید می‌کند از تولید ۵ تن پنبه صرف‌نظر می‌کند. با توجه به اطلاعات ارائه شده، کشور B دارای کدام مزیت است؟

- (۱) مزیت نسبی در تولید گندم
- (۲) مزیت نسبی در تولید پنبه
- (۳) مزیت مطلق در تولید گندم
- (۴) مزیت مطلق در تولید پنبه



۱۱- چند مورد از عبارات زیر نادرست است؟

- الف) مالیات بر مصرف، مالیاتی است که مصرف‌کنندگان کالاهای خاص در زمان خرید آن کالا (به همراه قیمت کالا) پرداخت می‌کنند.
- ب) در مالیات بر دارایی که شاید بتوان گفت مهم‌ترین نوع مالیات است، درآمد و ثروت اشخاص مبنای مالیات قرار می‌گیرد.
- پ) دریافت مالیات برای تأمین مالی اهداف و پشتیبانی از فعالیت‌های دولت مانند امنیت و امور قضایی، ضروری است.
- ت) انواع عوارض درج شده در قبض‌های شهرداری، مالیات تلقی می‌شود. شهرداری در مقابل خدماتی که ارائه می‌کند، وجوهی مانند عوارض خودرو یا عوارض نوسازی دریافت می‌کند.
- ث) در مالیات بر ارزش افزوده، مالیات پرداخت‌شده‌ی تولیدکنندگان قبلی به مالیات بر فروش بعدی اضافه می‌شود، به عبارت دیگر کالا و خدمات تهایی و واسطه‌ای مشمول پرداخت مالیات‌اند.
- ج) دولت سالیانه بخشی از درآمد مورد نیاز خود را از طریق ایجاد بدهی تأمین می‌کند، که این درآمد به دلیل وجود مردم می‌تواند همیشه پایدار باشد.

۴ (۴)

۳ (۳)

۲ (۲)

۱ (۱)

۱۲- به ترتیب هر یک از موارد زیر به کدام نوع مالیات اشاره می‌کند؟

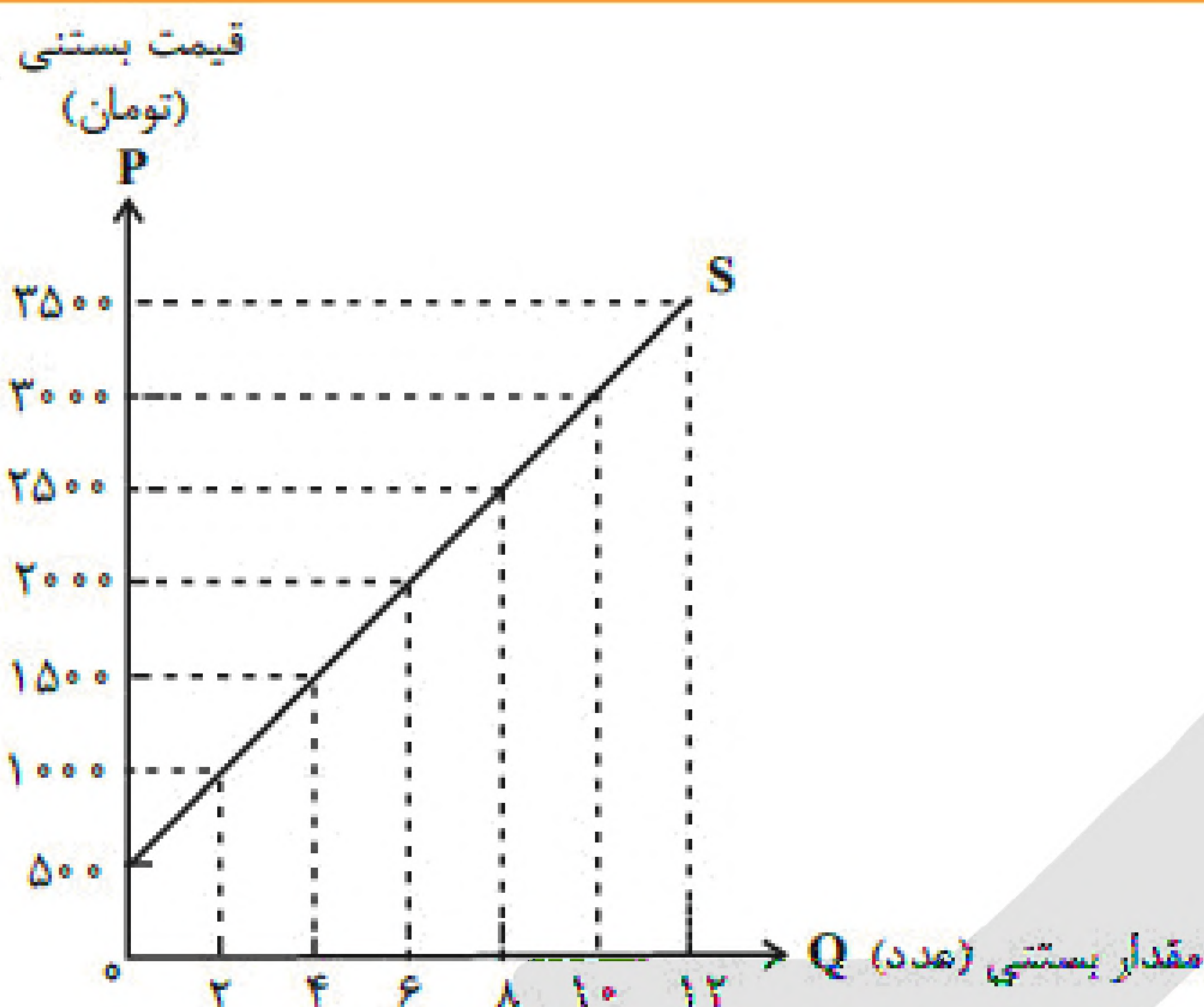
- الف- مالیات بر ارث
ب- دفع پسماند
ج- مالیات بر درآمد اتفاقی
د- مالیات بر دخانیات
- ۱) الف- مالیات بر دارایی / ب- عوارض شهرداری / ج- مالیات غیرمستقیم / د- مالیات بر مصرف
- ۲) الف- مالیات بر ثروت / ب- عوارض گمرکی / ج- مالیات مستقیم / د- مالیات بر فروش
- ۳) الف- مالیات بر درآمد / ب- عوارض گمرکی / ج- مالیات غیرمستقیم / د- مالیات بر فروش
- ۴) الف- مالیات بر دارایی / ب- عوارض خدماتی / ج- مالیات مستقیم / د- مالیات بر مصرف

۱۳- مراحل تولید یک نوع محصول در جدول مقابل آمده است. اگر نرخ مالیات ۹ درصد باشد (مالیات بر ارزش افزوده):

مراحل تولید	قیمت محصول
۱	۱,۰۰۰,۰۰۰
۲	۲,۵۰۰,۰۰۰
۳	۵,۰۰۰,۰۰۰
۴	۱۲,۰۰۰,۰۰۰

- الف) کل مالیات دریافتی برای این محصول چقدر است؟
- ب) قیمت محصول با مالیات بر ارزش افزوده در مرحله‌ی دوم چقدر است؟
- ج) مالیات بر ارزش افزوده چه نوع مالیاتی محسوب می‌شود؟

- ۱) ۱,۰۸۰,۰۰۰ - ۲,۲۵۰,۰۰۰ - مستقیم
- ۲) ۱,۰۸۰,۰۰۰ - ۲,۷۲۵,۰۰۰ - غیرمستقیم
- ۳) ۱,۸۰۰,۰۰۰ - ۲,۲۵۰,۰۰۰ - غیرمستقیم
- ۴) ۱,۸۰۰,۰۰۰ - ۲,۷۲۵,۰۰۰ - مستقیم



۱۴- با توجه به نمودار مقابل، پاسخ صحیح موارد زیر کدام است؟

الف) در قیمت ۲۰۰۰ تومان چه مقدار بستنی عرضه می‌شود؟

ب) طبق قانون عرضه با، مقدار عرضه از هر کالا می‌یابد.

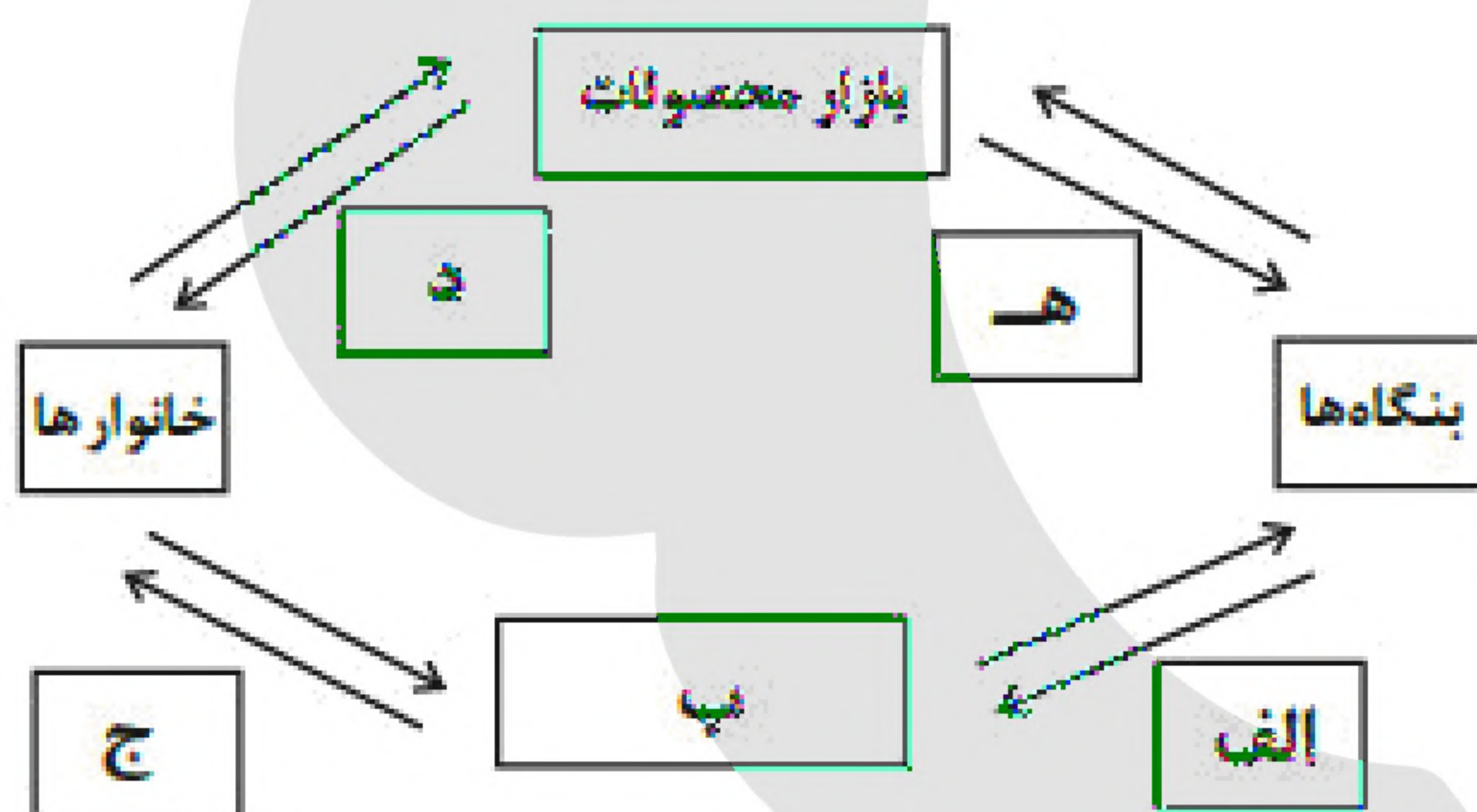
ج) اگر قیمت بستنی از قیمت ۲,۵۰۰ به ۱,۵۰۰ کاهش یابد، مقدار عرضه می‌یابد.

۱) الف) ۶ عدد ب) کاهش قیمت - افزایش ج) ۸ واحد کاهش

۲) الف) ۸ عدد ب) افزایش قیمت - افزایش ج) ۸ واحد افزایش

۳) الف) ۶ عدد ب) افزایش قیمت - افزایش ج) ۴ واحد کاهش

۴) الف) ۸ عدد ب) کاهش قیمت - کاهش ج) ۴ واحد افزایش



۱۵- در کدام گزینه به ترتیب، موارد الف تا ه آمده است؟

۱) الف) پرداخت‌های عوامل تولید ب) منابع ج) درآمد خانوار د) کالا و خدمات ه) هزینه تولیدکننده

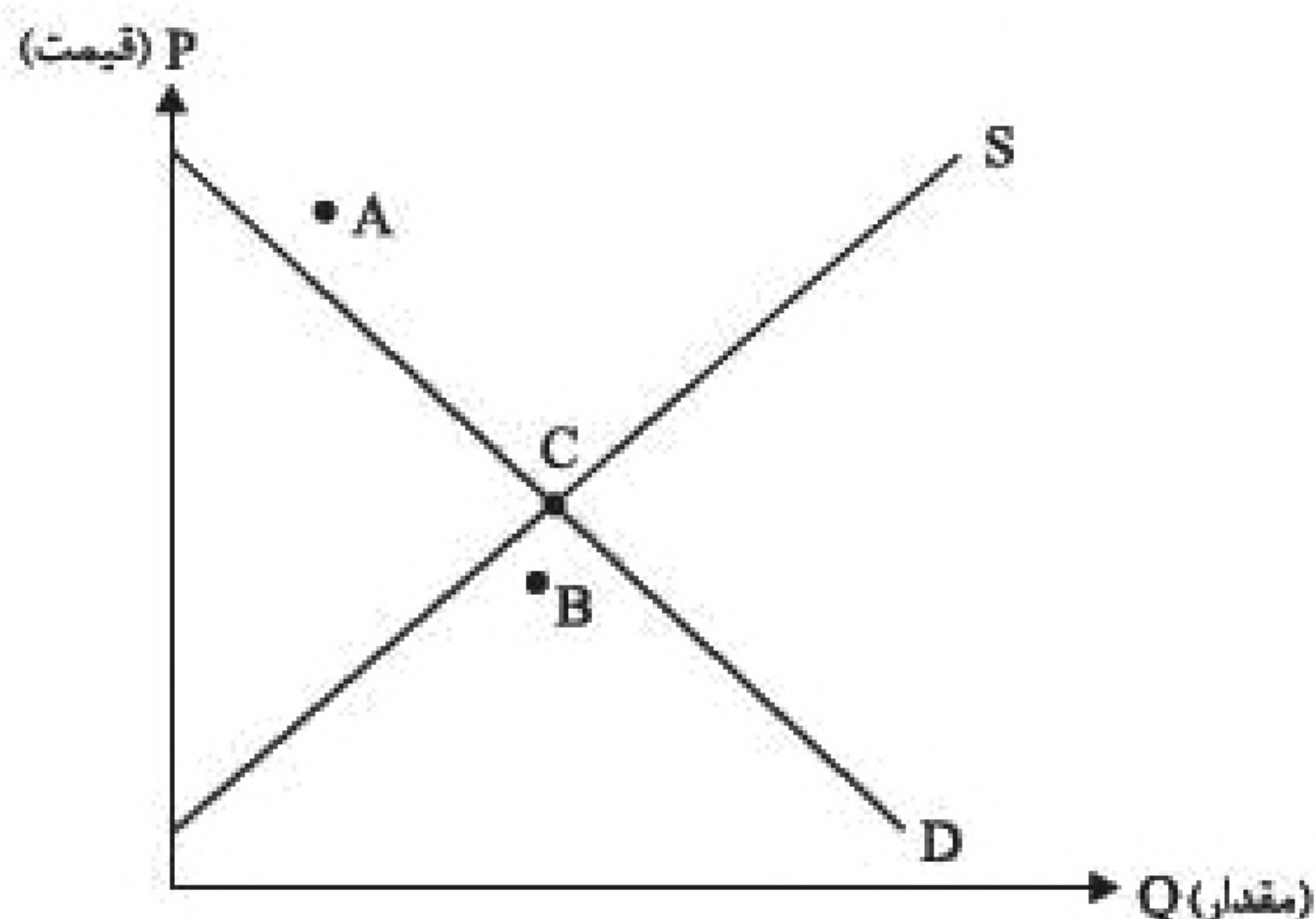
۲) الف) منابع ب) بازار عوامل تولید ج) خرید د) کالا و خدمات ه) هزینه تولیدکننده

۳) الف) منابع ب) بازار کالاها و خدمات ج) خرید د) درآمد تولیدکننده ه) درآمد تولیدکننده

۴) الف) پرداخت‌های عوامل تولید ب) بازار عوامل تولید ج) درآمد خانوار د) کالا و خدمات ه) درآمد تولیدکننده



۱۶- با توجه به نمودار زیر:



الف- نقطه C چه ویژگی دارد؟

ب- در نقطه A چه وضعیتی رخ می دهد؟

ج- اگر در نقطه B قرار گیریم، چگونه می توانیم به تعادل برسیم؟

د- در واقع بر نحوه تخصیص منابع اثرگذار است.

۱) الف- عرضه = تقاضا / ب- مازاد عرضه / ج- افزایش قیمت / د- هزینه های مبادله

۲) الف- قیمت = تعداد / ب- کمبود عرضه / ج- کاهش عرضه / د- هزینه فرصت

۳) الف- عرضه = تقاضا / ب- مازاد تقاضا / ج- کاهش تقاضا / د- هزینه های مبادله

۴) الف- قیمت = تعداد / ب- کمبود تقاضا / ج- افزایش قیمت / د- هزینه فرصت

۱۷- عبارات کدام گزینه به ترتیب تکمیل کننده ی جاهای خالی عبارات زیر است؟

الف) کالاها هم مانند انسان ها ... دارند و برخی محصولات به ویژه محصولاتی که از فناوری های پیشرفته تری بهره می برند، ممکن است ...

ب) مونتاژ کالای کره ای در کشور اندونزی به عامل ... از جمله عوامل تجارت میان کشورها اشاره دارد.

ج) صادرات کالا منافع و را برای تولیدکنندگان دارد.

۱) الف) تنوع - امکان تولید در هر کشوری را نداشته باشند ب) یکسان نبودن منابع و عوامل تولید ج) افزایش هزینه ی فرصت - استفاده از منابع کمیاب

۲) الف) تنوع - امکان تولید در هر کشوری را نداشته باشند ب) یکسان نبودن کشورها از نظر دسترسی به فناوری ج) امکان فروش در بازارهای بزرگتر - تلاش بیشتر برای تولید بهتر و کارآمدتر

۳) الف) ملیت - چندملیتی باشند ب) یکسان نبودن منابع و عوامل تولید ج) امکان فروش در بازارهای بزرگتر - تلاش بیشتر برای تولید بهتر و کارآمدتر

۴) الف) ملیت - چندملیتی باشند ب) یکسان نبودن کشورها از نظر دسترسی به فناوری ج) افزایش هزینه ی فرصت - استفاده از منابع کمیاب

۱۸- پیمان نفتا در چه سالی، به چه منظوری و بین کدام کشورها شکل گرفت؟

۱) ۱۹۹۰ - گسترش روابط نظامی - ایالات متحده و کشورهای اروپایی

۲) ۱۹۹۲ - تجارت آزاد - آمریکا - کانادا - مکزیک

۳) ۱۹۹۰ - گسترش روابط نظامی - آلمان و اروپای شرقی

۴) ۱۹۹۲ - تجارت آزاد - آمریکا - اروپا - ژاپن



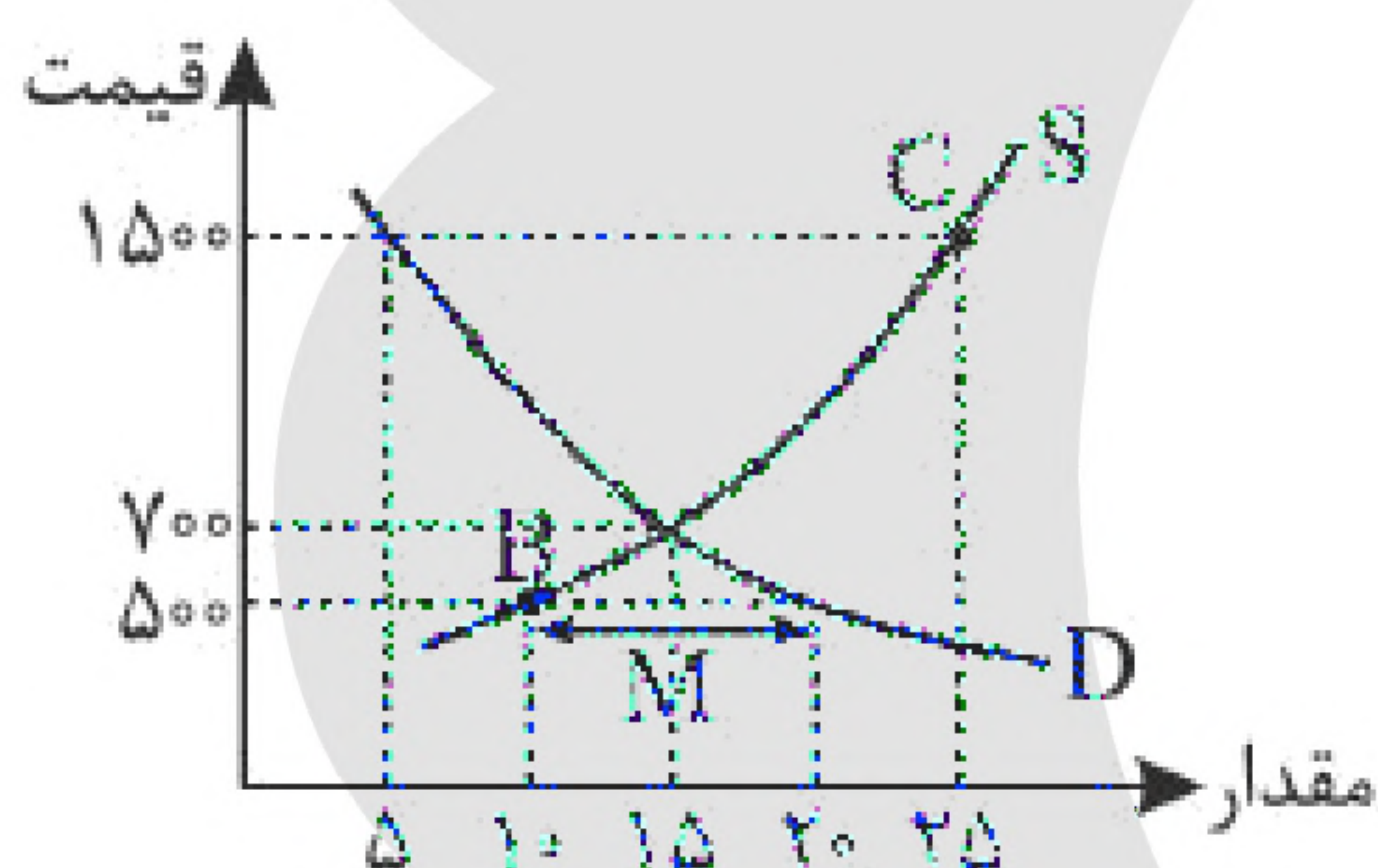
۱۹- مراحل تولید کالایی به شرح زیر است:

مراحل تولید	ارزش محصول در آن مرحله (بدون در نظر گرفتن مالیات بر ارزش افزوده)
مرحله ۱	۱۰۰۰ تومان
مرحله ۲	۱۵۰۰ تومان
مرحله ۳	۲۰۰۰ تومان
مرحله ۴	۲۵۰۰ تومان

در صورتی که نرخ مالیات بر ارزش افزوده برابر با ۱۰ درصد باشد، پاسخ صحیح سؤالات زیر کدام است؟
 الف) قیمت فروش محصول در مرحله‌ی اول با احتساب مالیات بر ارزش افزوده چند تومان است؟
 ب) مالیات بر ارزش افزوده‌ی جمع‌آوری شده توسط فروشنده در مرحله‌ی سوم چقدر است؟
 ج) ارزش افزوده‌ی محصول در مرحله‌ی آخر کدام است؟

- ۱) الف) ۱۵۰۰ (ب) ۵۰ (ج) ۵۰۰
 ۲) الف) ۱۱۰۰ (ب) ۵۰ (ج) ۲۵۰۰
 ۳) الف) ۱۱۰۰ (ب) ۲۰۰ (ج) ۵۰۰
 ۴) الف) ۱۵۰۰ (ب) ۲۰۰ (ج) ۲۵۰۰

«بانک سوال موسسه یاوران دانش»



۲۰- با توجه به نمودار مقابل:

- در کدام قیمت، مازاد صفر است؟
 - در قیمت ۱۵۰۰، مازاد عرضه چقدر است؟
 - علت انتقال نقطه‌ی B به C چیست؟
 - اگر بازار در وضعیت M باشد، قیمت‌ها چه وضعیتی پیدا می‌کنند؟
- ۱) ۵۰۰ - ۱۰ - افزایش قیمت - کاهش
 ۲) ۵۰۰ - ۱۰ - کاهش قیمت - افزایش
 ۳) ۷۰۰ - ۲۰ - افزایش قیمت - افزایش
 ۴) ۷۰۰ - ۲۰ - کاهش قیمت - کاهش

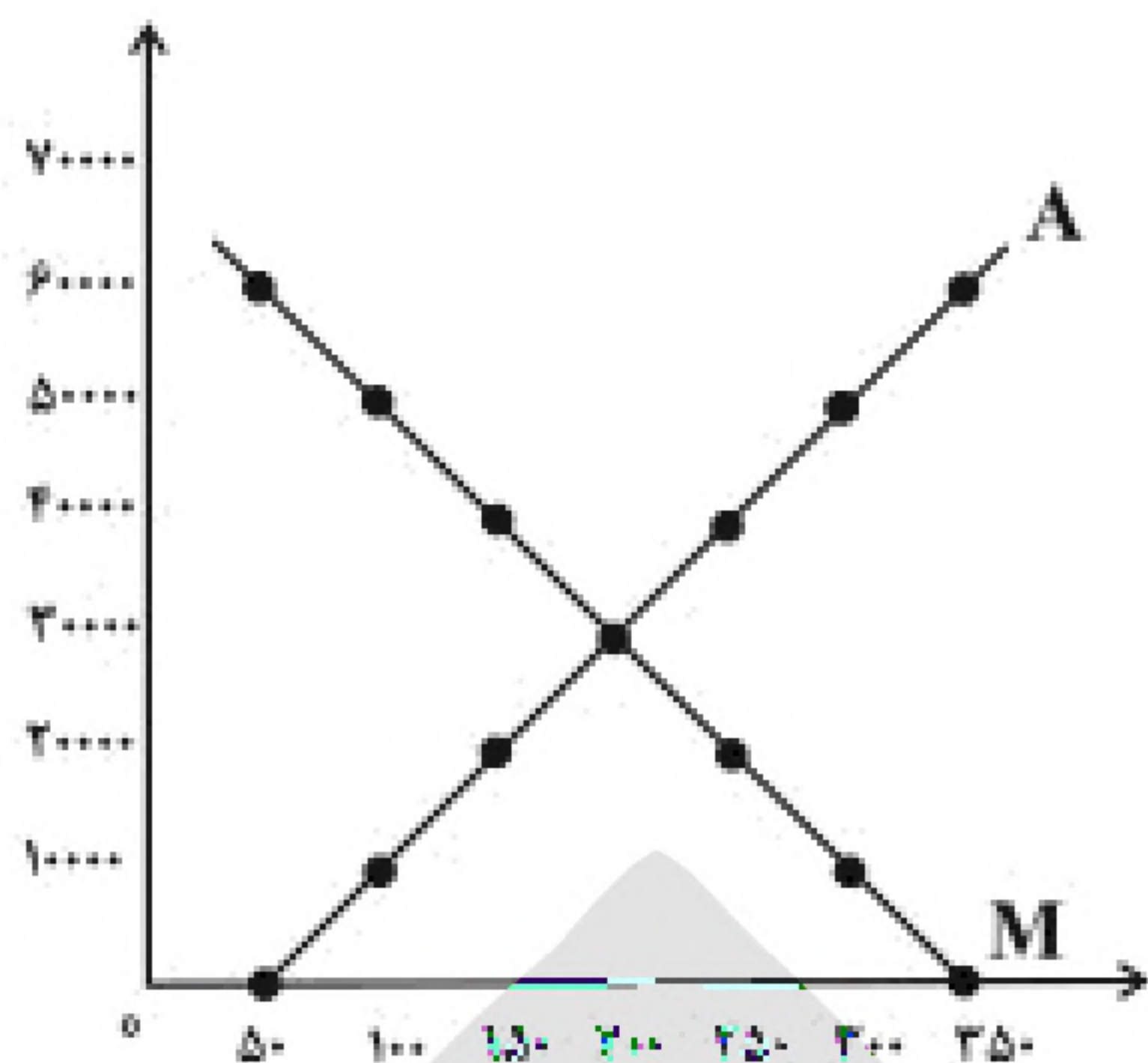
۲۱- به ترتیب صحیح و یا غلط بودن موارد زیر در کدام گزینه به درستی بیان شده است؟

- الف) دولت چین با هدف کاهش فعالیت‌های نامناسب، اقدام به وضع مالیات بر چوبک‌های غذاخوری نمود.
 ب) وظیفه قانونی پرداخت مالیات بر مصرف به عهده مصرف‌کنندگان است.
 ج) پیمان نفتا بعدها به سازمان دائمی تجارت جهانی (WTO) تبدیل شد.
 د) گاهی دولت‌ها در جهت گسترش روابط اقتصادی‌شان با کشورهایی که دیدگاه‌های نزدیک سیاسی با یکدیگر دارند، تعرفه‌های گوناگونی بر واردات برخی از کالاها وضع می‌کنند.

- ۱) ص - غ - غ - غ
 ۲) غ - غ - ص - ص
 ۳) ص - ص - غ - غ
 ۴) غ - ص - غ - ص



۲۲- نمودار زیر وضعیت عرضه و تقاضا را در یک کارگاه جوراب‌بافی نشان می‌دهد. با توجه به نمودار زیر به سؤالات پاسخ دهید.



- خط A که از وصل کردن نقاط به هم دیگر به دست آمده است، چه نام دارد؟
- قانون تقاضا چگونه عمل می‌کند؟
- در سطح قیمت ۶۰,۰۰۰ تومان با روبه‌رو هستیم و می‌توان گفت در سطح قیمت کمبود تقاضا خواهیم داشت.
- نقطه‌ای که در آن خبری از مازاد و کمبود نیست
- (۱) منحنی تقاضا - براساس قانون تقاضا با افزایش قیمت، مقدار تقاضا افزایش می‌یابد. - مازاد تقاضا - ۷۰,۰۰۰ - در بازار این کالا وجود ندارد.
- (۲) منحنی عرضه - براساس قانون تقاضا با افزایش قیمت، مقدار تقاضا کاهش می‌یابد. - کمبود تقاضا - ۳۰,۰۰۰ - نقطه‌ی برخورد منحنی با نمودار عمودی است.
- (۳) منحنی تقاضا - براساس قانون تقاضا با افزایش قیمت، مقدار تقاضا کاهش می‌یابد. - مازاد عرضه - ۵۰,۰۰۰ - نقطه‌ی تعادلی نام دارد و در قیمت ۴۰,۰۰۰ قرار دارد.
- (۴) منحنی تقاضا - براساس قانون تقاضا با افزایش قیمت، مقدار تقاضا افزایش می‌یابد. - کمبود عرضه - ۴۰,۰۰۰ - نقطه‌ی برخورد منحنی با نمودار افقی است.

۲۳- به ترتیب، هر یک از موارد زیر به کدام یک از نظام‌های اقتصادی اشاره دارد؟

- تأکید دارد که دولت‌ها موظف‌اند از اقشار ضعیف حمایت کنند.
 - از کاهش تعرفه‌ها در تجارت خارجی دفاع می‌کند.
 - افزایش رفاه اقتصادی یک نفر مقید به افزایش رفاه اقتصادی دیگران است.
- | | |
|---|--|
| (۱) عدالت‌بنیان - سوسیالیسم - مارکسیسم | (۲) سوسیالیسم - سرمایه‌داری - مارکسیسم |
| (۳) سوسیالیسم - سرمایه‌داری - عدالت‌بنیان | (۴) مارکسیسم - سوسیالیسم - عدالت‌بنیان |



۲۴- صحیح یا غلط بودن عبارات زیر در کدام گزینه به درستی بیان شده است؟

الف) در حالت کمبود عرضه یا مازاد تقاضا، برای رسیدن به تعادل، قیمت باید کاهش یابد، این کاهش قیمت تا رسیدن به سطح قیمت تعادلی و از بین رفتن فاصله‌ی عرضه و تقاضا ادامه می‌یابد.

ب) نقطه‌ی برخورد دو منحنی عرضه و تقاضا، نقطه‌ی تعادل در بازار را نشان می‌دهد که قیمت متناظر با آن، قیمت تعادلی و مقدار متناظر با آن را مقدار تعادلی می‌گویند.

پ) در سطوح قیمت بالاتر از قیمت تعادلی، مصرف‌کنندگان به دلیل قیمت بالا، مایل به خرید تعداد واحد کم‌تری از کالا هستند. در این حالت در بازار این کالا، مازاد عرضه وجود دارد.

ت) در سطوح قیمت پایین‌تر از قیمت تعادلی، مصرف‌کنندگان به دلیل ارزان بودن کالا، مایل به خرید تعداد واحد بیشتری از کالا هستند. در این حالت در بازار این کالا، کمبود تقاضا وجود دارد.

۱) غ - ص - ص - غ ۲) غ - ص - ص - ص ۳) ص - غ - غ - ص ۴) ص - غ - غ - غ

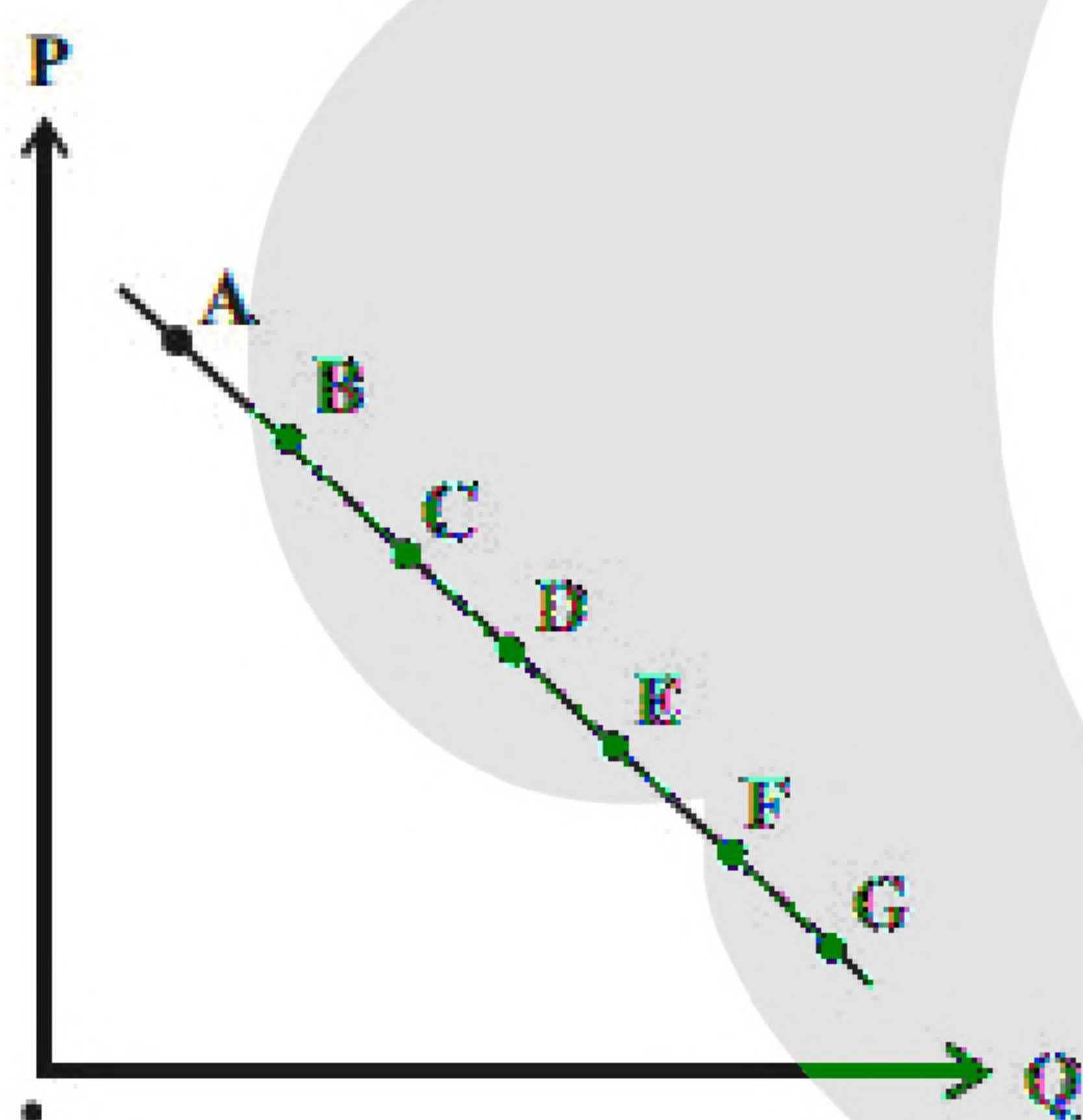
۲۵- با توجه به نمودار منحنی، وضعیت نقطه B در مقایسه با نقطه C چگونه است؟

۱) تقاضا - قیمت بیشتر و مقدار کم‌تر

۲) عرضه - قیمت و مقدار بیشتر

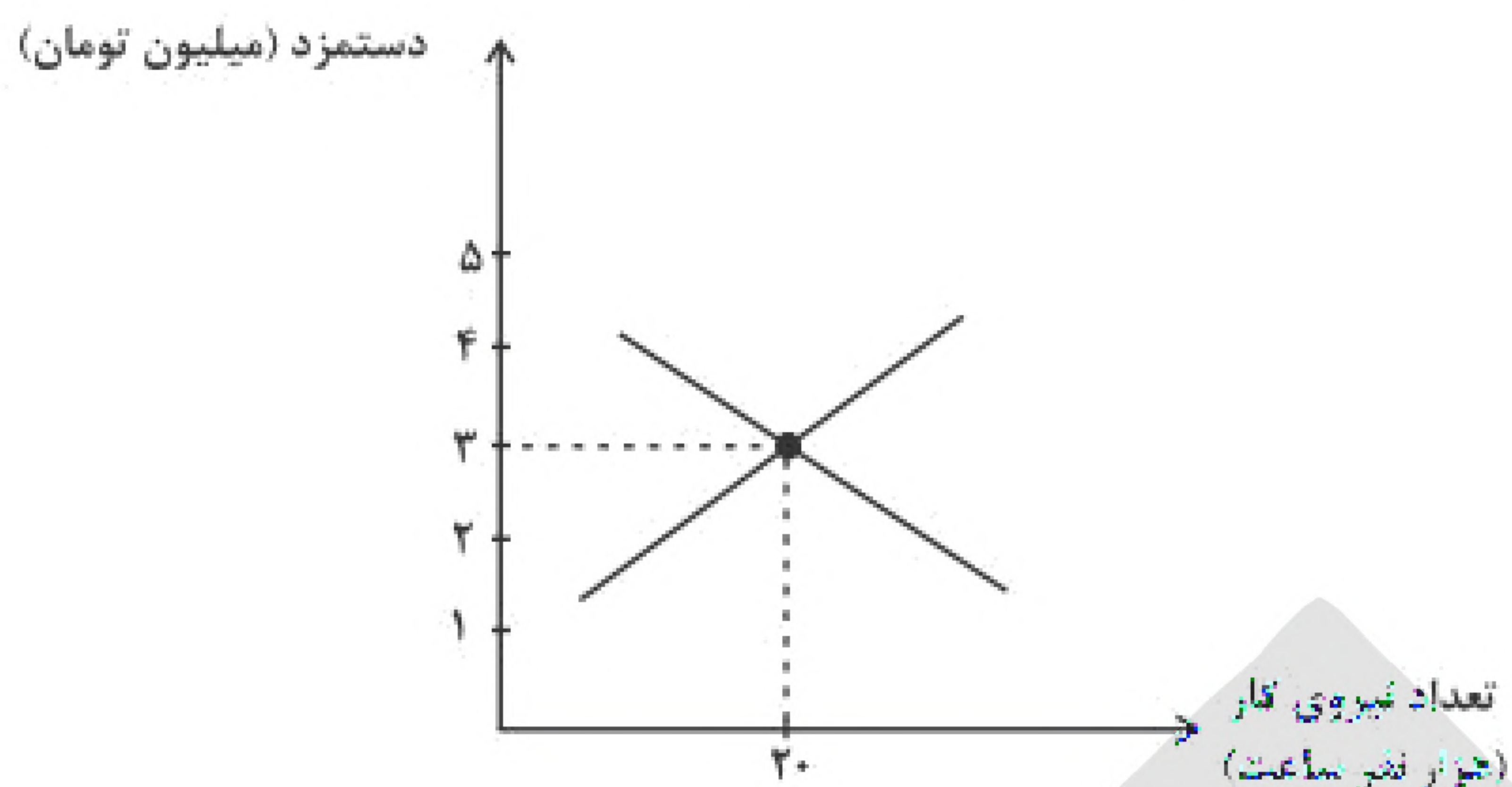
۳) عرضه - قیمت کم‌تر و مقدار بیشتر

۴) تقاضا - قیمت و مقدار کم‌تر





۲۶- با توجه به نمودار زیر که مربوط به میزان عرضه و تقاضای نیروی کار است، کدام گزینه دربردارنده‌ی پاسخ صحیح پرسش‌های زیر است؟



- الف) مازاد عرضه در بازار نیروی کار به چه معناست؟
 ب) کدام عامل میزان عرضه و تقاضا را در بازار نیروی کار تعیین می‌کند؟
 ج) رابطه‌ی میزان تقاضای نیروی کار با سطح دستمزد چگونه است؟
 د) در سطح دستمزد ۲ میلیون تومان چه راهکاری بازار را به تعادل می‌رساند؟

- ۱) الف) تعداد زیادی از افراد، حاضر به کار در این سطح دستمزد هستند ولی کارفرمایان تمایلی به استخدام این تعداد از افراد با این سطح دستمزد ندارند. ب) سطح دستمزد ج) معکوس د) افزایش دستمزد به میزان یک میلیون تومان
 ۲) الف) مؤسسات و بنگاه‌ها تمایل زیادی به استخدام نیروی کار دارند ولی نیروی کار حاضر به استخدام با این سطح از دستمزد نیست. ب) سطح دستمزد ج) مستقیم د) افزایش تعداد کارگران حاضر به کار در سطح دستمزد ۲ میلیون تومان
 ۳) الف) تعداد زیادی از افراد، حاضر به کار در این سطح دستمزد هستند ولی کارفرمایان تمایلی به استخدام این تعداد از افراد با این سطح دستمزد ندارند. ب) قیمت کالاها و خدمات تولیدی ج) مستقیم د) افزایش دستمزد به میزان یک میلیون تومان
 ۴) الف) مؤسسات و بنگاه‌ها تمایل زیادی به استخدام نیروی کار دارند ولی نیروی کار حاضر به استخدام با این سطح از دستمزد نیست. ب) قیمت کالاها و خدمات تولیدی ج) معکوس د) افزایش تعداد کارگران حاضر به کار در سطح دستمزد ۲ میلیون تومان

۲۷- موارد کدام گزینه تکمیل‌کننده‌ی جاهای خالی عبارات زیر است؟

- الف) دولت با امنیت خرید و فروش و مبادلات را بهبود می‌بخشد.
 ب) وظیفه دارد کیفیت یا عدم کیفیت محصولات را تأیید کند.
 ج) داور بازی اقتصاد با عملکرد درست خود می‌تواند برای اقتصاد به وجود آورد.
 د) کالاها و خدماتی مانند می‌توانند توسط افراد زیادی هم‌زمان استفاده شوند و شما نمی‌توانید مردم را از استفاده‌ی آن محروم سازید.
 ۱) الف) نظارت و سیاست‌گذاری، ب) وزارت اقتصاد و امور دارایی، ج) درآمدزایی بسیار خوبی، د) چرخ فلک در شهر بازی
 ۲) الف) نظارت و سیاست‌گذاری، ب) وزارت اقتصاد و امور دارایی، ج) تخصیص‌های بهینه‌ای، د) تیرهای چراغ برق
 ۳) الف) تعریف و اجرای حقوق مالکیت، ب) سازمان استاندارد، ج) تخصیص‌های بهینه‌ای، د) خدمات پلیس
 ۴) الف) تعریف و اجرای حقوق مالکیت، ب) سازمان استاندارد، ج) درآمدزایی بسیار خوبی، د) خدمات پزشکی

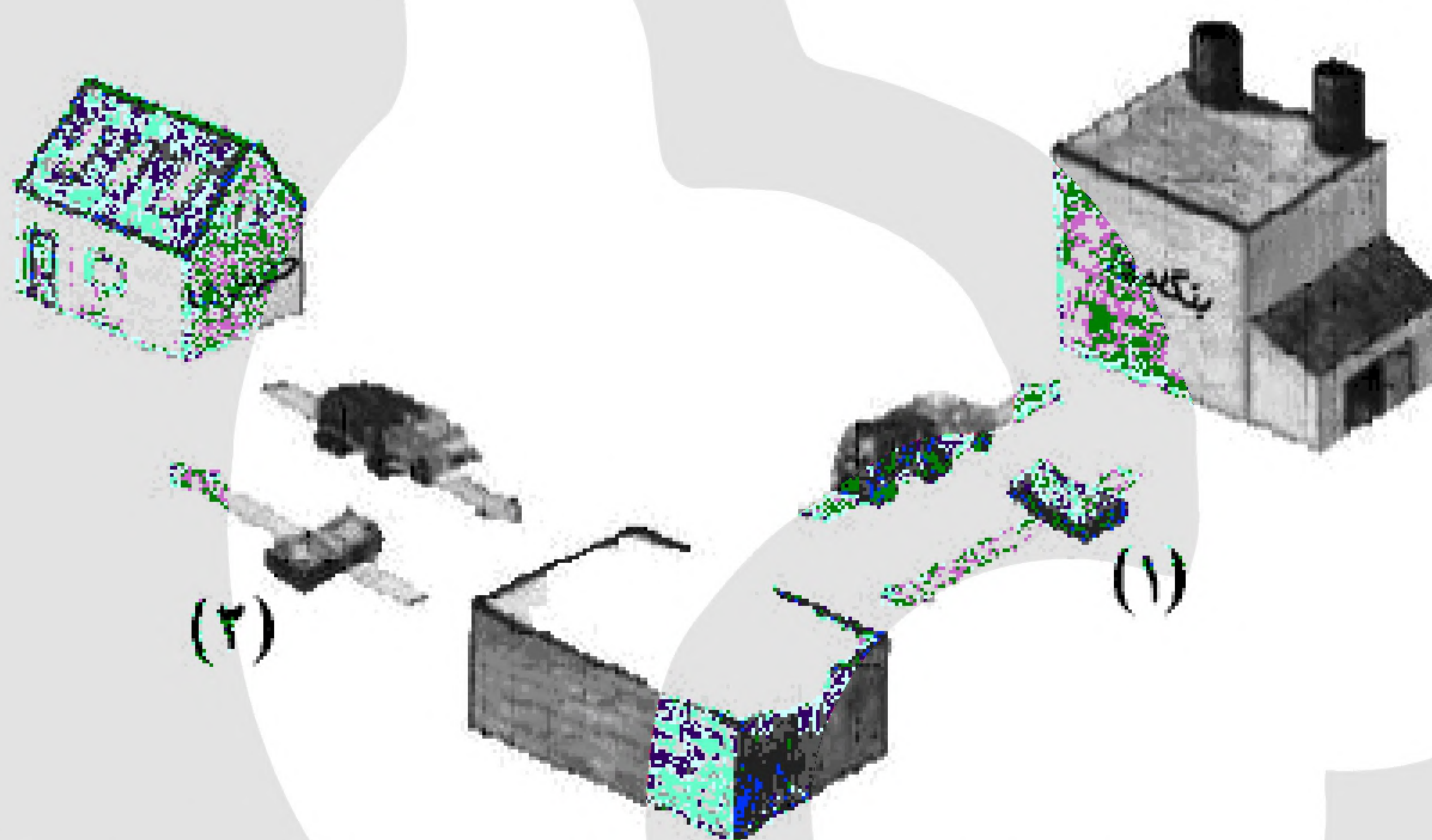


۲۸- کدام گزینه در رابطه با شرایط بازار نادرست است؟

- (۱) در حالت کمبود عرضه یا مازاد تقاضا برای رسیدن به تعادل قیمت باید کاهش یابد، این کاهش قیمت تا رسیدن به سطح قیمت تعادلی و از بین رفتن فاصله‌ی بین عرضه و تقاضا ادامه می‌یابد.
- (۲) نقطه‌ی برخورد دو منحنی عرضه و تقاضا، همان جایی است که دریافتی تولیدکننده به حداکثر می‌رسد.
- (۳) در سطوح قیمت بالاتر از قیمت تعادل، مصرف‌کنندگان به دلیل قیمت بالا، مایل به خرید تعداد واحد کم‌تری از کالا هستند. در این حالت در بازار این کالا، مازاد عرضه وجود دارد.
- (۴) در سطوح قیمت پایین‌تر از قیمت تعادلی، مصرف‌کنندگان به دلیل ارزان بودن کالا، مایل به خرید تعداد واحد بیشتری از کالا هستند. در این حالت در بازار این کالا، تعدادی از مصرف‌کنندگان موفق به خرید کالای مورد نیاز خود نمی‌شوند.

۲۹- موارد کدام گزینه به‌ترتیب تکمیل‌کننده‌ی جاهای خالی عبارات زیر است؟

- الف) چرخه‌ی زیر بیانگر بازار است. در این بازار، خانوارها و بنگاه‌ها هستند و عنوان شماره‌های ۱ و ۲ به‌ترتیب و است.



ب) در کالاهای جانشین اگر قیمت یک کالا افزایش یابد، مقدار تقاضا برای کالای دیگر می‌یابد.

ج) شرکت توانیر در کشور ما، به دلایل انحصارگر در کالای خود به شمار می‌روند.

- (۱) الف) محصولات - خریدار - فروشنده - درآمد - خرید ب) افزایش ج) طبیعی - فروش
- (۲) الف) عوامل تولید - فروشنده - خریدار - پرداخت‌های عوامل تولید - درآمد خانوارها ب) کاهش ج) قانونی - خرید
- (۳) الف) عوامل تولید - فروشنده - خریدار - پرداخت‌های عوامل تولید - درآمد خانوارها ب) افزایش ج) طبیعی - فروش
- (۴) الف) محصولات - خریدار - فروشنده - درآمد - خرید ب) کاهش ج) قانونی - خرید



۳۰- عبارات کدام گزینه دربردارنده‌ی پاسخ صحیح پرسش‌های زیر است؟

(الف) کدام گزینه در رابطه با جریان چرخشی ساده بین خانوارها و بنگاه‌ها در بازارهای محصولات و بازار عوامل تولید، نادرست است؟

(ب) زمانی که قیمت یک کالا افزایش می‌یابد، تقاضا برای کالای افزایش می‌یابد.

(ج) کالای به کالایی گفته می‌شود که با افزایش درآمد، تقاضا برای آن کاهش می‌یابد.

(د) کشور انگلستان در سال ۱۷۰۱ قانون را اعلام کرد.

(ه) در اواخر قرن هجدهم و اوایل قرن نوزدهم، کشورهای تعرفه‌های حمایتی متعددی بر کالاهای وارداتی وضع کردند.

(۱) (الف) خانوارها زمین، نیروی کار، سرمایه و کارآفرینی را برای تولید کالاها و خدمات ارائه می‌کنند. (ب) مکمل، (ج) معمولی، (د) ممنوعیت واردات هر نوع پوشاک با ابریشم ایرانی یا هندی یا چینی، (ه) کانادا - مکزیک - فرانسه

(۲) (الف) در بازار عوامل تولید، خانوارها خریدار و بنگاه‌ها فروشنده‌اند. (ب) جانشین، (ج) پست، (د) ممنوعیت واردات هر نوع پوشاک با ابریشم ایرانی یا هندی یا چینی، (ه) آلمان - اروپای شرقی - ایالات متحده

(۳) (الف) در بازار عوامل تولید، یکی از پرداخت‌هایی که بابت خرید منابع تولید به خانوارها پرداخت می‌شود، دستمزد است. (ب) جانشین، (ج) معمولی، (د) ممنوعیت صادرات هر نوع مواد غذایی به کشورهای ایران، هند و چین، (ه) آلمان - اروپای شرقی - ایالات متحده

(۴) (الف) پول پرداخت شده توسط خانوارها بابت خرید کالاها و خدمات، با عبور از بازار کالا و خدمات به‌عنوان درآمد بنگاه دریافت می‌شود. (ب) مکمل، (ج) پست، (د) ممنوعیت صادرات هر نوع مواد غذایی به کشورهای ایران، هند و چین، (ه) آلمان - اروپای شرقی - ایالات متحده

۳۱- در رابطه با انواع بازار کالا و خدمات چند مورد از عبارت زیر صحیح نیست؟

(الف) در کشور ما شرکت‌هایی خودرویی به دلایل قانونی، انحصارگر در خرید کالای خود به شمار می‌روند. (ب) بازار محصولاتی چون ماکارونی معمولاً رقابتی است.

(ج) انحصار طبیعی و قانونی مشروط به مواظبت و مقررات‌گذاری صحیح می‌تواند برای مصرف‌کننده سودمند باشد.

(د) فروشندگان آثار هنری در نمایشگاه و حراجی‌ها، مناقصه و خریداران عمده کالا و خدمات مزایده برگزار می‌کنند.

(۱) چهار (۲) سه (۳) دو (۴) یک

۳۲- اطلاعات ارائه شده در جدول زیر مربوط به مراحل تولید کتاب است، اگر نرخ مالیات بر ارزش افزوده ۱۵ درصد باشد، آنگاه با توجه به مندرجات جدول زیر،

(الف) مالیات بر ارزش افزوده‌ی جمع‌آوری شده توسط فروشنده در مرحله‌ی دوم چند تومان است؟

(ب) مالیات بر ارزش افزوده‌ی خالص جمع‌آوری شده در مرحله‌ی سوم چند تومان است؟

(ج) مجموع مالیات بر ارزش افزوده‌ی جمع‌آوری شده چند تومان است؟

۱	قیمت فروش «چوب»	۲۲,۰۰۰ تومان
۲	قیمت فروش «خمیر کاغذ»	۳۶,۰۰۰ تومان
۳	قیمت فروش «کاغذ»	۴۴,۰۰۰ تومان
۴	قیمت فروش «کتاب»	۷۲,۰۰۰ تومان

(۱) (الف) ۴,۵۰۰ (ب) ۶,۶۰۰ (ج) ۲۶,۱۰۰

(۲) (الف) ۴,۵۰۰ (ب) ۱,۲۰۰ (ج) ۲۶,۱۰۰

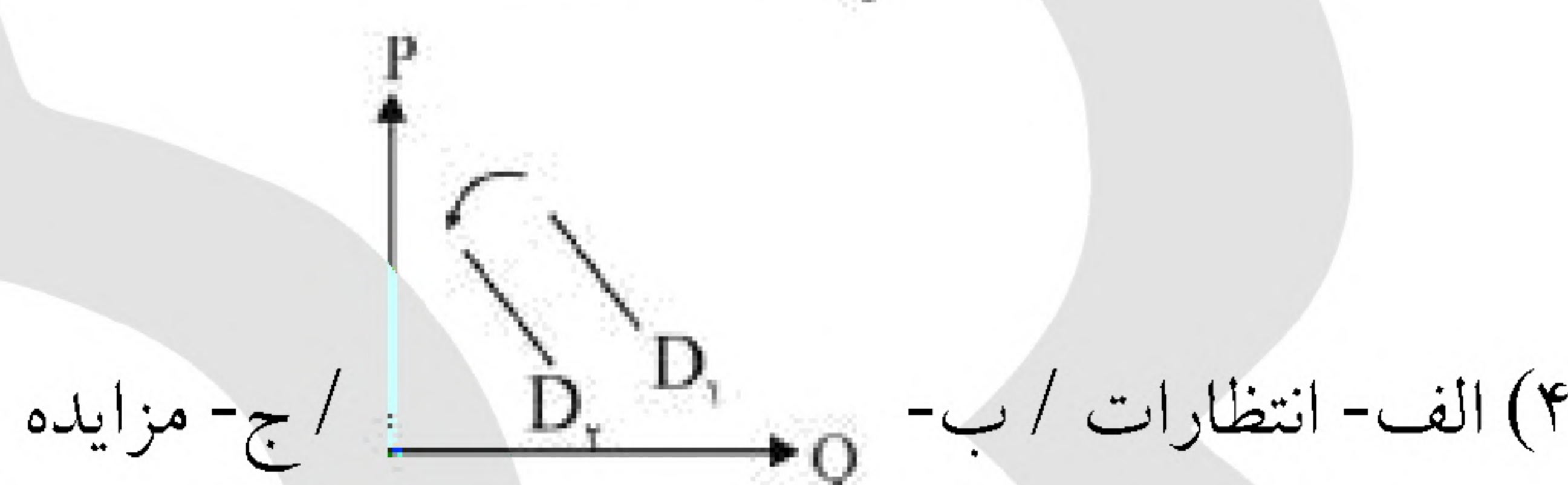
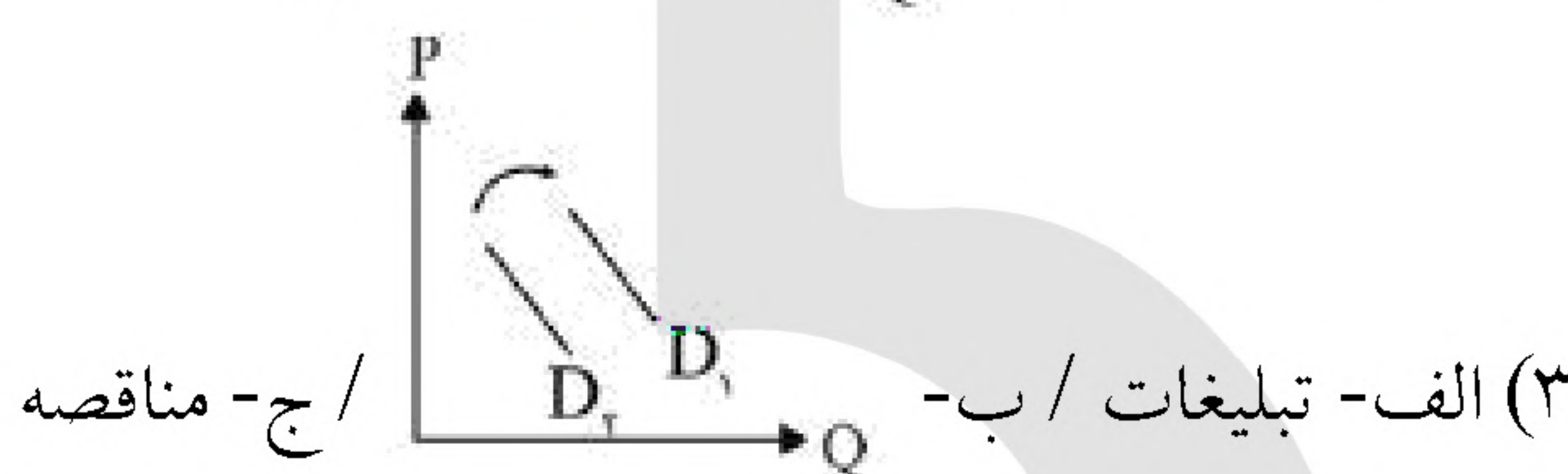
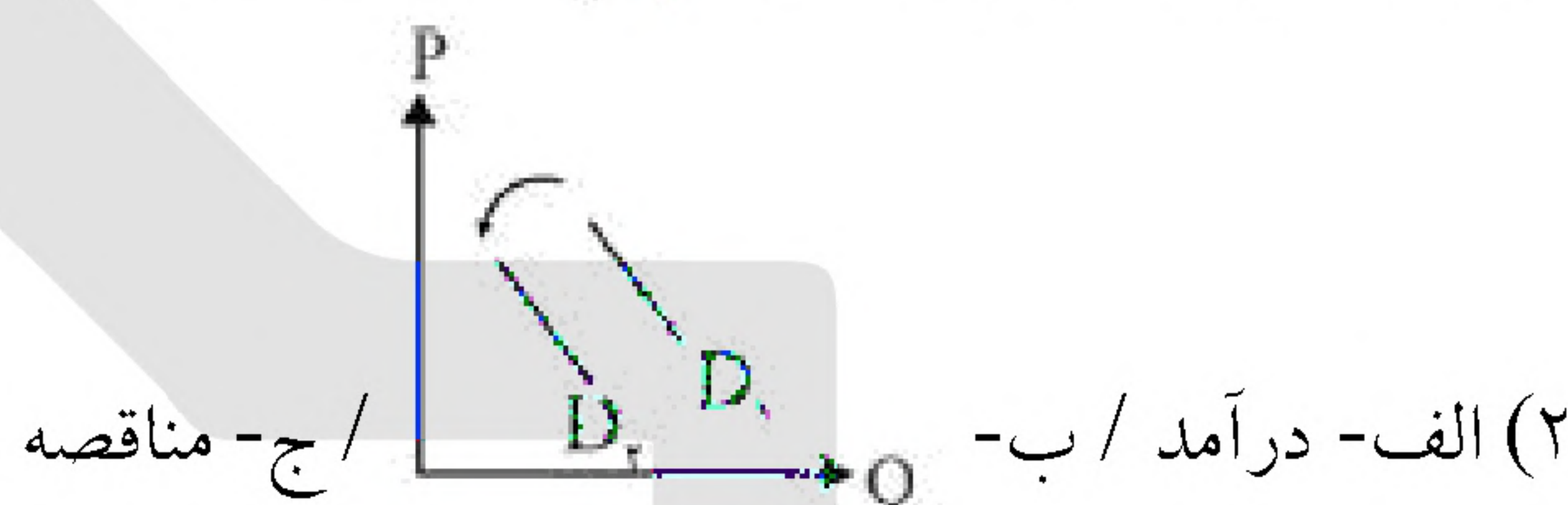
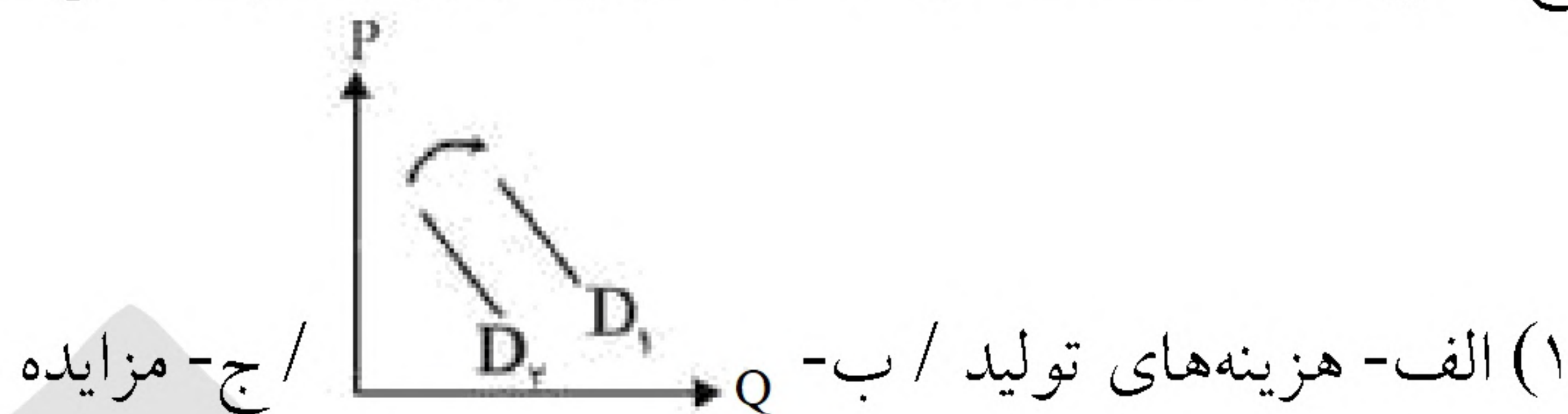
(۳) (الف) ۵,۴۰۰ (ب) ۶,۶۰۰ (ج) ۱۰,۸۰۰

(۴) (الف) ۵,۴۰۰ (ب) ۱,۲۰۰ (ج) ۱۰,۸۰۰



۳۳- با توجه به سوالات زیر کدام گزینه صحیح است؟

- الف- کدام مورد از عوامل تأثیرگذار بر تعداد تقاضا و خرید مصرف‌کنندگان نمی‌باشد؟
 ب- فرض کنید درآمد شخصی افزایش یافته است، کدام گزینه اثرگذاری این موضوع بر خرید کالایی نرمال به معنی تقاضا را به درستی نشان می‌دهد؟
 ج- خریداران عمده کالا و خدمات در چه بازاری شرکت می‌کنند؟



۳۴- در مورد نزدیک شدن یک کشور به وضعیت استقلال و استحکام اقتصادی کدام گزینه نادرست است؟

- (۱) بازارهای فروش کالاهای صادراتی و راه‌های تأمین کالاهای وارداتی را گوناگون کند.
 (۲) اقتصاد تک‌محصولی شکننده و آسیب‌پذیر است، از آن فاصله بگیرد.
 (۳) با خلق مزیت‌های جدید اقتصادی، امکان تأمین همه‌ی نیازهای مهم و اساسی را در داخل کشور فراهم کند.
 (۴) به علم و فناوری و اقتصاد دانش‌بنیان توجه بیشتری داشته باشد.

۳۵- با توجه به جدول داده شده، اگر فردی ۲۲ میلیون ماهانه درآمد داشته باشد، مالیات ماهانه و مانده‌ی خالص او چقدر می‌شود؟

- (۱) ۱,۹۰۰,۰۰۰ - ۲۰,۱۰۰,۰۰۰
 (۲) ۴,۴۰۰,۰۰۰ - ۱۷,۶۰۰,۰۰۰
 (۳) ۲,۰۰۰,۰۰۰ - ۲۰,۰۰۰,۰۰۰
 (۴) ۱,۸۰۰,۰۰۰ - ۲۰,۲۰۰,۰۰۰

تا ۳,۰۰۰,۰۰۰	معاف
تا ۲۱,۰۰۰,۰۰۰	۱۰٪ نسبت به مازاد ۳,۰۰۰,۰۰۰
بالاتر از ۲۱,۰۰۰,۰۰۰	۲۰٪ نسبت به مازاد ۲۱,۰۰۰,۰۰۰



۳۶- کدام گزینه جدول را (به ترتیب) کامل می کند؟

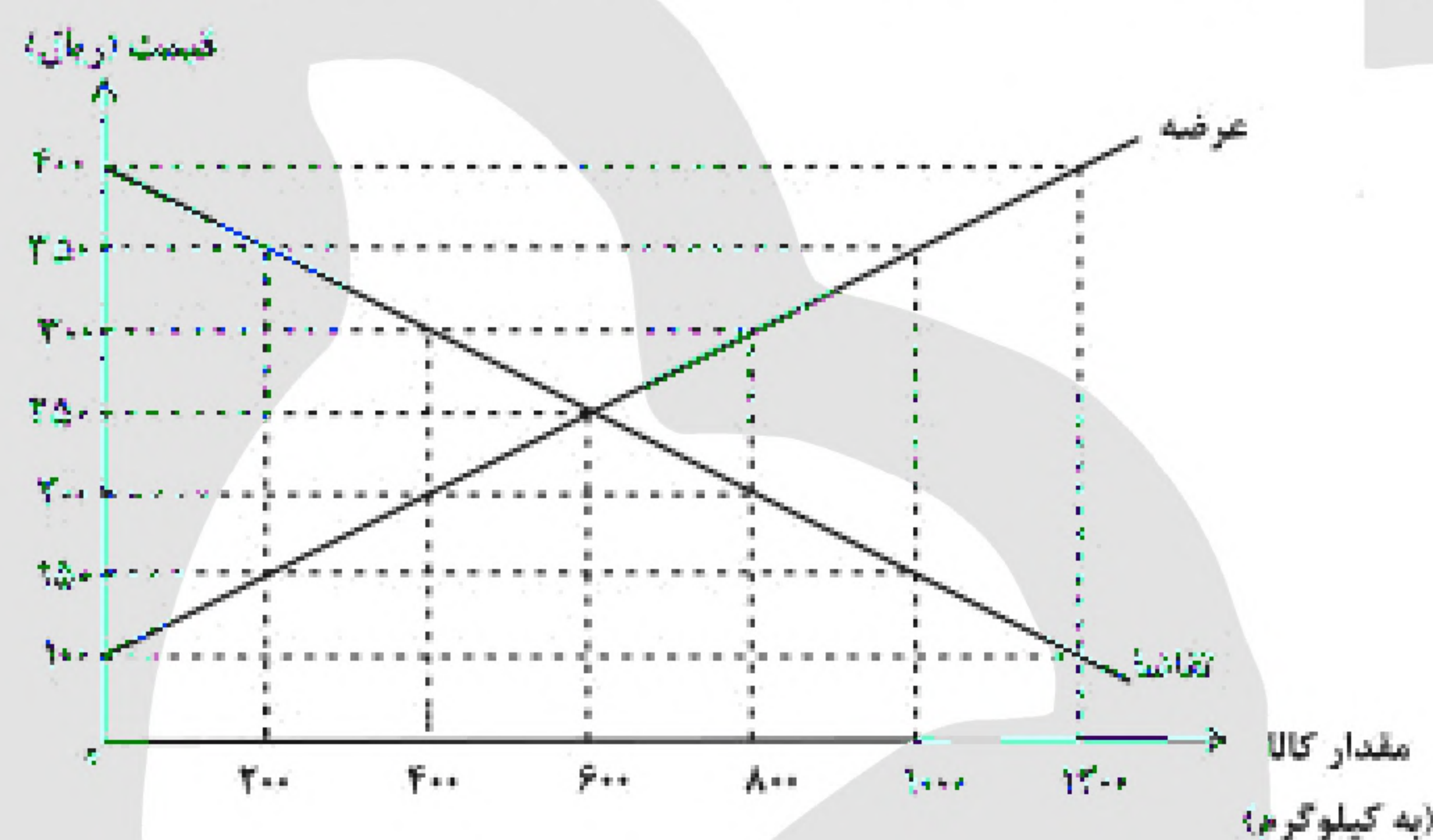
د	مهم ترین نوع مالیات	ب	ابزار مهم دولت در کاهش فاصله ی طبقاتی
عوارض پسماند	ج	مالیات بر ارث	الف

- (۱) مالیات بر مصرف - مالیات غیرمستقیم - مالیات بر درآمد - عوارض خدماتی
- (۲) مالیات - مهم ترین نوع مالیات بر دارایی - مالیات بر درآمد - مالیات غیرمستقیم
- (۳) مالیات بر مصرف - مهم ترین نوع مالیات بر دارایی - مالیات بر ارزش افزوده - مالیات غیرمستقیم
- (۴) مالیات - مالیات مستقیم - مالیات بر ارزش افزوده - عوارض خدماتی

۳۷- کدام درآمد دولت، درآمدی پایدار است؟

- (۱) فروش دارایی های تجدیدناپذیر
- (۲) فروش نفت
- (۳) قرض از مردم
- (۴) مالیات

۳۸- کدام گزینه در مورد نمودار زیر، که مربوط به عرضه و تقاضای یک کالای خاص در بازار است، نادرست می باشد؟



- (۱) سطح قیمت ۲۵۰ ریال «قیمت تعادلی» و ۶۰۰ کیلو مقدار تعادلی است.
- (۲) در سطح قیمت ۲۰۰ ریال کمبود عرضه ای معادل ۴۰۰ کیلو داریم.
- (۳) در سطح قیمت ۳۵۰ ریال کمبود تقاضایی معادل ۸۰۰ کیلو داریم.
- (۴) در سطح قیمت ۳۰۰ ریال برای رسیدن به تعادل، قیمت باید ۱۰۰ ریال کاهش یابد.

۳۹- به ترتیب، هریک از موارد زیر، بیانگر کدام یک از وظایف دولت می باشد؟

- تأمین امنیت و بهداشت مردم
 - تعریف و اجرای حق مالکیت
 - تضمین وجود اطلاعات و آگاهی های لازم برای مبادله
 - سرمایه گذاری در حوزه های احداث جاده و پل
- (۱) ارائه کالای عمومی - بهبود عملکرد بازار - ارائه کالای عمومی - ارائه کالای عمومی
 - (۲) بهبود عملکرد بازار - ارائه کالای عمومی - ارائه کالای عمومی - بهبود عملکرد بازار
 - (۳) ارائه کالای عمومی - بهبود عملکرد بازار - بهبود عملکرد بازار - ارائه کالای عمومی
 - (۴) بهبود عملکرد بازار - ارائه کالای عمومی - بهبود عملکرد بازار - بهبود عملکرد بازار



۴۰- دولت‌ها با چه هدفی پیمان‌های تجاری وضع می‌کنند و تعرفه‌ها را کاهش می‌دهند؟ در چه صورتی تجارت خارجی می‌تواند برای کشوری آسیب‌رسان باشد؟ چه عاملی می‌تواند موجب بهانه‌جویی و سلطه‌ی رقیب یا دشمن و نهایتاً ضعف و وابستگی یک کشور شود؟

(۱) برای حمایت از صنایع داخلی خود و کاهش وابستگی اقتصادی به کشورهای دیگر - اگر تمرکز بر مزیت‌های نسبی و مطلق وجود نداشته باشد - وابستگی در تأمین کالاهای راهبردی و ضروری

(۲) گسترش روابط اقتصادی‌شان با کشورهایی که دیدگاه‌های نزدیک سیاسی با یکدیگر دارند. - چنانچه تجارت سبب آسیب رساندن به قدرت و استقلال اقتصادی یک کشور شود. - وابستگی در تأمین کالاهای راهبردی و ضروری

(۳) گسترش روابط اقتصادی‌شان با کشورهایی که دیدگاه‌های نزدیک سیاسی با یکدیگر دارند. - چنانچه تجارت به صورت یک طرفه و بدون بازگشت باشد. وابستگی در زمینه‌ی صنایع نظامی و دفاعی به بیگانگان

(۴) برای حمایت از صنایع داخلی خود و کاهش وابستگی اقتصادی به کشورهای دیگر - چنانچه تجارت سبب آسیب رساندن به قدرت و استقلال اقتصادی یک کشور شود. - رفتار خودخواهانه‌ی برخی کشورها در به تاراج بردن منابع کشورهای ضعیف‌تر