

# بانک سوال رایگان

+ پاسخ  
تشریحی

## یاوران دانش



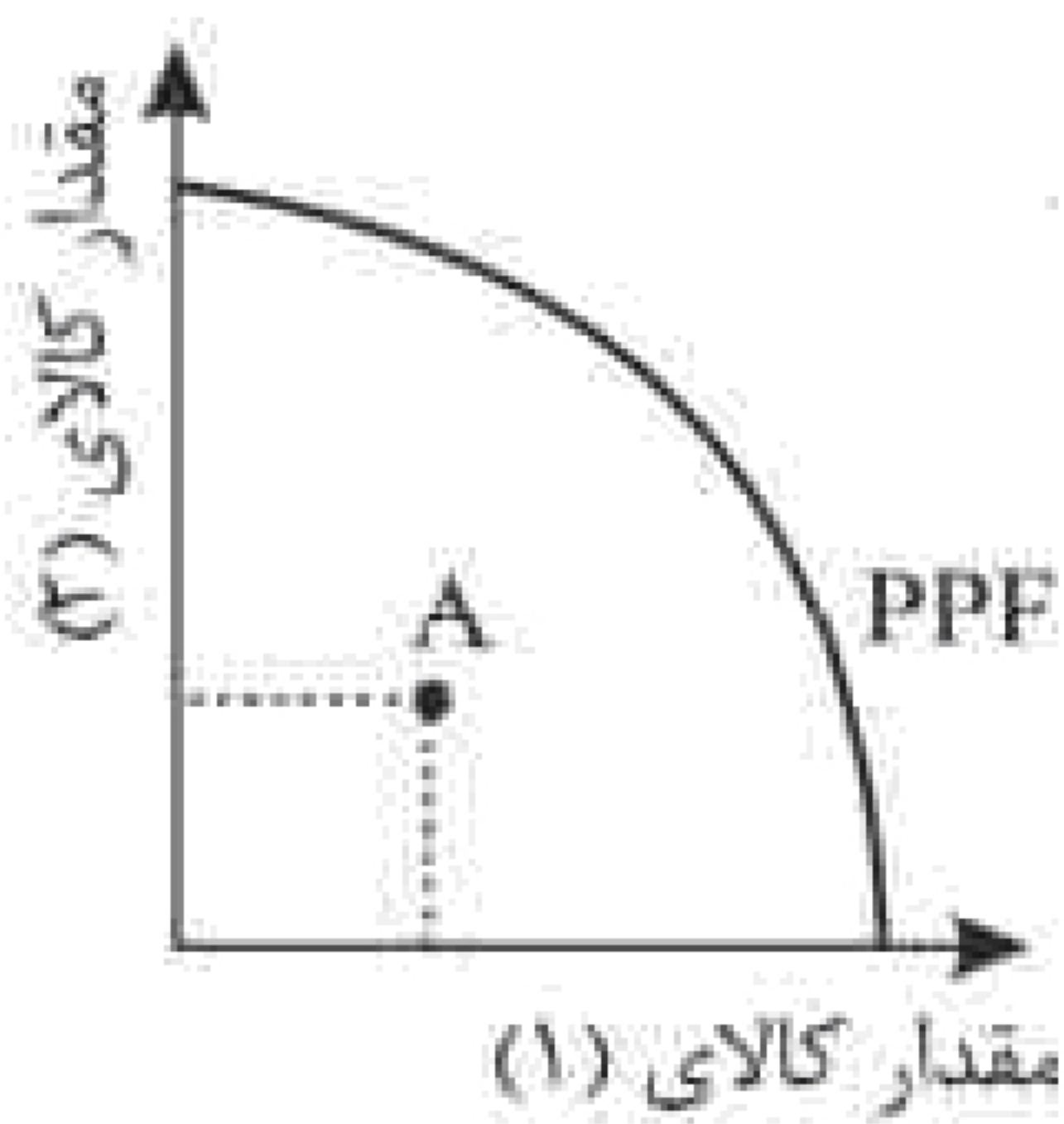
راه های ارتباطی با ما:

[www.Dyavari.com](http://www.Dyavari.com)

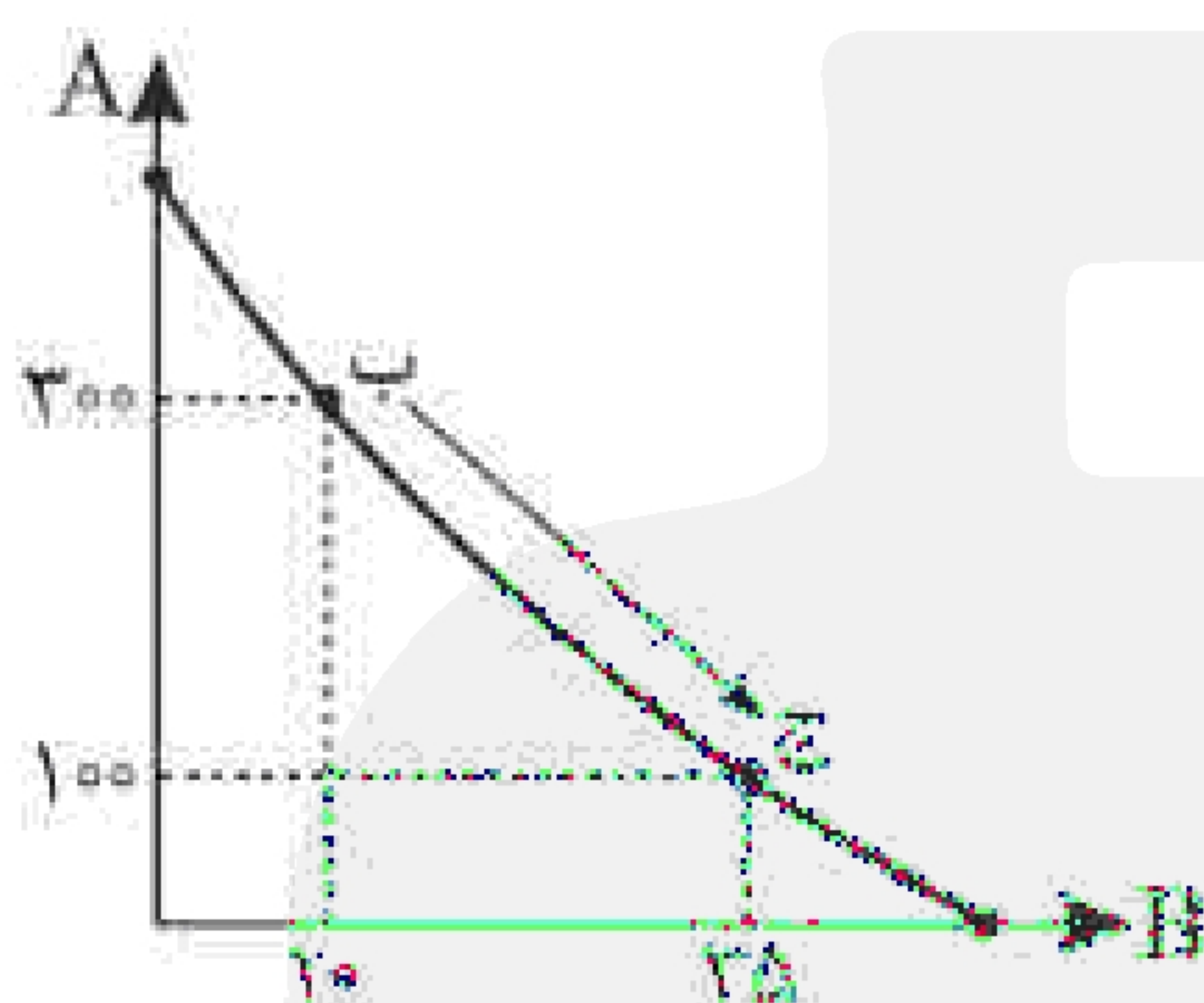
۰۲۱ ۸۲ ۸۰ ۳۷ ۷۰

۰۲۱ ۷۶ ۷۰ ۳۸ ۵۸

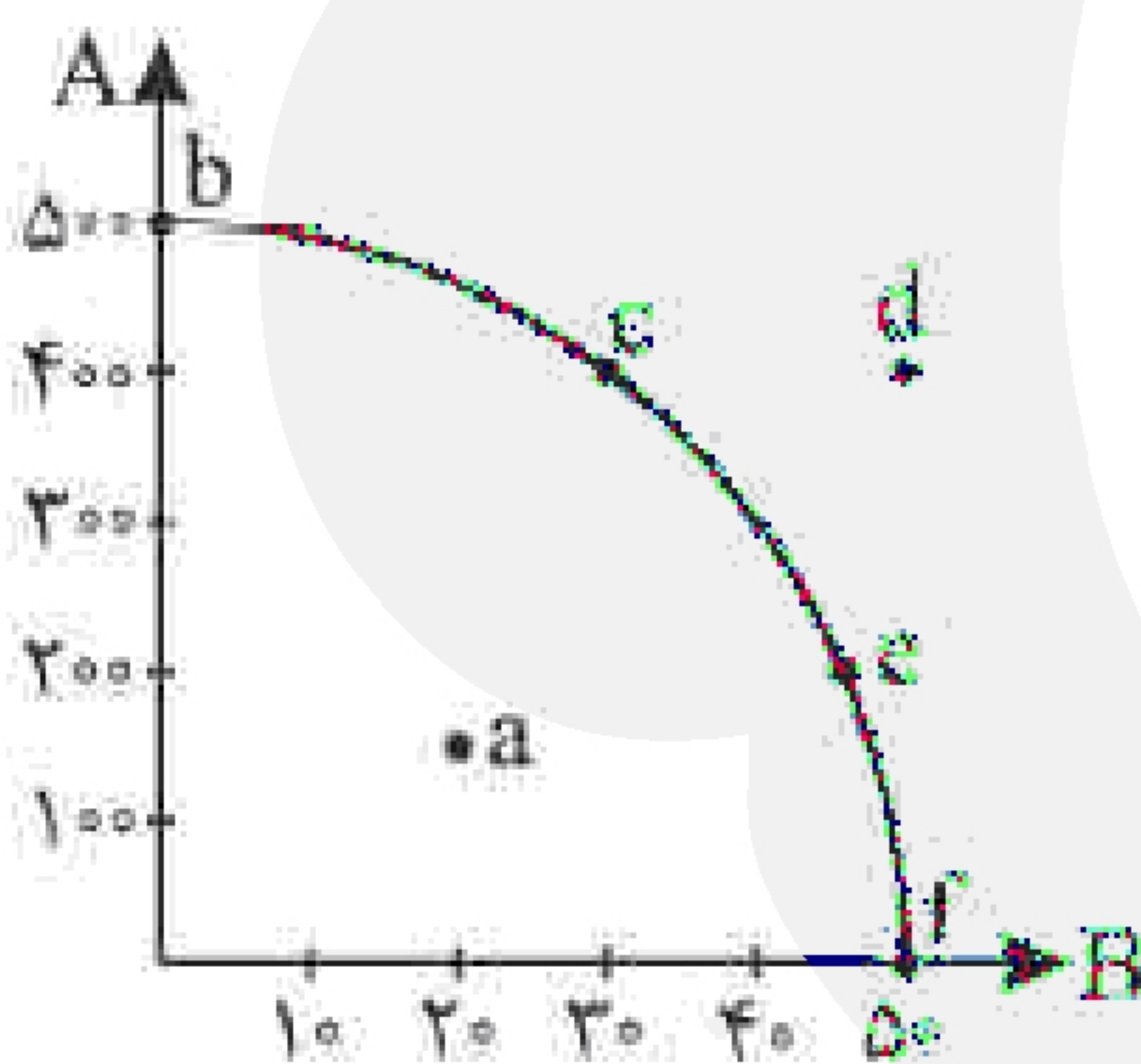




- ۱- با توجه به منحنی داده شده و موقعیت نقطه‌ی A کدام گزینه نادرست است؟  
 (۱) ضعیف بودن ساختار اقتصادی، قاچاق، واردات بی‌رویه و نیز تحریم‌های اقتصادی باعث کاهش تولیدات می‌شود.  
 (۲) با پدید آمدن رکود، کارگران کمتری هم مورد نیاز است و سرمایه‌ی کمتری مورد استفاده قرار می‌گیرد.  
 (۳) وقتی یک اقتصاد منابع غیرفعال دارد، احتیاج به انتقال منابع از تولید یک کالا به کالای دیگر وجود دارد.  
 (۴) دلیل قرار گرفتن روی نقطه‌ی A، این است که شاید برخی کارخانه‌ها بسته شده‌اند یا بعضی از کارگرها بیکار هستند.



- ۲- با توجه به نمودار مقابل که مربوط به قید بودجه برای خرید دو کالای A و B است، هزینه‌ی فرصت انتقال نقطه‌ی (ب) به (ج) کدام است؟  
 (۱) هزینه‌ی فرصت تولید ۳۰۰ واحد کالای A، ۲۵ واحد از کالای B است که از دست می‌دهیم.  
 (۲) هزینه‌ی فرصت تولید ۳۵ واحد کالای B، ۲۰۰ واحد از کالای A است که از دست می‌دهیم.  
 (۳) هزینه‌ی فرصت افزایش تولید ۲۰۰ واحد کالای A، ۲۵ واحد از کالای B است که از دست می‌دهیم.  
 (۴) هزینه‌ی فرصت افزایش تولید ۲۵ واحد کالای B، ۲۰۰ واحد از کالای A است که از دست می‌دهیم.



- ۳- با توجه به نمودار مقابل که مرز امکانات تولید دو کالای A و B است، چه تعداد از عبارتهای زیر درست است؟  
 الف) نقطه‌ی (b)، نقطه‌ی آرمانی و خارج از دسترس است.  
 ب) نقطه‌ی (a)، استفاده‌ی حداکثری از منابع موجود را نشان می‌دهد.  
 ج) هرچه از نقطه‌ی (f) به سمت نقطه‌ی (b) برویم، تولید کالای A کمتر و تولید B بیشتر می‌شود.

- (۱) سه  
 (۲) دو  
 (۳) یک  
 (۴) صفر

- ۴- قانون سوم و پنجم، برای هر تصمیم‌گیری درست اقتصادی کدام هستند؟ (به ترتیب)

- (۱) قید بودجه‌ی خود را ترسیم کنیم - هزینه‌ی فرصت هر انتخاب را محاسبه کنیم.  
 (۲) قید بودجه‌ی خود را ترسیم کنیم - بین هزینه‌ها و منافع خود، مقایسه کنیم.  
 (۳) هزینه‌ی فرصت هر انتخاب را محاسبه کنیم - بین هزینه‌ها و منافع خود، مقایسه کنیم.  
 (۴) هزینه‌ی فرصت هر انتخاب را محاسبه کنیم - قید بودجه‌ی خود را ترسیم کنیم.





۵- کدام گزینه به ترتیب، پاسخ پرسش‌های زیر است؟

- از معایب ایجاد شرکت (سهامی) است.
- نحوه‌ی اداره‌ی این شرکت بر اساس هر نفر یک رأس است.
- مهم‌ترین شرکت از انواع شرکت‌ها است.
- از نمونه‌های کسب و کار شخصی می‌باشد.
- (۱) پیچیدگی در رابطه‌ی مدیریت و مالکیت - شرکت تعاونی - شرکت تعاونی - مشاغل خویش‌فرما
- (۲) تقسیم سود متناسب با مالکیت سهام - شرکت تعاونی - شرکت سهامی - مشاغل خویش‌فرما
- (۳) هزینه‌ی راه‌اندازی بالاتر - شرکت سهامی - شرکت تعاونی - صنعت‌گران خرد
- (۴) قوانین پیچیده‌تر و گزارش‌دهی بیشتر - شرکت سهامی - شرکت سهامی - صنعت‌گران خرد

۶- با توجه به جدول زیر که میزان و منافع محصولات مختلفی که یک کشاورز می‌تواند با کاشت به‌دست آورد را نشان می‌دهد:

نوع محصول	میزان (به کیلو)	منافع هر کیلو (به تومان)
گندم	۱۰۰۰	۴۵۰
جو	۸۰۰	۵۰۰
سیب‌زمینی	۴۰۰	۸۰۰
پیاز	۳۰۰	۹۰۰

الف- انتخاب کشاورز کدام محصول است؟

ب- هزینه فرصت این انتخاب کدام است؟

- (۱) الف: گندم - ب: ۳۲۰,۰۰۰ تومان منفعت حاصل از کشت سیب‌زمینی
- (۲) الف: سیب‌زمینی - ب: ۴۵۰,۰۰۰ تومان منفعت حاصل از کشت گندم
- (۳) الف: سیب‌زمینی - ب: ۱,۱۲۰,۰۰۰ تومان منفعت حاصل از کشت گندم، جو و پیاز
- (۴) الف: گندم - ب: ۴۰۰,۰۰۰ تومان منفعت حاصل از کشت جو

۷- کدام گزینه نادرست است؟

- (۱) صاحبان کسب‌وکار حرام معمولاً از رانت‌ها و موقعیت‌هایی که با فریب و ظاهرسازی به‌دست می‌آورند، سوءاستفاده می‌کنند.
- (۲) این افراد با فعالیت غیرقانونی به هم‌نوعانشان ظلم می‌کنند و برکت را از زندگی خودشان دور می‌کنند.
- (۳) اگر کسی بخواهد با آن‌ها وارد رقابت اقتصادی شود، با انواع شگردها او را از پای درمی‌آورند و درآمد خودشان را حفظ می‌کنند.
- (۴) از مزایای کسب حلال نیز محروم مانده و اقتصاد خود و جامعه را در سرایشی سقوط قرار می‌دهند.





- ۸- پاسخ درست سؤالات زیر به ترتیب در کدام گزینه آمده است؟
- الف- ایجاد شرکت سهامی از پرهزینه‌ترین نوع کسب‌وکار است زیرا ..... .
- ب- در ساختار سازمانی شرکت سهامی بالاترین مرجع قانونی چیست؟
- ج- امکان افزایش سرمایه یا تأمین مالی در شرکت‌ها از چه طریقی انجام نمی‌شود؟
- د- اگر دارایی شرکتی ۸۵۰,۰۰۰ سهم باشد و فردی ۴۰٪ مالک این شرکت باشد، تعداد سهام این فرد را مشخص کنید.
- (۱) برای شرکت باید اساس‌نامه نوشته شود - رئیس هیئت‌مدیره - وام بانکی - ۳۴۰,۰۰۰
- (۲) عمل به قوانین وضع شده از طرف دولت برای اطمینان به سرمایه‌گذاران - سهامداران - قرض از دوستان و خانواده - ۳۴۰,۰۰۰
- (۳) عمل به قوانین وضع شده از طرف دولت برای اطمینان به سرمایه‌گذاران - رئیس هیئت‌مدیره - افزایش تعداد سهامداران - ۳۰۴,۰۰۰
- (۴) برای شرکت باید اساس‌نامه نوشته شود - سهامداران - فروش کالاهای سرمایه‌های مستهلک - ۳۰۴,۰۰۰

- ۹- تولیدکننده‌ای در فرآیند تولید هزینه‌هایی مطابق جدول زیر متحمل می‌شود. اگر این تولیدکننده بخواهد سالانه ۴۹,۵۶۰,۰۰۰ ریال سود کند، باید هر واحد کالای تولیدی را چند ریال به فروش برساند؟

مواد مورد نیاز سالانه	۴,۱۰۰,۰۰۰ ریال
تعداد کارگران و کارمندان	۱۰ نفر
حقوق متوسط ماهانه کارگران و کارمندان	۱۵۰,۰۰۰ ریال
اجاره ماهانه بنگاه	۷۲۰,۰۰۰ ریال
تعداد کالای تولید شده	۸۵۰ کالا
هزینه استهلاک	$\frac{1}{5}$ ارزش حقوق سالانه
تعداد کالای فروخته شده	۸۳۹ کالا

(۱) ۹۷,۰۰۰ ریال (۲) ۱۰۰,۰۰۰ ریال (۳) ۹۸,۷۰۵ ریال (۴) ۹۰,۰۰۰ ریال

- ۱۰- با توجه به سؤالات زیر کدام گزینه درست است؟
- الف- افراد با چه ویژگی می‌توانند یک کسب‌وکار جدید راه‌اندازی کنند؟
- ب- کارآفرین در آغاز کار چه چیزی را باید بداند؟
- ج- احتمال موفقیت و سودآوری در کسب‌وکار انگیزه لازم برای چیست؟
- (۱) الف: آگاهی و دانش - ب: احتمال موفقیت کم‌تر یا عدم موفقیت - ج: شروع فعالیتی اقتصادی و پذیرش خطرات آن
- (۲) الف: آگاهی و دانش - ب: ترکیب مختلف و مناسب عوامل تولید - ج: تولید محصولات جدید یا راه‌های جدید برای تولید
- (۳) الف: مهارت ابتکار عمل - ب: ترکیب مختلف و مناسب عوامل تولید - ج: شروع فعالیتی اقتصادی و پذیرش خطرات آن
- (۴) الف: مهارت ابتکار عمل - ب: احتمال موفقیت کم‌تر یا عدم موفقیت - ج: شروع فعالیتی اقتصادی و پذیرش فطری آن





۱۱- چه تعداد از عبارات زیر درست است؟

- الف- در سازمان تولید مشخص می‌شود که مالک محصول یا کالایی (واسطه‌ای) که به مشتری عرضه می‌شود، کیست.  
ب- اسناد مربوط به هزینه‌ها و درآمدها، مبنای تعیین مالیات بر کسب‌وکار است.  
ج- در کسب‌وکار شخصی، مسئولیتی محدود در مقابل بدهی‌ها و دعاوی وجود دارد.  
د- شرکت، کسب‌وکاری است که هویت قانونی دارد.

(۱) ۴ مورد (۲) ۳ مورد (۳) ۲ مورد (۴) ۱ مورد

۱۲- کدام گزینه در مورد تعاونی‌ها درست است؟

- (۱) مراحل راه‌اندازی کاملاً مشابه با شرکت‌ها دارند - نحوه اداره بر اساس هر نفر یک رأی است - توزیع سود به نسبت سرمایه اعضاست.  
(۲) مراحل راه‌اندازی کاملاً مشابه با شرکت‌ها دارند - مسئولیت‌ها به اندازه سهم است - توزیع سود مساوی و عادلانه است.  
(۳) مراحل راه‌اندازی کم‌وبیش مشابه با شرکت‌ها دارند - نحوه اداره بر اساس هر نفر یک رأی است - توزیع سود به نسبت سرمایه اعضاست.  
(۴) مراحل راه‌اندازی کم‌وبیش مشابه با شرکت‌ها دارند - مسئولیت‌ها به اندازه سهم است - توزیع سود مساوی و عادلانه است.

«بانک سوال یاوران دانش»

۱۳- کدام گزینه جدول را کامل می‌کند؟

الف	یادگیرنده	ج
اشتیاق و توانایی حل مسئله را دارند.	ب	مدیریت هماهنگ و کارآی منابع

- (۱) پرانگیزه - واقع‌بین و مطمئن به موفقیت - سازمان‌دهنده  
(۲) پرانگیزه - وفق دادن با شرایط بازار - سازمان‌دهنده  
(۳) تیزبین - واقع‌بین و مطمئن به موفقیت - نوآور  
(۴) تیزبین - وفق دادن با شرایط بازار - نوآور





۱۴- درست د یا غلط غ بودن هریک از عبارت‌های زیر، به ترتیب چگونه است؟

الف) کارآفرینان یا مؤسسان شرکت‌ها با کار و تلاش خود از کسب‌وکارها مراقبت می‌کنند، که این کار بسیار مهم ولی در عین حال آسان است؛ چرا که بسیاری از کسب‌وکارهای نوپا عمر طولانی دارند؛ به طوری که بیش از نیمی از آنها می‌توانند از شش سالگی عبور و به کار خود ادامه دهند.

ب) در کنار این که احتمال از بین رفتن و شکست یک کسب‌وکار وجود دارد، احتمال موفقیت و سودآوری آن هم کم نیست. این احتمال موفقیت و سودآوری، انگیزه لازم برای شروع فعالیت اقتصادی و پذیرفتن خطرات آن توسط کارآفرینان است.

ج) یک کارآفرین موفق ضرورتاً از ابتدا کارآفرین بوده است و حرکت با نوآوری و فراهم آوردن بازار خوب برای فروش محصولاتش، او را قدم به قدم از سطوح ابتدایی کار به درجه‌های بالای آن می‌رساند.

د) کارآفرین باید بداند که در آغاز کارش حتماً با موفقیت روبه‌رو خواهد شد و می‌تواند از محل سودی که کسب می‌کند، سرمایه لازم برای راه‌اندازی کسب‌وکارش را تأمین کند.

ه) کارآفرین باید اتخاذ تصمیمات مناسب درباره مسائل تخصصی مانند پیشنهاد محصول و تبلیغات را به متخصصان آن واگذار کند و در این خصوص مداخله‌ای نکند.

۱) د - غ - د - د - د      ۲) د - غ - د - غ - غ      ۳) غ - د - غ - غ - غ      ۴) غ - د - د - د - د

۱۵- یک شرکت تولیدی اقدام به فروش ۱۵۰,۰۰۰ سهم از ۲۵۰,۰۰۰ سهم کل شرکت به قیمت هر سهم ۱۰,۰۰۰ تومان می‌نماید، اگر آقای احمدی بخواهد ۲۰,۰۰۰ سهم این شرکت را بخرد:

الف) چه قدر باید هزینه کند؟

ب) با خرید این سهام، او مالک چند درصد از شرکت خواهد شد؟

ج) اگر سود سالانه این شرکت یک میلیارد تومان باشد، چه مقدار سود به آقای احمدی تعلق می‌گیرد؟

۱) الف) ۱۵۰,۰۰۰,۰۰۰ تومان ب) ۶ درصد ج) ۱۳۰ میلیون تومان

۲) الف) ۲۰۰,۰۰۰,۰۰۰ تومان ب) ۸ درصد ج) ۸۰ میلیون تومان

۳) الف) ۲۰۰,۰۰۰,۰۰۰ تومان ب) ۰/۰۸ درصد ج) ۸ میلیون تومان

۴) الف) ۱۵۰,۰۰۰,۰۰۰ تومان ب) ۰/۰۶ درصد ج) ۱۳ میلیون تومان

۱۶- کدام موارد در خصوص کسب‌وکارهای شخصی نادرست است؟

الف) بیشتر آنها بزرگ‌مقیاس‌اند و در برخی از فعالیت‌های خاص مانند صنعت حضور دارند.

ب) مشاغل خویش‌فرمایی، بنگاه‌های معاملات ملکی، خرده‌فروشان، کشاورزان، صنعتگران خرد نمونه‌هایی از کسب‌وکارهای شخصی هستند.

ج) اغلب کسب‌وکارها در ایران به شکل شخصی است.

د) کسب‌وکار شخصی متعلق به دو نفر یا بیشتر است.

ه) در زمینه‌های تخصصی مانند پزشکی، دندان‌پزشکی، وکالت و حسابداری اغلب کسب‌وکارها شخصی‌اند.

۱) الف - ب      ۲) الف - د      ۳) د - ه      ۴) ج - ه





۱۷- با توجه به اطلاعات ارائه شده در جدول زیر، نتیجه‌ی سود سالانه‌ی یک بنگاه تولیدی با ۱۱ نفر کارگر و تولید ماهانه ۷۰۰ دستگاه هر یک به ارزش ۱۰۰ هزار ریال کدام است؟

حقوق متوسط ماهیانه هر فرد	۴,۰۰۰,۰۰۰ ریال
خرید مواد اولیه مورد نیاز سالیانه	۱۰۰,۰۰۰,۰۰۰ ریال
هزینه استهلاک	معادل ۱۶ درصد درآمد سالیانه
اجاره ماهیانه	۱۷,۵۰۰,۰۰۰ ریال

(۱) سود ۱۳۲,۴۰۰,۰۰۰ (۲) زیان ۱۳۲,۴۰۰,۰۰۰ (۳) سود ۹۰۲,۴۰۰,۰۰۰ (۴) زیان ۹۰۲,۴۰۰,۰۰۰

۱۸- صحیح (ص) یا غلط (غ) بودن عبارات زیر در کدام گزینه به درستی بیان شده است؟  
الف) در یک کسب و کار با اینکه احتمال از بین رفتن و شکست وجود دارد، احتمال موفقیت و سودآوری آن هم کم نیست.

ب) این موضوع که کارآفرینان موفق «مطمئن و دلگرم به موفقیت اقتصادی هستند»، اشاره به ویژگی ریسک‌پذیر بودن آنها دارد.

ج) اگر درآمدهای به دست آمده از هزینه‌های تولید بیشتر باشد، کسب و کار شما زیان کرده است.

د) مسئولیت محدود برای سهام‌داران از معایب ایجاد یک شرکت سهامی است.

ه) مسئولیت نامحدود در مقابل بدهی‌ها و دعاوی از معایب کسب و کار شخصی است.

و) محدوده‌ی عمل مؤسسات غیرانتفاعی گاهی محلی و گاهی ملی و حتی جهانی است.

(۱) ص - ص - ص - غ - غ - غ (۲) غ - ص - ص - ص - غ - غ

(۳) ص - غ - غ - غ - ص - ص (۴) غ - غ - ص - ص - ص - ص

۱۹- برای تصمیم‌گیری منطقی در اقتصاد انجام چه کاری لازم است و بهترین تصمیم به چه چیزی بستگی دارد؟

(۱) مقایسه‌ی هزینه‌ها با منافع - میزان منابع (۲) محاسبه‌ی هزینه‌های هدررفته - نوع رویکرد

(۳) محاسبه‌ی هزینه‌های هدررفته - میزان منابع (۴) مقایسه‌ی هزینه‌ها با منافع - نوع رویکرد

۲۰- فردی می‌خواهد از بین چهار خودرو جدول زیر، یکی را برای خرید انتخاب کند. ستون دوم به ارزش‌گذاری ذهنی

براساس معیارهای واقعی، ستون سوم به منافع داشتن آن خودرو که به صورت عددی درآمده و ستون چهارم به قیمت

آن خودرو در بازار اشاره دارد. به نظر شما کدام یک از خودروها ارزش خرید بالاتری دارد؟

خودرو	ارزش‌گذاری ذهنی	منافع خودرو (به میلیون تومان)	هزینه خودرو (به میلیون تومان)
A	عالی	۱۲۰	۲۱۰
B	خوب	۸۰	۵۵
C	مناسب	۶۰	۴۵
D	مناسب	۴۰	۳۰

D (۴)

C (۳)

B (۲)

A (۱)





۲۱- پاسخ صحیح سؤالات زیر در کدام گزینه آمده است؟

الف) چگونه می‌توان هزینه تولید را بدون کاهش میزان تولید، کم کرد؟

ب) کدام یک از فعالیت‌های زیر، کارآفرینی محسوب نمی‌شود؟

ج) کدام عبارت در رابطه با «نوآور بودن» از ویژگی‌های مشترک کارآفرینان موفق می‌باشد؟

۱) الف) پرهیز از استخدام نیروی کار غیرلازم ب) تدریس در مدرسه غیردولتی ج) ایده‌ها را به محصولات جدید، فرآورده‌ها و یا کسب و کارهای جدید تبدیل می‌کنند.

۲) الف) فراهم کردن بازار خوب برای محصولات ب) کار در مغازه لباس‌فروشی شخصی ج) فرصت‌های کسب و کار را زمانی که دیگران شاید متوجه نشوند، می‌بینند.

۳) الف) صرفه‌جویی در مواد اولیه و انرژی ب) برگزاری کلاس‌های آنلاین آموزش نقاشی ج) پس‌انداز و خوش‌نامی‌شان را با شجاعت و تدبیر، به میدان می‌آورند تا فعالیت اقتصادی جدیدی را راه‌اندازی کنند.

۴) الف) فروش کالاها با قیمت بیشتر ب) راه‌اندازی خدمات باغبانی در منزل ج) نظم، انضباط، پایداری، اشتیاق و توانایی حل مسئله را دارند.

۲۲- خانم محمدی کسب و کاری در حوزه فروش فرش دستبافت به راه انداخته است و پس از مدت کوتاهی به دلیل

تقاضای زیاد از عهده ی پاسخ‌گویی به مشتری‌ها برنمی‌آید و اقدام به استخدام چند فروشنده می‌کند، در این صورت

ایشان چه نوع کسب و کاری خواهد داشت؟

۱) شخصی ۲) شرکتی ۳) تعاونی ۴) غیرانتفاعی

۲۳- با توجه به اطلاعات زیر که مربوط به هزینه‌های یک کارگاه تولیدی فرضی است، نتیجه‌ی عملکرد این کارگاه تولیدی

در طی یک سال گذشته چگونه بوده است؟ (درآمد سالانه‌ی این کارگاه تولیدی معادل ۴ برابر هزینه‌ی حقوق سالانه‌ی

تمامی کارگران است.)

الف) اجاره‌ی کارگاه تولیدی ۵ میلیون ریال در ماه

ب) اجاره‌ی سالانه‌ی تجهیزات تولیدی ۲ برابر اجاره‌ی سالانه‌ی کارگاه

ج) هزینه‌ی خرید خانه‌ی مدیر کارخانه که نزدیک به محل کارگاه باشد، ۲۰۰ میلیون ریال

د) بازپرداخت وام تجهیزات کارگاه، ۳۰ میلیون ریال در ماه

ه) هزینه‌ی پرداخت حقوق تمامی کارگران ۲۵۰ میلیون ریال در سال

و) هزینه‌ی سالانه‌ی دوره‌ی آموزشی مهارت‌های ایمنی به کارگران، ۱۰ برابر اجاره‌ی ماهانه‌ی کارگاه

۱) ۵۲ میلیون تومان، سود ۲) ۱۶۰ میلیون ریال، زیان

۳) ۲۱۰ میلیون ریال، زیان ۴) ۱۶ میلیون تومان، سود





۲۴- کدام نوع کسب و کار برای هریک از موارد زیر مناسب تر است؟

- یک معلم رسمی آموزش و پرورش، می خواهد در ساعات اضافی خود تدریس خصوصی انجام دهد.
- یک مجموعه غیردولتی، برای گسترش خود، نیاز به سرمایه مردم دارد.
- گروهی از آموزگاران تصمیم گرفته اند به تعدادی از دانش آموزان مناطق محروم به صورت رایگان تدریس کنند.
- تعدادی از شرکت های تولیدکننده محصولات بهداشتی، صنعتی و آرایشی می خواهند در جهت تثبیت قیمت مواد اولیه و تأمین مواد مورد نیاز واحدهای تولیدی گردهم آیند.

- (۱) کسب و کار شخصی - مشاغل خویش فرمایی - مؤسسه خیریه - شرکت تعاونی
- (۲) شرکت تعاونی - شرکت سهامی - مؤسسه خیریه - شرکت سهامی
- (۳) شرکت سهامی - کسب و کار شخصی - مؤسسه غیرانتقادی - شرکت سهامی
- (۴) کسب و کار شخصی - شرکت سهامی - مؤسسه غیرانتقادی - شرکت تعاونی

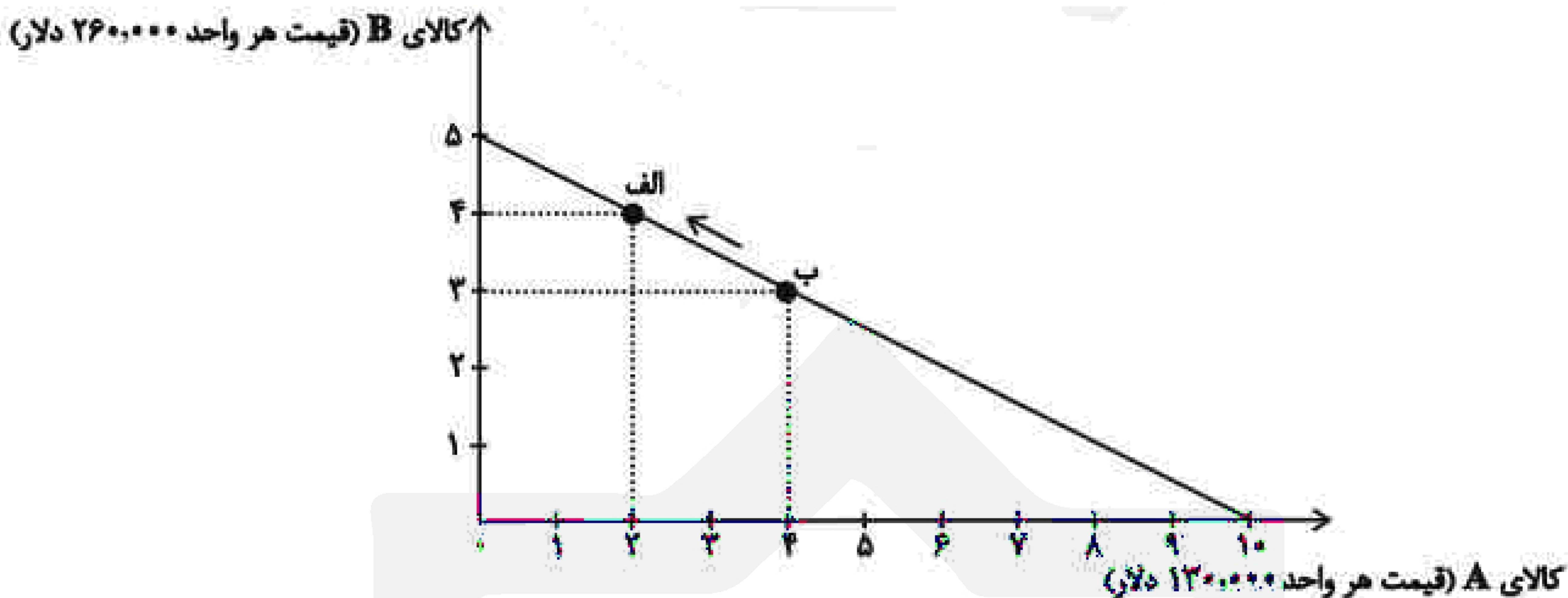
۲۵- به ترتیب، هریک از عبارات زیر، به مزایا یا معایب کدام نوع کسب و کار اشاره دارد؟

- امکان رقابت بالاتر
  - مالکیت کامل سود
  - منافع مالیاتی
  - مشکل تأمین مالی
  - تقسیم سود به تناسب مالکیت سهام
  - مسئولیت نامحدود در مقابل بدهی ها و دعاوی
  - مسئولیت محدود برای سهام داران
- (۱) مزایای ایجاد شرکت - مزایای کسب و کار شخصی - مزایای کسب و کار شخصی - معایب کسب و کار شخصی - معایب ایجاد شرکت
  - (۲) مزایای ایجاد شرکت - مزایای کسب و کار شخصی - مزایای کسب و کار شخصی - معایب ایجاد شرکت - مزایای ایجاد شرکت
  - (۳) مزایای کسب و کار شخصی - مزایای ایجاد شرکت - مزایای ایجاد شرکت - معایب ایجاد شرکت - مزایای ایجاد شرکت
  - (۴) مزایای کسب و کار شخصی - مزایای ایجاد شرکت - مزایای ایجاد شرکت - معایب کسب و کار شخصی - معایب ایجاد شرکت





۲۶- فردی، درآمد دریافتی خود را مطابق نسبت‌های نمودار زیر، برای خرید دو کالای A و B تقسیم کرده است. اگر قیمت هر واحد از کالای A، ۱۳۰,۰۰۰ دلار و قیمت هر واحد از کالای B، ۲۶۰,۰۰۰ دلار باشد:



الف) کل درآمد فرد چقدر است؟

ب) اگر کل بودجه‌ی فرد به خرید کالای B اختصاص یابد، چند واحد کالای B می‌تواند بخرد؟

پ) حرکت از نقطه‌ی «ب» به نقطه‌ی «الف» به چه معناست؟

۱) الف) (۱,۳۰۰,۰۰۰ دلار ب) ۱۵ واحد پ) هزینه‌ی فرصت ۱ واحد کالای B بیشتر برابر است با صرف‌نظر کردن از خرید ۲ واحد کالای A

۲) الف) (۲,۶۰۰,۰۰۰ دلار ب) ۵ واحد پ) صرف‌نظر کردن از خرید ۱ واحد کالای B برای به‌دست آوردن ۲ واحد کالای A بیشتر

۳) الف) (۱,۳۰۰,۰۰۰ دلار ب) ۵ واحد پ) صرف‌نظر کردن از خرید ۲ واحد کالای A برای به‌دست آوردن ۱ واحد کالای B بیشتر

۴) الف) (۲,۶۰۰,۰۰۰ دلار ب) ۱۵ واحد پ) هزینه‌ی فرصت ۱ واحد کالای A بیشتر برابر است با صرف‌نظر کردن از خرید ۲ واحد کالای B

۲۷- کدام سؤال و پاسخ آن، بیانگر مفهوم «سازمان تولید» است؟

۱) چگونه مردم در مورد خریدن یا نخریدن یک کالا تصمیم می‌گیرند؟ چگونه مقدار کالایی را که باید بخرند، تعیین می‌کنند؟

۲) مالک محصول یا کالای نهایی که به مشتری عرضه می‌شود، کیست؟ یک نفر یا چند نفر هستند و چگونه درآمد یا سود باید تقسیم شود؟

۳) چگونه تولیدکنندگان درباره‌ی تولید یا میزان تولید هر کالا تصمیم می‌گیرند؟

۴) مالک محصول نهایی با چه روشی به کسب سود می‌رسد؟





«بانک سوال یاوران دانش»

۲۸- کدام گزینه دربردارنده‌ی پاسخ صحیح سؤالات زیر است؟

الف) زمانی که روی برگه‌ی اسکناسی نوشته شده است ۵۰ هزار تومان، به این معناست که ...

ب) کدام گزینه در ارتباط با اوراق سهام و اوراق مشارکت درست است؟

۱) الف) شما می‌توانید با آن معادل ۵۰ هزار تومان کالا یا خدمات دریافت کنید. ب) وقتی کسی سهام می‌خرد دیگر نمی‌تواند هر وقت که خواست برگه‌های سهام خود را به دیگری بفروشد.

۲) الف) این ورقه‌ی اسکناس به خودی خود، ۵۰ هزار تومان می‌ارزد. ب) وقتی که اوراق سهام می‌خریم، پس از انقضای مدت سررسید آن، علاوه بر اصل پول (سرمایه) سود آن را هم می‌گیریم.

۳) الف) این ورقه‌ی اسکناس به خودی خود، ۵۰ هزار تومان می‌ارزد. ب) علاوه بر آنکه به اوراق مشارکت، برحسب فعالیت اقتصادی مرتبط سودی تعلق می‌گیرد، قابل خرید و فروش نیز هستند.

۴) الف) شما می‌توانید با آن معادل ۵۰ هزار تومان کالا یا خدمات دریافت کنید. ب) اگر سود شرکتی دائماً افزایش یابد متقاضی و خرید آن نوع سهام زیاد می‌شود و در نتیجه قیمت ثانویه دائماً افزایش می‌یابد.

۲۹- یک کارخانه تولید محصولات لبنیاتی، با ۵ نفر کارمند به شرح زیر فعالیت می‌کند. با توجه به درآمد و هزینه‌های آن، سود واقعی سالانه این کارخانه چقدر است؟

الف) هزینه آب، برق و گاز در هر ماه:  $\frac{1}{3}$  هزینه ماشین‌آلات در دو سال

ب) دستمزد ماهیانه هر کارگر: معادل ۱۰ درصد هزینه سالانه سرمایه فیزیکی

ج) هزینه سالانه ماشین‌آلات (سرمایه فیزیکی): ۱۰۰ میلیون تومان

د) هزینه سالانه خرید مواد اولیه معادل: ۱۵ درصد مجموع دستمزد کارگران در یک سال

ه) سالیانه ۷۰,۰۰۰ کیلو ماست به قیمت هر کیلو ۲۰,۰۰۰ تومان و ۴۰,۰۰۰ کیلو شیر به قیمت هر کیلو ۱۵,۰۰۰ تومان تولید و فروخته می‌شود.

و) هزینه پنهان کارفرما در صورت اجاره دادن ساختمان کارخانه، ماهانه ۶ میلیون تومان است.

۱) ۱,۳۲۸,۰۰۰,۰۰۰ تومان ۲) ۱,۴۱۸,۰۰۰,۰۰۰ تومان ۳) ۱,۰۱۸,۰۰۰,۰۰۰ تومان ۴) ۱,۴۹۰,۰۰۰,۰۰۰ تومان

۳۰- در رابطه با تعاونی‌ها کدام گزینه صحیح نیست؟

۱) تعاونی یکی از انواع شرکت است.

۲) مراحل راه‌اندازی تعاونی کم و بیش مشابه شرکت‌ها است.

۳) نحوه اداره و توزیع سود در تعاونی‌ها به نسبت سرمایه هر عضو است.

۴) هدف تعاونی، تأمین نیازمندی‌های اعضا و بهبود وضعیت اقتصادی آنان است.





۳۱- کدام گزینه دربردارنده پاسخ صحیح سؤال‌های زیر است؟

الف) همواره مقایسه هزینه‌ها و منافع بر چه اساس انجام می‌شود؟

ب) کدام مورد در ارتباط با اصول انتخاب درست، صحیح است؟

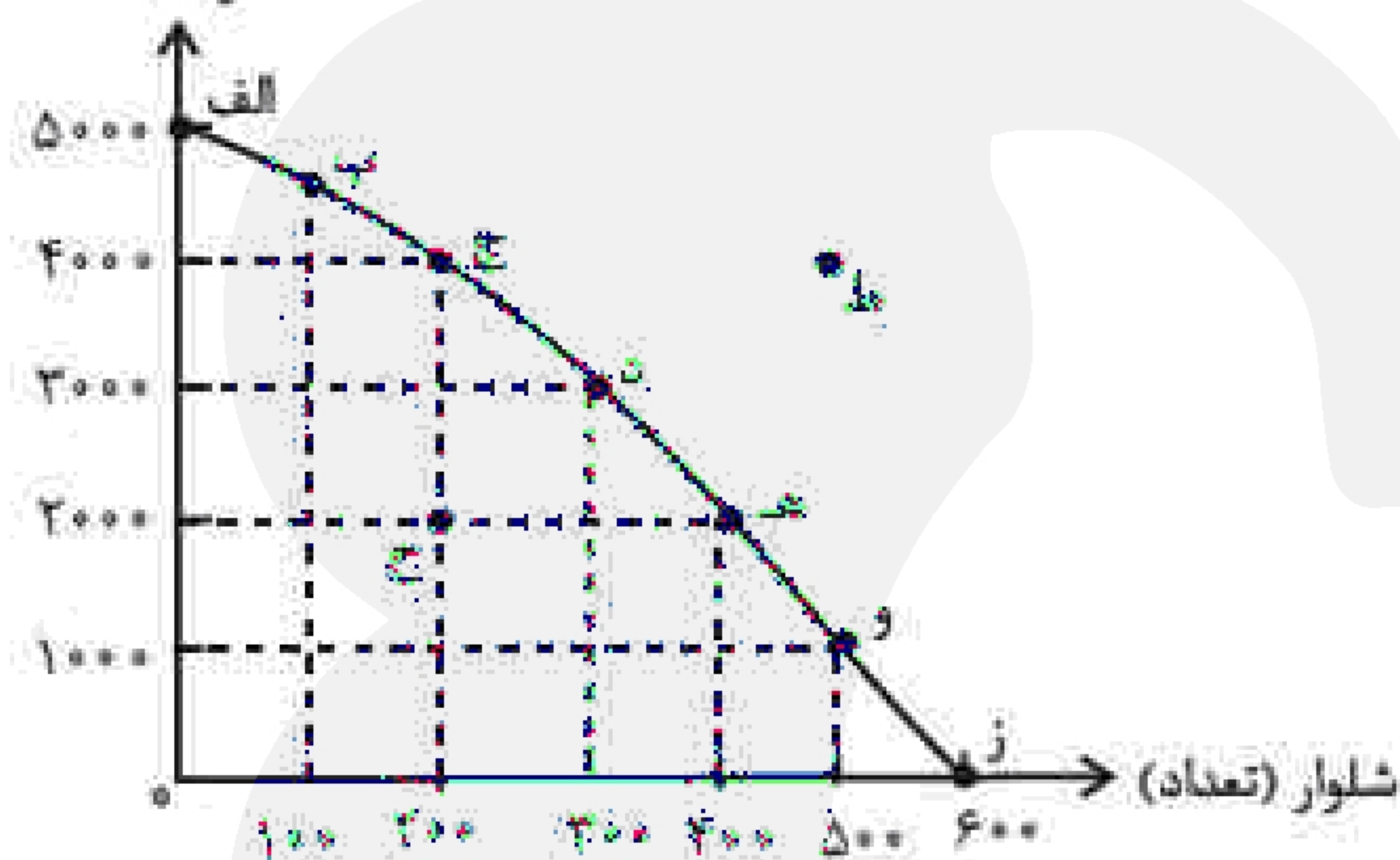
۱) الف) بر اساس اطلاعاتی که از آنها داریم ب) تنها هزینه‌ای که باید بر انتخاب و تصمیم ما مؤثر باشد، هزینه‌های هدررفته و هزینه‌هایی است که قبل از تصمیم‌گیری به وجود آمده‌اند.

۲) الف) براساس اطلاعاتی که از آنها داریم ب) به دلیل وجود کمیابی در منابع و امکانات، همیشه باید بین گزینه‌های انتخاب، «بده - بستان» کرد.

۳) الف) براساس نوع رویکردی که در تصمیم‌گیری اتخاذ می‌کنیم ب) کود شیمیایی و آبی که برای باغچه استفاده می‌کنیم به عنوان سرمایه فیزیکی که یکی از منابع کمیاب است شناخته می‌شوند.

۴) الف) براساس نوع رویکردی که در تصمیم‌گیری اتخاذ می‌کنیم ب) برای این که تصمیم‌گیری منطقی باشد باید تمام منافع را با تمام هزینه‌ها مقایسه کنید و در نهایت به این نتیجه برسید که در گزینه‌ای که شما انتخاب کرده‌اید، منافع بیشتر از هزینه‌هاست.

تیشرت (تعداد)



۳۲- کارگاه آقای ترکمن، دو محصول شلوار و تیشرت را

براساس نمودار مرز امکانات تولید زیر تولید می‌کند. اگر

یک فناوری جدید منابع موجود برای تولید هر دو

محصول را افزایش دهد، با چه تغییری در مرز امکانات

تولید مواجه می‌شویم؟

۱) جابه‌جا شدن در طول مرز امکانات تولید

۲) انتقال مرز امکانات تولید

۳) رسیدن به نقطه کارایی

۴) بدون تغییر می‌ماند.

۳۳- کدام ویژگی مشترک کارآفرینان موفق به ترتیب در افراد زیر، برجسته‌تر است؟

- آقای شریفی هنگام به وجود آمدن مسئله در کسب‌وکارش، توانایی حل آن را دارد.

- آقای رفیعی منابع فیزیکی کارخانه‌اش را به شکلی مدیریت می‌کند که عملکرد کارایی داشته باشند.

- خانم حمیدی در عین سنجیدن شرایط، مطمئن است در کارگاه خیاطی خود موفق می‌شود.

- خانم احسانی برای راه‌انداز کسب‌وکار جدیدش بسیار پایداری کرده است.

- آقای سلطانی پس‌انداز حاصل از مبلغ بازنشستگی خود را برای راه‌اندازی فعالیت اقتصادی جدیدش هزینه می‌کند.

- خانم حسینی در دوران کرونا، به دلیل غیرحضوری شدن کارها، خود را با شرایط تطبیق داده و صفحه آنلاین راه‌اندازی کرد.

۱) پرانگیزه - سازمان‌دهنده - خوش‌بین - پرانگیزه - ریسک‌پذیر - یادگیرنده

۲) پرانگیزه - سازمان‌دهنده - خوش‌بین - یادگیرنده - نوآور - تیزبین

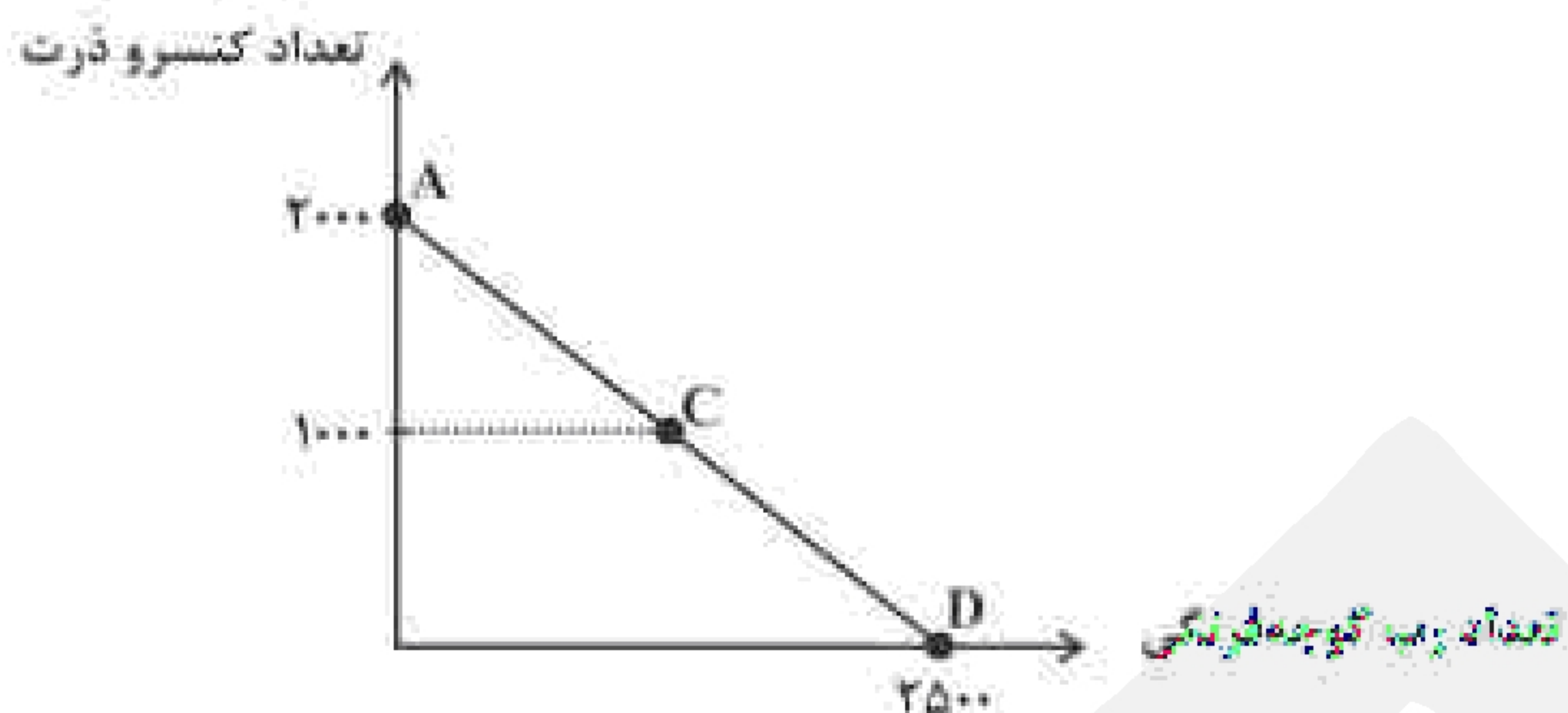
۳) سازمان‌دهنده - پرانگیزه - ریسک‌پذیر - یادگیرنده - نوآور - تیزبین

۴) سازمان‌دهنده - پرانگیزه - ریسک‌پذیر - پرانگیزه - ریسک‌پذیر - یادگیرنده





۳۴- فردی می‌خواهد بودجه‌ی خود را به خرید کنسرو ذرت و رب گوجه‌فرنگی اختصاص دهد.  
الف) اگر قیمت هر قوطی کنسرو ذرت ۲۰۰۰ تومان باشد با توجه به منحنی بودجه، قیمت هر قوطی رب گوجه‌فرنگی چقدر است؟



ب) اگر این فرد بخواهد از نقطه‌ی D به نقطه‌ی C حرکت کند، هزینه‌ی فرصت این تصمیم‌گیری چه مقدار خواهد بود؟  
۱) الف) ۴۰۰۰ تومان ب) ۱۰۰۰ واحد  
۲) الف) ۱۶۰۰ تومان ب) ۱۲۵۰ واحد  
۳) الف) ۴۰۰۰ تومان ب) ۱۲۵۰ واحد  
۴) الف) ۱۶۰۰ تومان ب) ۱۰۰۰ واحد

۳۵- کدام گزینه تکمیل‌کننده‌ی جاهای خالی عبارات زیر است؟  
الف) امروزه اغلب کسب و کارها در ایران به شکل ..... هستند.  
ب) مسئولیت نامحدود در برابر دعاوی و بدهی‌ها از معایب کسب و کار ..... است.  
ج) «تأخیر در تصمیم‌گیری» از معایب ..... است.  
د) مؤسسه‌ی غیرانتفاعی نهادی ..... است که برای انجام مأموریتی ..... در زمینه‌ی ..... شکل گرفته است.  
۱) الف) شرکتی ب) شرکتی ج) ایجاد شرکت سهامی د) قانونی - غیرسودآور - انسانی  
۲) الف) شرکتی ب) شخصی ج) تشکیل تعاونی د) غیردولتی - سودآور - تجاری  
۳) الف) شخصی ب) شرکتی ج) تشکیل تعاونی د) غیردولتی - سودآور - تجاری  
۴) الف) شخصی ب) شخصی ج) ایجاد شرکت سهامی د) قانونی - غیرسودآور - اجتماعی

۳۶- با توجه به اطلاعات ارائه شده در جدول زیر نتیجه‌ی عملکرد سالیانه یک بنگاه اقتصادی با ۱۴ کارگر و تولید سالیانه ۳۶۰ دستگاه هر کدام از قیمت ۵ میلیون تومان کدام است؟ (تولیدکننده خودش صاحب کارگاه و ماشین‌آلات است و سود حسابداری مدنظر نیست.)

۴ میلیون تومان	حقوق متوسط ماهانه هر کارگر
۹ میلیون تومان	اجاره ماهانه کارگاه
۲۰ میلیون تومان	اجاره ماشین‌آلات
۳۵ درصد اجاره سالانه کارگاه	هزینه استهلاک ماهانه
۵/۳ حقوق سالیانه کارگران	هزینه خرید مواد اولیه موردنیاز سالیانه

۱) ۲۹,۸۰۰,۰۰۰ تومان سود کرده است.  
۲) ۲۹,۸۰۰,۰۰۰ تومان زیان کرده است.  
۳) ۱۳۷,۸۰۰,۰۰۰ تومان سود کرده است.  
۴) ۱۳۷,۸۰۰,۰۰۰ تومان زیان کرده است.





۳۷- هزینه‌ی فرصت انتخاب یک فرد، درآمد حاصل از تدریس خصوصی به صورت ۵ ساعت در هفته و ساعتی ۵۰,۰۰۰ تومان بوده است که وی از آن صرف نظر کرده است. براساس صرفه‌ی اقتصادی به نظر شما انتخاب این فرد کدام یک از موارد زیر می‌تواند بوده باشد؟

- (۱) ویراستاری آزمون به صورت دو آزمون در ماه و هر آزمون ۶۰۰ هزار تومان
- (۲) تألیف یک کتاب با سود سالانه‌ی ۱۰ میلیون تومان
- (۳) مشاوره‌ی خصوصی با ۸ ساعت کار در هفته و درآمد هفتگی ۲۰۰ هزار تومان
- (۴) تولید فیلم آموزشی به صورت ۳ فیلم در ماه و هر فیلم با قیمت ۳۰۰ هزار تومان

۳۸- کدام گزینه دربردارنده‌ی پاسخ صحیح پرسش‌های زیر است؟

- کدام مورد از مزایای کسب و کار شخصی نیست؟
- چرا منافع مالیاتی، از مزایای کسب و کار شخصی است؟
- (۱) راه اندازی آسان و هزینه‌های نسبتاً اندک - چون فقط یک بار مالیات بر درآمد می‌دهند.
- (۲) آزادی عمل و سهولت در تصمیم‌گیری - چون مشمول بخشیدگی مالیاتی می‌شوند.
- (۳) بار سنگین مسئولیت - زیرا کسب و کارهای شخصی معاف از مالیات‌اند.
- (۴) مسئولیت نامحدود در مقابل بدهی‌ها و دعاوی - چون فقط یک بار مالیات بر درآمد می‌دهند.

«بانک سوال یاوران دانش»

۳۹- فردی برای شروع کسب و کار یا سرمایه‌گذاری انتخاب‌های زیر را در اختیار دارد. با توجه به اصل هزینه‌ی فرصت، به ترتیب انتخاب وی و هزینه‌ی فرصت آن کدام است؟ (مبلغ مورد نظر برای سرمایه‌گذاری ۵۰۰ میلیون تومان برای مدت یک سال است.)

- الف) سپرده‌گذاری در بانک ب سود سالیانه‌ی ۳۰ درصد
- ب) راه اندازی فروشگاه اینترنتی با سود ماهیانه‌ی ۱۱ میلیون تومان
- ج) راه اندازی یک کارگاه با سود سالیانه‌ی ۱۴۰ میلیون تومان
- د) تأسیس یک مجموعه با سود هر سه سال ۵۰۰ میلیون تومان
- (۱) تأسیس یک مجموعه با سود سالیانه‌ی ۱۶۶ میلیون تومان - راه اندازی یک کارگاه با سود سالیانه‌ی ۱۴۰ میلیون تومان
- (۲) راه اندازی یک کارگاه با سود ماهیانه‌ی ۱۱/۵ میلیون تومان - تأسیس یک مجموعه با سود هر سه سال ۵۰۰ میلیون تومان
- (۳) راه اندازی یک کارگاه با سود سالیانه‌ی ۱۴۰ میلیون تومان - فروشگاه اینترنتی با سود سالیانه‌ی ۱۳۲ میلیون تومان
- (۴) تأسیس یک مجموعه با سود هر سه سال ۵۰۰ میلیون تومان - سپرده‌گذاری در بانک با سود سالیانه‌ی ۳۰ درصد





۴۰- موارد کدام گزینه، تکمیل‌کننده جملات خالی عبارت زیر است؟

الف) بسیاری از کسب‌وکارهای نوپا عمر ..... دارند؛ به طوری که ..... از آنها می‌توانند از شش سالگی عبور و به کار خود ادامه دهند.

ب) یک کارآفرین موفق ضرورتاً از ابتدا ..... است و حرکت با .....، او را قدم به قدم از سطوح ابتدایی کار به درجه‌های بالای آن می‌رساند.

ج) کارآفرین کسی است که با ..... و .....، محصولات جدیدی تولید و عرضه می‌کند یا راه‌های جدیدی برای تولید کشف می‌کند.

د) عبارت «منابع را به شکل کارایی مدیریت و هماهنگ می‌کنند» به ویژگی ..... از جمله ویژگی‌های مشترک کارآفرینان موفق اشاره دارد.

۱) الف) کوتاهی - ۵۰ درصد ب) حتی کارآفرین نبوده - چشم باز و بر مبنای شناخت ظرفیت‌های خود و اتفاقات اطراف ج) ابتکار عمل - توانایی مالی زیاد د) یادگیرنده

۲) طولانی - ۷۰ درصد ب) کارآفرین بوده - نظم و انضباط و اجتناب از هرگونه ریسک و خطر ج) ابتکار عمل - توانایی مالی زیاد د) یادگیرنده

۳) الف) کوتاهی - ۵۰ درصد ب) حتی کارآفرین نبوده - چشم باز و بر مبنای شناخت ظرفیت‌های خود و اتفاقات اطراف ج) نوآوری - خطرپذیری د) سازمان‌دهنده

۴) طولانی - ۷۰ درصد ب) کارآفرین بوده - نظم و انضباط و اجتناب از هرگونه ریسک و خطر ج) نوآوری - خطرپذیری د) سازمان‌دهنده