

گنجینه سوال رایگان

+ پاسخ تشریحی

یاوران دانش



راه های ارتباطی با ما:

www.Dyavari.com

۰۲۱-۷۶۷۰۳۸۵۸

۰۹۱۲-۳۴ ۹۴ ۱۳۴



- ۱- در خصوص تاریخچه گسترش حمل و نقل، گزینه درست را مشخص کنید.
- (۱) در قرن نوزدهم و پس از انقلاب صنعتی با اختراع و تولید انبوه خودروها، چهره شهرها تغییر کرد.
- (۲) نخستین هواپیماهای جت و لوکوموتیوهای موتور بخار، به ترتیب در آلمان و انگلستان ساخته شدند.
- (۳) استفاده از لوکوموتیوهای مجهز به موتور بخار تا پیش از انقلاب صنعتی با محدودیت‌های زیادی همراه بود.
- (۴) در عصر اکتشافات جغرافیایی، اختراع موتور بخار تحول بزرگی در حمل و نقل آبی به وجود آورد.

۲- کدام گزینه، عبارت زیر را به درستی کامل می‌کند؟

«جغرافیای شاخه‌ای از جغرافیای است؛ زیرا»

- (۱) حمل و نقل - اقتصادی - حمل و نقل در فعالیتهای اقتصادی و مکان‌گزینی واحدهای تولیدی نقش مهمی دارد.
- (۲) حمل و نقل - اقتصادی - مکان‌گزینی واحدهای تولیدی، خدماتی و تجاری، شیوه حمل و نقل را مشخص می‌کند.
- (۳) اقتصادی - حمل و نقل - حمل و نقل در فعالیتهای اقتصادی و مکان‌گزینی واحدهای تولیدی نقش مهمی دارد.
- (۴) اقتصادی - حمل و نقل - مکان‌گزینی واحدهای تولیدی، خدماتی و تجاری، شیوه حمل و نقل را مشخص می‌کند.

۳- در زمینه توسعه حمل و نقل ریلی کدام عبارت درست است؟

- (۱) فرانسه که طرح‌هایی برای تولید قطارهای پرسرعت ارائه کرده بود، دارای گسترده‌ترین شبکه خط‌آهن در اروپا است.
- (۲) فرانسه که طرح‌هایی برای تولید قطارهای پرسرعت ارائه کرده بود، دارای بیشترین میزان خطوط ریلی در اروپا است.
- (۳) چین که امروزه از تولیدکنندگان عمده قطارهای تندرو است، دارای طولانی‌ترین شبکه ریلی در جهان نیز هست.
- (۴) چین از تولیدکنندگان عمده قطارهای تندرو به شمار می‌رود و دارای طولانی‌ترین خط قطار تندروی جهان است.

۴- حمل و نقل مایعات و گازها از طریق خطوط لوله بسیار مقرون به صرفه است؛ زیرا

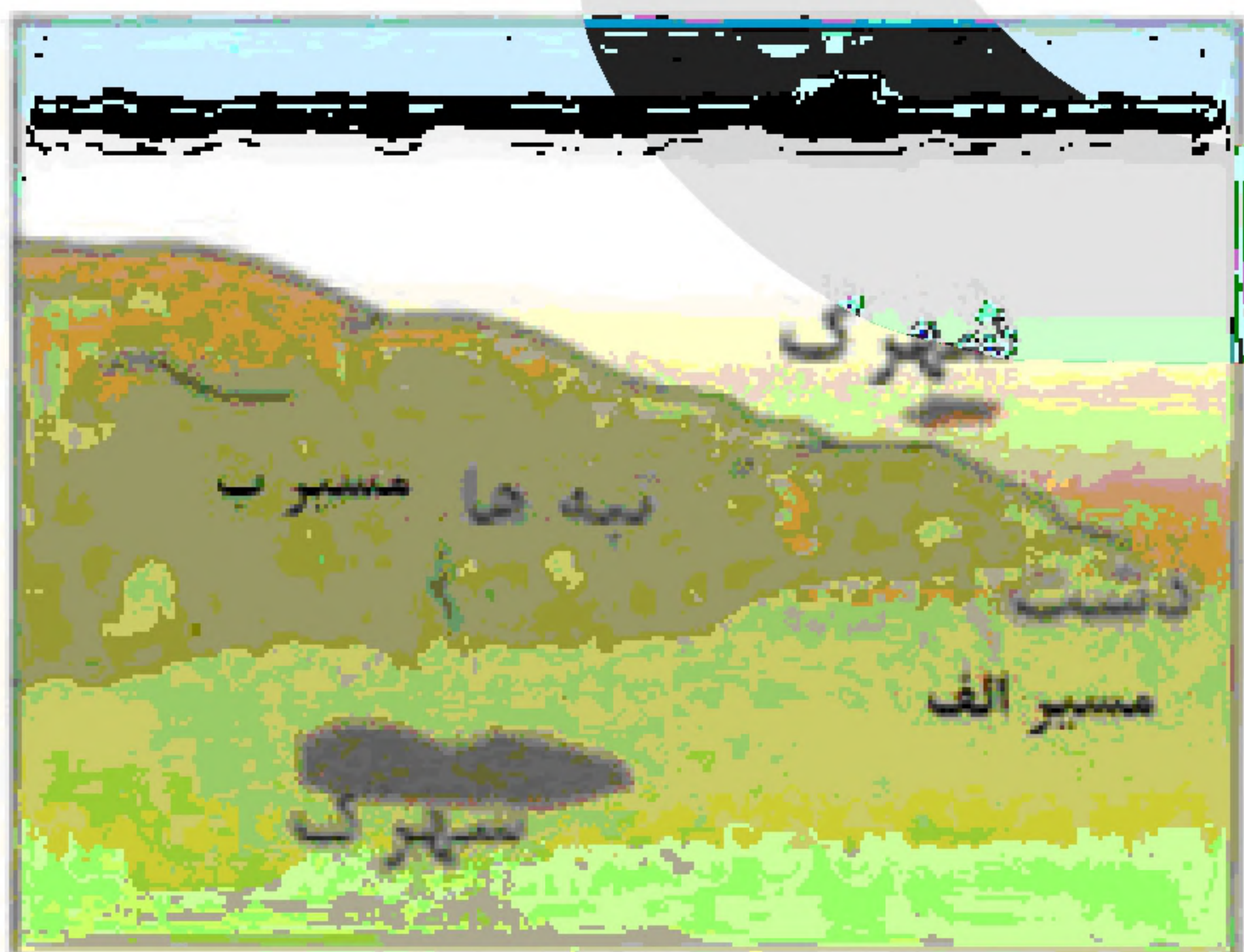
- (۱) انتقال مواد از طریق حمل و نقل لوله در مقایسه با سایر شیوه‌ها، آسیب کمتری به محیط‌زیست می‌رساند.
- (۲) حجم عظیمی از مایعات و گازها به صورت شبانه‌روزی از یک ناحیه به سایر نواحی انجام می‌شود.
- (۳) کمترین آسیب‌پذیری را در برابر حوادث غیرمترقبه مانند جنگ، زلزله، انفجار و آتش‌سوزی دارد.
- (۴) احداث و تعمیر لوله‌ها و احداث ایستگاه‌های واسطه‌ای به سرمایه‌گذاری کمتری نیاز دارد.

۵- مطابق با تصویر و متن زیر، کدام گزینه نادرست است؟

«اگر تصمیم بگیریم بین دو شهرک یک جاده احداث کنیم. با این توضیح که مسیر الف نیازی به احداث تونل ندارد اما طولانی‌تر است و مسیر ب نیاز به احداث تونل دارد و کوتاه‌تر است.»

- (۱) مسیر پیشنهادی ب، به سرمایه‌فراوانی نیاز دارد اما بازدهی آن در آینده، هزینه‌ها را جبران می‌کند.
- (۲) مسیر پیشنهادی الف، به سرمایه‌فراوانی نیاز دارد اما بازدهی آن در آینده، هزینه‌ها را جبران می‌کند.

- (۳) مسیر پیشنهادی الف، به سرمایه‌کمتری نیاز دارد اما مصرف انرژی و سوخت را در آینده افزایش می‌دهد.
- (۴) مسیر پیشنهادی ب، به سرمایه‌فراوانی نیاز دارد اما مصرف انرژی و سوخت را در آینده کاهش می‌دهد.





۶- کدام گزینه در خصوص پراکندگی شبکه‌های ریلی در جهان درست است؟

- (۱) قاره آمریکا گسترده‌ترین شبکه ریلی را در بین همه قاره‌های جهان دارد.
- (۲) در همه کشورهای قاره اروپا، سفر از طریق خط آهن و قطار امکان‌پذیر است.
- (۳) طولانی‌ترین خط قطار تندروی جهان، متعلق به یک کشور نیمه پیرامونی است.
- (۴) ایالات متحده آمریکا بیشتر شبکه ریلی خود را به حمل مسافر اختصاص داده است.

۷- با توجه به متن زیر کدام گزینه، درست است؟

«برنامه‌ریزان یک ناحیه کوهستانی، قصد دارند بین دو شهرک یک خط راه‌آهن احداث کنند. در این میان دو راه پیشنهادی وجود دارد: الف: ساخت طولانی‌ترین مسیر بدون حفر تونل و ب: ساخت کوتاه‌ترین مسیر از طریق حفر تونل.»

- (۱) مسیر پیشنهادی ب از نظر هزینه مصرف سوخت و انرژی، گران‌تر از مسیر پیشنهادی الف است.
- (۲) مسیر پیشنهادی ب از نظر سرعت رسیدن کالا یا مسافر، سریع‌تر از مسیر پیشنهادی الف است.
- (۳) مسیر پیشنهادی الف از نظر هزینه احداث ایستگاه راه‌آهن، ارزان‌تر از مسیر پیشنهادی ب است.
- (۴) مسیر پیشنهادی الف از نظر هزینه احداث خطوط راه‌آهن، دشوارتر از مسیر پیشنهادی ب است.

۸- در حمل‌ونقل عمومی شهری، اتوبوس‌های برقی

- (۱) برخلاف سامانه‌های اتوبوس تندرو، هزینه‌بر و نیازمند گسترش شبکه برق‌رسانی است.
- (۲) همانند سامانه‌های اتوبوس تندرو، سرعت زیادی ندارد و در مسیرهای ویژه‌ای باید حرکت کند.
- (۳) همانند سامانه‌های حمل‌ونقل درون شهری ریلی، سابقه‌ای طولانی دارد و افراد کم‌تری را جابه‌جا می‌کند.
- (۴) برخلاف سامانه‌های حمل‌ونقل درون شهری ریلی، مشکلات آلاینده‌گی هوا و محیط زیست شهری کم‌تری دارد.

۹- با توجه به مشکلات حمل‌ونقل شهری، کدام گزینه نادرست است؟

- (۱) به کمک هوشمندسازی شهری می‌توان مشکلات مربوط به کمبود پارکینگ و اتلاف وقت برای پارک کردن خودروها را کاهش داد.
- (۲) به کمک مبلمان شهری می‌توان مشکلات هزینه‌ای احداث بزرگ‌راه‌ها و خرید و تعمیر ناوگان حمل‌ونقل عمومی شهری را کاهش داد.
- (۳) برخی از سامانه‌های حمل‌ونقل عمومی با وجود مشکلات آلاینده‌گی هوا، قادر است تعداد زیادی از مسافران شهری را جابه‌جا کند.
- (۴) برای حل و فصل مشکلات حمل‌ونقل شهری، گسترش حمل‌ونقل عمومی مهم‌ترین راهکار بهبود حمل‌ونقل شهری است.

۱۰- مطالعات نشان می‌دهد که حمل‌ونقل چندوجهی،

- (۱) هزینه‌های حمل‌ونقل کالاها را به طور مؤثری کاهش می‌دهد.
- (۲) هزینه‌های حمل‌ونقل کالاها را به طور مؤثری افزایش می‌دهد.
- (۳) سرعت حمل‌ونقل کالاها را به طور مؤثری افزایش می‌دهد.
- (۴) سرعت حمل‌ونقل کالاها را به طور مؤثری کاهش می‌دهد.



۱۱- از نظر تأثیرات حمل و نقل بر محیط زیست، کدام یک از مسائل زیر در همه‌ی شیوه‌های حمل و نقل دریایی، هوایی، ریلی و جاده‌ای مشاهده نمی‌شود؟

- (۱) تخریب پوشش گیاهی در فرآیند احداث بنادر، ایستگاه‌ها، فرودگاه‌ها و پایانه‌ها
- (۲) آلودگی هوا در اثر تولید کربن مونوکسید توسط مصرف سوخت فسیلی
- (۳) آلودگی صوتی ناشی از سروصدای وسایل مختلف حمل و نقل
- (۴) آلودگی و فرسایش آب و خاک در احداث راه‌های مختلف

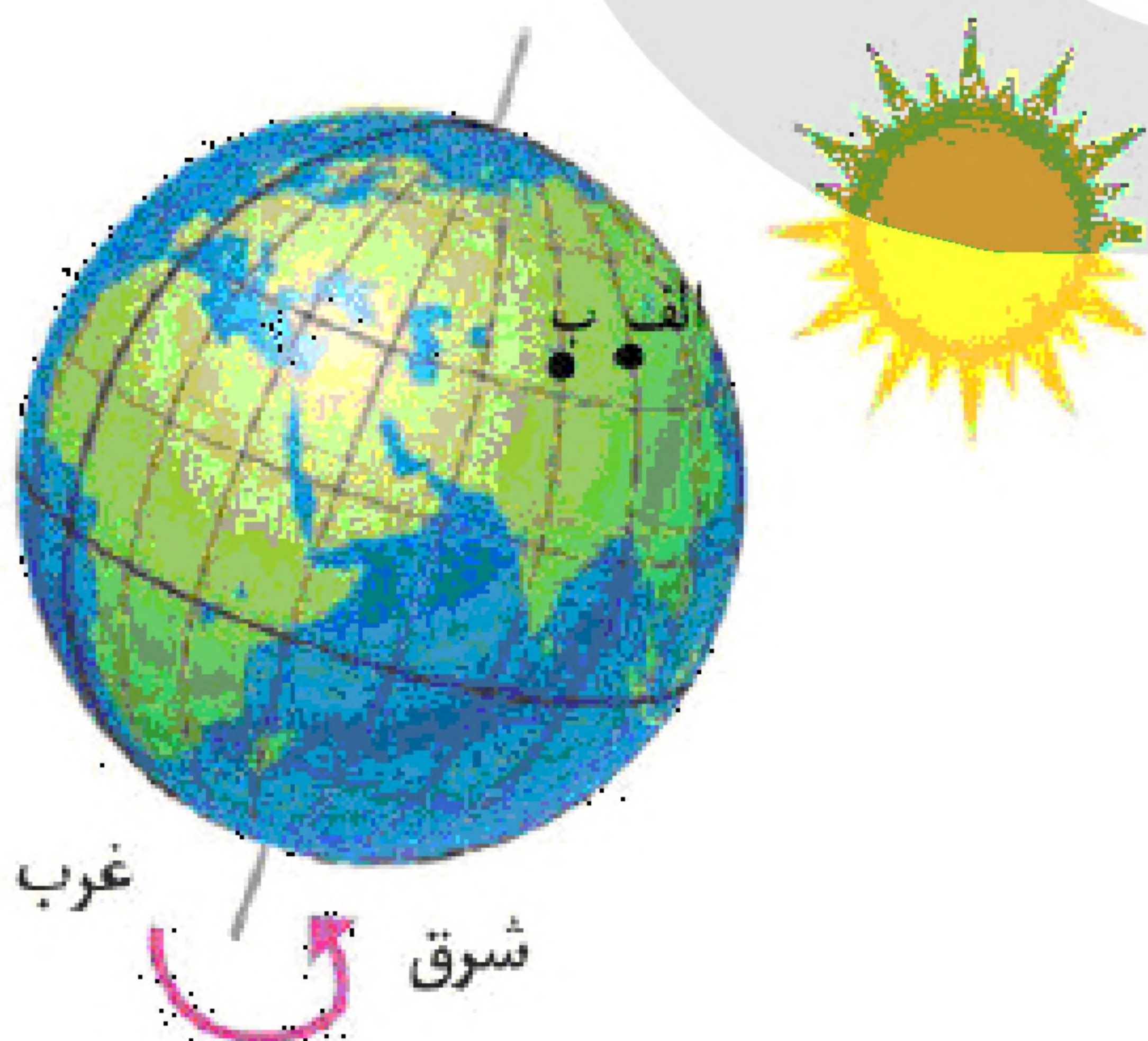
۱۲- با توجه به ارتباط «سرعت و زمان» و «نوع و حجم محموله» در کدام گزینه به موضوع درستی اشاره دارد؟

- (۱) هر چه حجم کالاهایی مانند مواد غذایی و غلات بیشتر شود، سرعت حمل آن کم‌تر خواهد شد.
- (۲) هر چه حجم کالاهایی مانند مواد غذایی و غلات کم‌تر شود، سرعت و هزینه حمل آن بیشتر خواهد شد.
- (۳) محموله‌هایی مانند مواد غذایی با وجود حجم کم‌تر، صرف زمانی طولانی برای حمل آن، مشکلی ایجاد نمی‌کند.
- (۴) محموله‌هایی مانند مواد غذایی با وجود هزینه‌ی بیشتر حمل و نقل، لازم است به سرعت حمل شده و به مقصد برسند.

۱۳- کدام گزینه با توجه به عبارت زیر، نادرست است؟

- «ساعت هریک از کشورها براساس زمان‌بندی گرینویچ معین شده است. از این‌رو ساعت رسمی ایران نسبت به زمان‌بندی گرینویچ با توجه به تفاضل نصف‌النهاری $3^{\circ}30' +$ است.»
- (۱) در کشور ما از ساعت رسمی برای هماهنگی برنامه حرکت وسایل حمل و نقل و فعالیت‌های اقتصادی استفاده می‌کنند.
 - (۲) در این ساعت توافق شده است که همه نصف‌النهارهایی که داخل یک قاچ قرار دارند ساعت یکسانی داشته باشند.
 - (۳) اوقات شرعی شهرهای مختلف ایران بر مبنای ساعت رسمی تعیین می‌شود و بنابراین زمان هر اذان متفاوت است.
 - (۴) قاچ‌هایی که در شرق نصف‌النهار مبدأ قرار گرفته‌اند به ترتیب $1^{\circ}+$ ، $2^{\circ}+$ و ... از ساعت رسمی گرینویچ جلوتر هستند.

«بانک سوال موسسه یاوران دانش»

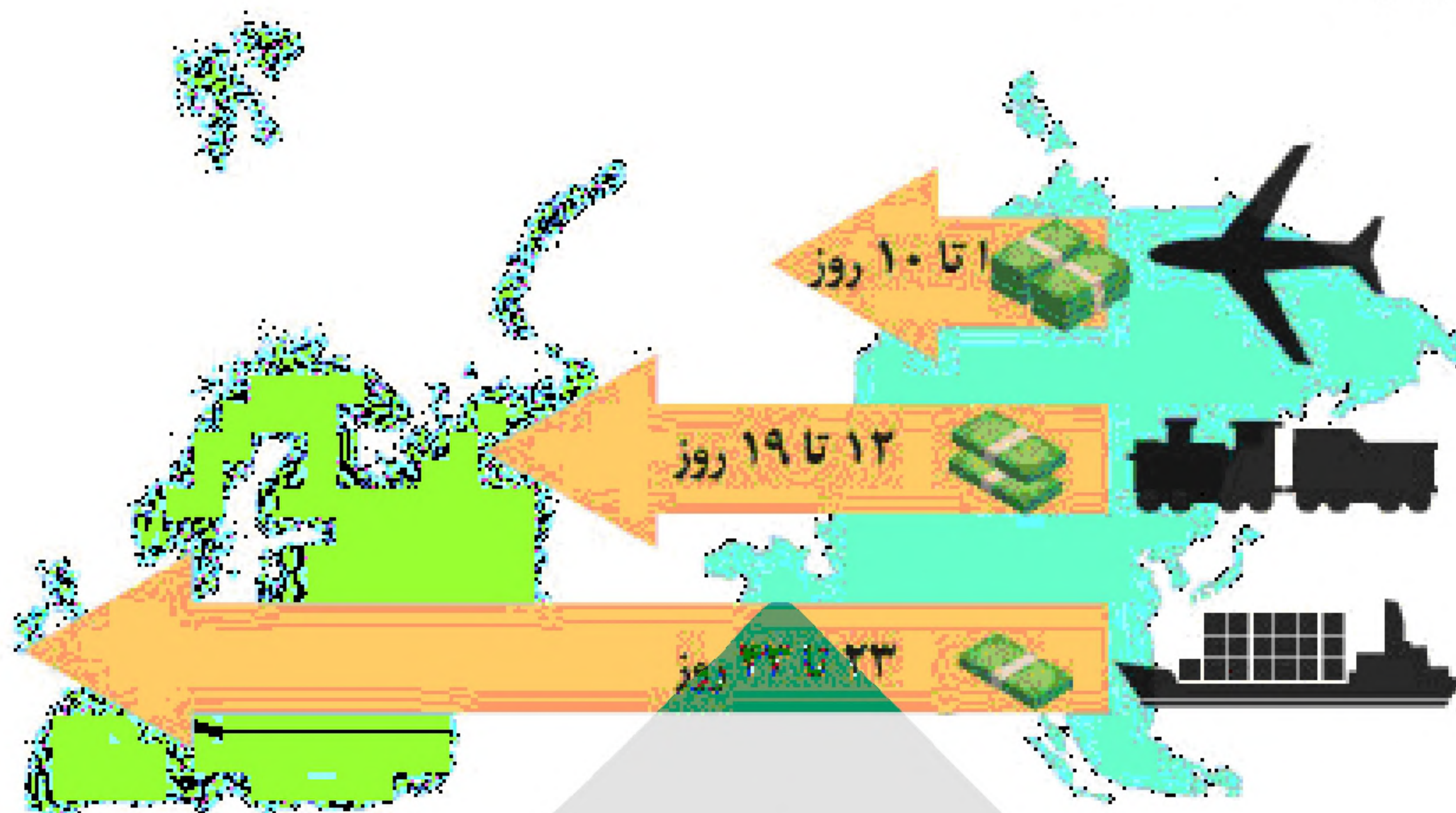


۱۴- در شکل مقابل، ابتدا نقطه الف و سپس نقطه ب در مقابل خورشید قرار می‌گیرد. بنابراین ساکنان نقطه‌ی

- (۱) ب براساس زمان واقعی، غروب خورشید را دیرتر از ساکنان نقطه الف مشاهده خواهد کرد.
- (۲) ب براساس زمان رسمی، غروب خورشید را زودتر از ساکنان نقطه الف مشاهده خواهد کرد.
- (۳) الف براساس زمان رسمی، طلوع خورشید را دیرتر از ساکنان نقطه ب مشاهده خواهد کرد.
- (۴) الف براساس زمان واقعی، طلوع خورشید را زودتر از ساکنان نقطه ب مشاهده خواهند کرد.



۱۵- با توجه به تصویر زیر، می‌توان گفت



- (۱) هر چه قیمت انرژی مصرف شده در یک شیوهی حمل و نقل کم‌تر باشد، هزینه حمل آن بیش‌تر می‌شود.
- (۲) کالاهای مختلف مانند گل، دارو یا زغال‌سنگ با افزایش حجم خود، هزینه حمل خود را افزایش می‌دهند.
- (۳) حمل و نقل دریایی به دلیل بالا بودن هزینه سوخت خود، کالاهای محدودتری را می‌تواند حمل کند.
- (۴) در یک شیوهی حمل و نقل، قیمت انرژی مصرف شده با سرعت حمل کالاهای، ارتباط مستقیم دارد.

۱۶- کدام گزینه، اهمیت استفاده از حمل و نقل ریلی درون‌شهری مانند مترو را در شهرهای پرجمعیت نشان می‌دهد؟

- (۱) در جلوگیری از تخریب پوشش گیاهی و کاهش تنوع زیستی در زمینه راه‌سازی، تأثیرگذار است.
- (۲) بازدهی آن در جابه‌جایی مسافران بیش‌تر، هزینه‌های سرمایه‌گذاری آن را جبران می‌کند.
- (۳) در افزایش انتشار گازهای گلخانه‌ای، آلاینده‌ها و تغییرات آب و هوایی تأثیر دارد.
- (۴) در افزایش ترافیک درون‌شهری و کمبود پارکینگ‌ها، نقش مؤثری دارد.

۱۷- کدام گزینه، مقایسه درستی از حمل و نقل هوایی با حمل و نقل دریایی و ریلی دارد؟

- (الف) از نظر مصرف سوخت، بیش‌ترین هزینه را نسبت به حمل و نقل دریایی و ریلی دارد.
 - (ب) مشکلات حمل و نقل دریایی و ریلی را در احداث راه و مسیر در میان انواع ناهمواری‌ها، ندارد.
 - (ج) از نظر حجم کالا، کالاهای متنوع‌ترین در حجم بالا نسبت به حمل و نقل ریلی و دریایی حمل می‌کند.
 - (د) از نظر سرعت جابه‌جایی و امنیت، نسبت به شیوه‌های حمل و نقل ریلی و دریایی شرایط مناسب‌تری دارد.
- (۱) الف و ج (۲) الف و د (۳) ب و ج (۴) ب و د

۱۸- کشتی‌ها به دو دسته‌ی باربری و مسافربری تقسیم می‌شوند کدام گزینه با مشخصات این کشتی‌ها مطابقت دارد؟

- (۱) کشتی‌های کروز اقیانوس‌پیما هستند و مسافران را در فواصل دور از مکانی به مکان دیگر می‌برند.
- (۲) کشتی‌های کانتینری برخلاف کشتی‌های رو-رو و فله‌بر، سرعت جابه‌جایی و تخلیه کالای بالایی دارند.
- (۳) تولید کشتی‌های کانتینری و رو-رو از دهه‌ی ۱۹۷۰ به بعد، سرعت و ظرفیت جابه‌جایی کالاها را شدت بخشید.
- (۴) کشتی‌های فله‌بر و کانتینری نوعی کشتی باربری هستند که کالاها را به صورت فله در مخازن خود جابه‌جا می‌کنند.



- ۱۹- با توجه به پراکندگی شبکه‌های ریلی در جهان، کدام مورد درست است؟
- (۱) آمریکای شمالی و ایالات متحده آمریکا، گسترده‌ترین شبکه‌ی خط آهن را در بین همه قاره‌های جهان دارد.
 - (۲) امروزه همه‌ی کشورهای جهان به شبکه‌های ریلی دسترسی دارند، اما میزان دسترسی به آن‌ها میان کشورها متفاوت است.
 - (۳) هند و ایالات متحده آمریکا بیش‌ترین خطوط ریلی جهان را دارند که بیش‌تر آن برای حمل مسافر استفاده می‌شود.
 - (۴) به دلیل داشتن گسترده‌ترین خط آهن در اروپا، حمل‌ونقل ریلی در بیش‌تر کشورهای این قاره امکان‌پذیر است.
- ۲۰- در کدام گزینه، مزیت‌های حمل‌ونقل ریلی نسبت به حمل‌ونقل جاده‌ای به‌درستی مطرح شده است؟
- (۱) آسایش و امنیت بیشتر مسافران - هزینه‌ی به‌صرفه‌تر حمل بار - مشکلات زیست‌محیطی کمتر
 - (۲) حمل‌ونقل به‌صرفه‌تر بار و مسافر - دسترسی به نقاط دورافتاده - مشکلات آلاینده‌ی کمتر
 - (۳) آسایش و امنیت بیشتر مسافران - هزینه‌ی به‌صرفه‌تر تجهیزات ریلی - مشکلات زیست‌محیطی کمتر
 - (۴) حمل‌ونقل به‌صرفه‌تر کالا و مسافر - هزینه به‌صرفه‌تر تجهیزات ریلی - مشکلات آلاینده‌ی کمتر
- ۲۱- حمل‌ونقل آبی حمل‌ونقل هوایی و حمل‌ونقل جاده‌ای، برای حمل‌ونقل در مناسب‌تر است.
- (۱) همانند - همانند - مسافت دور
 - (۲) همانند - برخلاف - مسافت دور
 - (۳) برخلاف - برخلاف - مسافت نزدیک
 - (۴) برخلاف - همانند - مسافت نزدیک
- ۲۲- کدام گزینه با توجه به ارتباط جغرافیای حمل‌ونقل و جغرافیای اقتصادی، درست است؟
- (۱) به دلیل اینکه حمل‌ونقل در فعالیت‌های اقتصادی و مکان‌گزینی واحدهای تولیدی نقش مهمی دارد، جغرافیای حمل‌ونقل شاخه‌ای از جغرافیای اقتصادی محسوب می‌شود.
 - (۲) به دلیل اینکه راه‌ها رگ حیاتی جامعه هستند و امکان اتال نواحی مختلف را فراهم می‌کنند، جغرافیای حمل‌ونقل شاخه‌ای از جغرافیای اقتصادی محسوب می‌شود.
 - (۳) به دلیل اینکه حمل‌ونقل در فعالیت‌های اقتصادی و مکان‌گزینی واحدهای تولیدی نقش مهمی دارد، جغرافیای اقتصادی شاخه‌ای از جغرافیای حمل‌ونقل محسوب می‌شود.
 - (۴) به دلیل اینکه راه‌ها رگ حیاتی جامعه هستند و امکان اتصال نواحی مختلف را فراهم می‌کنند، جغرافیای اقتصادی شاخه‌ای از جغرافیای حمل‌ونقل محسوب می‌شود.
- ۲۳- هنگام عبور از خط‌روز گردان از غرب به شرق، باید روز به تقویم شود و هنگام عبور از شرق به غرب، باید روز از تقویم شود.
- (۱) دو - اضافه - یک - کم (۲) یک - اضافه - یک - کم (۳) دو - کم - یک - اضافه (۴) یک - کم - یک - اضافه
- ۲۴- اولین هواپیمای جت در کدام کشور ساخته شد؟
- (۱) ایالات متحده‌ی آمریکا (۲) آلمان (۳) انگلستان (۴) ژاپن
- ۲۵- کدام گزینه مربوط به UTC است؟
- (۱) موقعیت‌یاب جهانی
 - (۲) ساعت هماهنگ جهانی
 - (۳) سیستم اطلاعات جغرافیایی
 - (۴) ساعت گرینویچ جهانی
- ۲۶- ساکنان کدام شهر در ایران زودتر طلوع خورشید را می‌بینند و نماز صبح می‌خوانند؟
- (۱) مشهد (۲) تهران (۳) قزوین (۴) ارومیه



۲۷- اختراع و تولید انبوه خودرو در و ساخته شدن نخستین لوکوموتیوهای مجهز به موتور بخار در و تولید قطار پرسرعت در بوده است.

- (۱) اواخر قرن ۲۰ - اوایل قرن ۱۹ - نیمه دوم قرن ۱۹ (۲) اوایل قرن ۲۰ - اوایل قرن ۲۱ - نیمه دوم قرن ۱۹
(۲) اوایل قرن ۲۰ - اوایل قرن ۱۹ - نیمه دوم قرن ۲۰ (۴) اواخر قرن ۲۰ - اوایل قرن ۲۰ - نیمه دوم قرن ۲۰

۲۸- هر قاج، ۱۵ درجه و ساعت است و یک نصف‌النهار مرکزی دارد. با حرکت به سمت غرب گرینویچ لندن، ساعت می‌شود و با حرکت به سمت شرق گرینویچ لندن، ساعت می‌شود.

- (۱) کم - زیاد (۲) زیاد - کم (۳) زیاد - کم (۴) کم - زیاد

۲۹- اختراع موتور بخار، تحول بزرگی در حمل و نقل و به وجود آورد.

- (۱) آبی - ریلی (۲) جاده‌ای - هوایی (۳) هوایی - آبی (۴) ریلی - جاده‌ای

۳۰- عوامل گسترش و تحول در صنعت حمل و نقل در نیم‌قرن اخیر در کدام گزینه به درستی بیان شده است؟

- (۱) اکتشافات جغرافیایی - کشف و استخراج نفت (۲) پیشرفت‌های علمی و فناوری - کشف و استخراج نفت
(۳) گسترش تجارت و اقتصاد - فعالیت تسلیحات نظامی (۴) افزایش جمعیت - گسترش تجارت و اقتصاد جهانی

۳۱- در ارتباط با حمل و نقل، کدام گزینه به ترتیب درست (ص) یا نادرست (غ) بودن عبارتهای زیر را به درستی نشان می‌دهد؟

- الف) حمل و نقل بر زمین، آب و هوا تأثیر می‌گذارد.
ب) شبکه‌های حمل و نقل هم از محیط جغرافیایی تأثیر می‌پذیرند و هم بر فضای جغرافیایی تأثیر می‌گذارند.
ج) کلید توسعه اقتصادی و رکن زیربنای اقتصاد کشورها، حمل و نقل است.
د) جغرافیای حمل و نقل شاخه‌ای از دانش جغرافیا و جغرافیای اقتصادی است.
(۱) ص - ص - ص - ص (۲) ص - ص - غ - غ (۳) غ - غ - ص - ص (۴) غ - ص - ص - ص

۳۲- کدام گزینه به ترتیب مربوط به پرتددترین بنادر مسافربری در جنوب ایران است؟

- (۱) قشم - بندرعباس - چارک - خرمشهر (۲) بندر بوشهر - خرمشهر - امام خمینی - چارک
(۳) بندر امام خمینی - عباس - شهید رجایی - قشم (۴) بندر لنگه - شهید باهنر - جاسک - چابهار

۳۳- کدام گزینه به ترتیب، میزان افزایش تعداد و مسافت آذراه‌ها و بزرگراه‌های کشور نسبت به یک دهه قبل را به درستی نشان می‌دهد؟

- (۱) دو برابر - سه برابر (۲) چهار برابر - شش برابر (۳) سه برابر - چهار برابر (۴) چهار برابر - سه برابر

۳۴- ایران به چه کشورهایی از طریق خطوط لوله، گاز طبیعی صادر می‌کند؟

- (۱) ارمنستان - افغانستان - پاکستان - ترکمنستان (۲) ترکیه - عراق - آذربایجان - ارمنستان
(۳) ترکمنستان - عراق - ترکیه - پاکستان (۴) افغانستان - پاکستان - کویت - ترکیه

۳۵- کدام گزینه مهم‌ترین کاربرد همه‌ی انواع GPS است؟

- (۱) نمایش جهت‌های جغرافیایی (۲) تعیین موقعیت جغرافیایی
(۳) ردیابی و کنترل رفت و آمد در شهرها (۴) نمایش وضعیت آب و هوایی مکان‌ها



۳۶- به ترتیب طول خطوط لوله‌های «نفت» و «گاز» در ایران چند کیلومتر است؟

- (۱) ۱۴,۰۰۰ - ۳۸,۰۰۰ (۲) ۱۴,۰۰۰ - ۳۸,۰۰۰ (۳) ۱۴,۰۰۰ - ۴۸,۰۰۰ (۴) ۳۸,۰۰۰ - ۱۳,۰۰۰

۳۷- کدام گزینه از علل انحراف خط روز گردان درست است؟

- (۱) مشکل طلوع و غروب خورشید به طور درست در تقویم حل شود.
(۲) جلوگیری از مشکلات روز تقویمی در مکان‌های مختلف کشورها یا جزایری که خط از آن‌ها عبور می‌کند.
(۳) مشکل ساعت در گیرنویچ لندن و اختلاف آن با خط روز گردان حل شود.
(۴) مدار 0° تا 180° غربی و 0° تا 180° شرقی به طور درست نشان داده شود.

۳۸- کدام شیوه‌های حمل و نقل برای مسافت دور مناسب می‌باشند؟

- (۱) ریلی - آبی (۲) جاده‌ای - هوایی (۳) لوله‌ای - آبی (۴) هوایی - ریلی

۳۹- کدام گزینه به ترتیب به زمان «اختراع نخستین لوکوموتیوهای مجهز به موتور بخار» و «اختراع و تولید انبوه خودرو» اشاره دارد؟

- (۱) اواخر قرن نوزدهم - اواخر قرن بیستم
(۲) اوایل قرن بیستم - اواخر قرن نوزدهم
(۳) اوایل قرن بیستم - اواخر قرن بیستم
(۴) اوایل قرن نوزدهم - اوایل قرن بیستم

۴۰- کدام گزینه به ترتیب درست (ص) یا نادرست (غ) بودن عبارتهای زیر را در مورد «نقش و اهمیت حمل و نقل» به درستی نشان می‌دهد؟

- الف) حمل و نقل بر زمین و آب و هوا تأثیر می‌گذارد.
ب) حمل و نقل، کلید توسعه اقتصادی و رکن زیربنایی اقتصاد کشورها است.
ج) فعالیت‌های اقتصادی تولید و توزیع و تجارت به شبکه‌های حمل و نقل وابسته‌اند.
د) گردشگری نیز به عنوان یک فعالیت اقتصادی مهم در کشورها به زیرساخت‌ای حمل و نقل نیاز دارد.
(۱) ص - ص - غ - غ (۲) غ - ص - غ - ص (۳) ص - ص - ص - ص (۴) غ - غ - ص - ص