

گنجینه سوال رایگان

+ پاسخ تشریحی

یاوران دانش



راه های ارتباطی با ما:

www.Dyavari.com

۰۲۱-۷۶۷۰۳۸۵۸

۰۹۱۲-۳۴ ۹۴ ۱۳۴



۱- کدام مورد مطابق با عبارت زیر، تدوین و تنظیم شده است؟

«در جنگ ژاپن و چین، چین نیروها و تدارکاتش را به غرب کشور خود انتقال داد.»

- ۱) کشورهای کوچک که نیروی نظامی مناسب اما کمبود فضا دارند، در فعالیتهای دفاعی خود، مشکل کمتری دارند.
- ۲) وسعت زیاد اگر با کمبود جمعیت و نواحی کوهستانی همراه باشد در امور دفاعی، مشکلاتی به وجود می‌آورد.
- ۳) وسعت زیاد امری مطلوب است و برای کشوری که نیروی نظامی کافی داشته باشد، نقش مثبتی دارد.
- ۴) موقعیت ریاضی در افزایش یا کاهش قدرت و کیفیت عملیات نظامی یک کشور، بی‌تأثیر است.

۲- با بررسی موارد زیر در خصوص دریاهای شمال و جنوب کشورمان، کدام مورد درست است؟

- الف: از مناطق ژئوپلیتیک جهان به شمار می‌روند که در آن سه عامل جغرافیا، سیاست و قدرت بر هم تأثیر می‌گذارند.
- ب: وجود منابع نفت و گاز و بهره‌برداری از آن، از دلایل اهمیت اقتصادی و تجاری این دریا محسوب می‌شود.
- ج: از جمله دلایل این دریا، وجود شرایط مناسب برای مشاغل مانند صیادی و پرورش میگو است.
- ۱) موارد الف و ب بین خلیج فارس و دریای عمان و مورد ج بین دریای خزر و دریای عمان مشترک است.
 - ۲) موارد الف و ج بین دریای عمان و خلیج فارس و مورد ب بین دریای خزر و دریای عمان مشترک است.
 - ۳) موارد الف و ب بین دریای خزر و خلیج فارس و مورد ج بین دریای عمان و خلیج فارس مشترک است.
 - ۴) موارد ب و ج بین دریای خزر و خلیج فارس و مورد الف بین دریای عمان و خلیج فارس مشترک است.

۳- کدام مورد با متن زیر مطابقت دارد؟

- «کشورهای اتحادیه اروپا در امور سیاست خارجی، کشاورزی، تجارت و نظایر آن، از اصول و شیوه‌های مشترکی پیروی می‌کنند.»
- ۱) اتحادیه اروپا یک منطقه ژئوپلیتیک و ناحیه سیاسی فراملی است که کشورهای عضو آن به دلیل داشتن نظام سیاسی فدرال، تحت مدیریت مشترک قرار می‌گیرند.
 - ۲) در یک ناحیه سیاسی فراملی مانند اتحادیه اروپا، یک منطقه ژئوپلیتیک شکل گرفته است زیرا قدرت به طور مطلق بر سیاست و جغرافیا تأثیر گذاشته است.
 - ۳) منطقه ژئوپلیتیک صرفاً میان کشورهای همسایه شکل می‌گیرد و این کشورها تحت مدیریت مشترک، موازنه تجاری منفی را به مثبت تبدیل می‌کنند.
 - ۴) در منطقه ژئوپلیتیک، تعدادی کشور هم‌جوار به دلیل داشتن ارزش‌های جغرافیایی، با یکدیگر وارد تعامل کنش و واکنش می‌شوند.

۴- با توجه به مشخصات خلیج فارس، دریای خزر و عمان، کدام مورد به درستی تدوین شده است؟

- ۱) دریای خزر و خلیج فارس به طور مشترک دارای موقعیت نسبی دسترسی به منابع نفت و گاز هستند و هر دو از مناطق ژئوپلیتیک جهان به شمار می‌روند.
- ۲) دریای خزر و دریای عمان به ترتیب دارای انواع ماهیان خاویاری و مراکز پرورش و صید میگو هستند و هر دو به آب‌های آزاد راه دارند.
- ۳) خلیج فارس و دریای خزر به ترتیب دارای انواع ماهیان خاویاری و مراکز پرورش و صید مروارید هستند و هر دو به آب‌های آزاد راه دارند.
- ۴) دریای خزر و دریای عمان به طور مشترک شرایط پرورش و صید مروارید دارند و هر دو از مناطق ژئوپلیتیک جهان به شمار می‌روند.



۵- متن زیر با کدام مورد مطابقت دارد؟

- «در تقسیمات کشوری ایران، محدوده طبیعی گل فشان‌ها به شکلی است که در قلمروی اداری دو استاندارد قرار دارد.»
- (۱) گل فشان‌ها در دو استان کرمان و سیستان و بلوچستان واقع شده‌اند و موقعیت ریاضی کمتری نسبت به ناهمواری‌های مریخی دارند.
- (۲) گل فشان‌ها در دو استان هرمزگان و سیستان و بلوچستان واقع شده‌اند و زاویه تابش عمودتر نسبت به ناهمواری‌های مریخی دارند.
- (۳) مرزهای سیاسی و اداری بر مبنای تصمیم‌گیری انسان‌ها تعیین می‌شوند و ممکن است چند استان در یک ناحیه طبیعی قرار گیرند.
- (۴) مرزهای سیاسی و اداری بر مبنای تصمیم‌گیری انسان‌ها تعیین می‌شوند و ممکن است یک ناحیه طبیعی در بیشتر از یک استان قرار گیرد.

۶- با بررسی موارد زیر، کدام مورد با نظریه ژئوپلیتیک آن، مطابقت دارد؟

- (الف) جنگ تحمیلی عراق علیه ایران به دلیل محدودیت‌های کشور عراق در دسترسی به سواحل خلیج فارس
- (ب) تبدیل شدن کشور انگلستان به یک قدرت دریایی به دلیل دسترسی به آب‌های آزاد و موقعیت جزیره‌ای
- (ج) موقعیت آسیب‌پذیر لهستان به دلیل مجاورت داشتن با دو کشور روسیه و آلمان در دوره‌هایی از تاریخ
- (۱) مورد الف برخلاف موارد ب و ج، با نظریه هلفورد مکی‌ندر
- (۲) مورد الف همانند موارد ب و ج، با نظریه هلفورد مکی‌ندر
- (۳) مورد ب برخلاف موارد الف و ج با نظریه آلفرد ماهان
- (۴) مورد ب همانند موارد الف و ج با نظریه آلفرد ماهان

۷- ارائه‌دهنده هریک از نظریه‌های ژئوپلیتیکی الف، ب، ج و د به ترتیب کدام است؟

- الف- اگر کشورهای کوچک در صدد توسعه سرزمین خود بر نیایند، نابودی آن‌ها حتمی است.
- ب- فضاهای اقیانوسی در شکل‌گیری قدرت جهانی و همچنین محاصره قدرت خشکی مؤثر است.
- ج- قرارگیری یک کشور در مجاورت یک دولت قوی یا ضعیف، بر سیاست و قدرت آن تأثیر می‌گذارد.
- د- منطقه خشکی اوراسیا، قلب جهان است و این منطقه برای قدرت‌های دریایی، غیرقابل دسترس است.
- (۱) راتزل - آلفرد ماهان - راتزل - سر هلفورد مکی‌ندر
- (۲) راتزل - سر هلفورد مکی‌ندر - راتزل - آلفرد ماهان
- (۳) آلفرد ماهان - راتزل - سر هلفورد مکی‌ندر - راتزل
- (۴) آلفرد ماهان - آلفرد ماهان - راتزل - سر هلفورد مکی‌ندر

۸- در خصوص تعیین مرز دریایی، کدام مورد درست است؟

- (۱) از پایین‌ترین حد جزر دریا تا ۱۲ مایل دریایی قبل از آن، آب‌های داخلی نامیده می‌شود.
- (۲) از پایین‌ترین حد جزر دریا تا ۱۲ مایل دریایی بعد از آن، آب‌های داخلی نامیده می‌شود.
- (۳) از پایین‌ترین حد جزر دریا تا ۱۲ مایل دریایی قبل از آن، دریای سرزمینی نامیده می‌شود.
- (۴) از پایین‌ترین حد جزر دریا تا ۱۲ مایل دریایی بعد از آن، دریای سرزمینی نامیده می‌شود.



«بانک سوال موسسه یاوران دانش»

- ۹- همه عبارت‌ها، با نظریه‌ی «قدرت دریایی آلفرد ماهان»، مطابقت دارند، به جز:
- (الف) کشورهای قدرتمند هستند که به آب‌های آزاد دسترسی داشته باشند.
(ب) فضا‌های دریایی و اقیانوسی در شکل‌گیری قدرت جهانی مؤثر هستند.
(ج) قدرت دریایی کشور ساحلی وابسته به نیروی جنگی ناوگان دریایی است.
(د) در کشورهای دریایی و اقیانوسی، ملتی قدرتمند است که در تجارت دریایی نیرومند باشد.
- (۱) الف و ب (۲) الف و ج (۳) ب و د (۴) ج و د

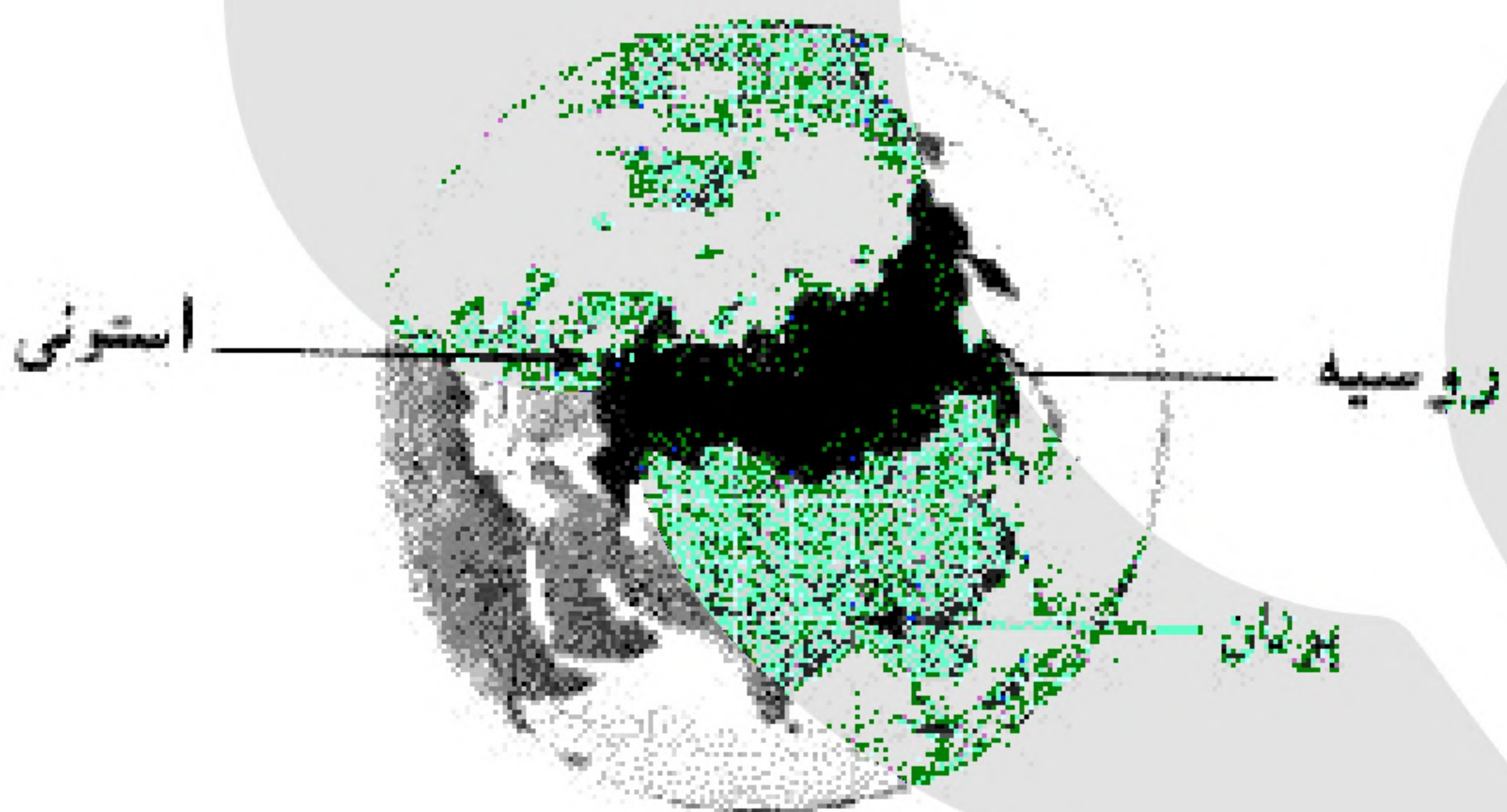
- ۱۰- کدام گزینه، با توجه به «الگوی مدیریت سیاسی فضا» از وجود شباهت دو کشور عراق و انگلستان به شمار می‌آید؟
- (الف) حکومت مرکزی، نقش هماهنگ‌کننده و ارتباط دهنده دارد.
(ب) نظام قانون‌گذاری و سیاست‌گذاری، متمرکز است.
(ج) مناطق خودمختار، اختیارات سیاسی و اجرایی ویژه‌ای دارند.
(د) قوانین آموزش و پرورش و دوره‌های تحصیلی در نواحی مختلف، متفاوت است.
- (۱) الف و ج (۲) الف و د (۳) ب و ج (۴) ب و د

- ۱۱- کدام عبارت، با شرایط کشورهایی که مرز آن‌ها به صورت تحمیلی، تعیین می‌شود، مطابقت دارد؟
- (۱) پس از ترسیم آن، افراد یک سرزمین تحت حاکمیت دولت بیگانه قرار می‌گیرند.
(۲) با در نظر گرفتن آن، یک واحد سیاسی، فاقد شخصیت بین‌المللی می‌شود.
(۳) در صورت انطباق با مدار جغرافیایی، یک مرز هندسی محسوب می‌شوند.
(۴) به صورت قراردادی هستند و در کوتاه مدت تغییر زیادی پیدا نمی‌کنند.

- ۱۲- در چه صورتی، امکان «ادامه‌ی حیات» برای کشورهای

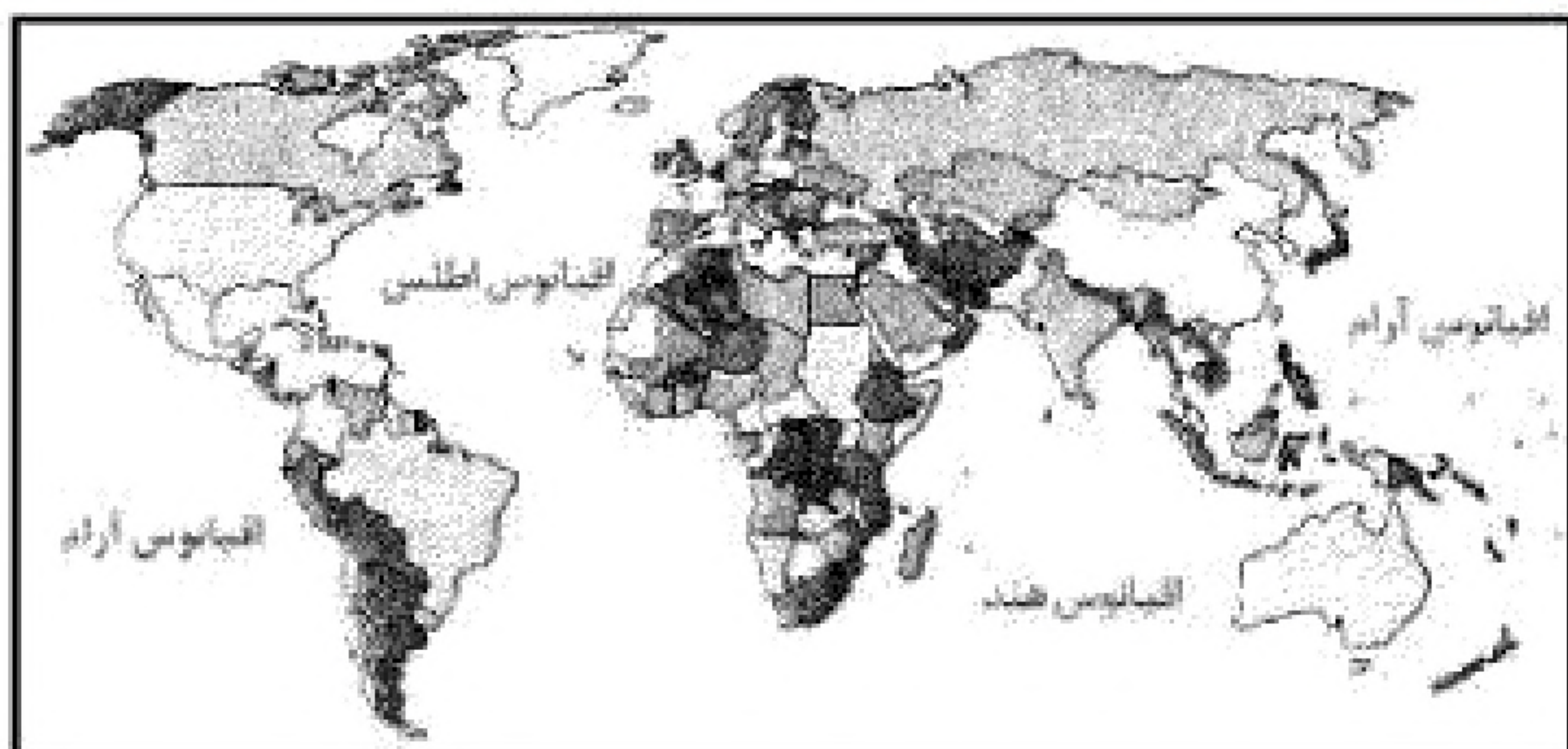
مشخص شده در تصویر زیر، فراهم می‌شود؟

- (۱) تقویت منابع انرژی و معدنی کشور
(۲) استفاده از قدرت در اداره‌ی سرزمین
(۳) توسعه قلمرو و فضای سرزمینی
(۴) حفظ عنصر بنیادین کشور

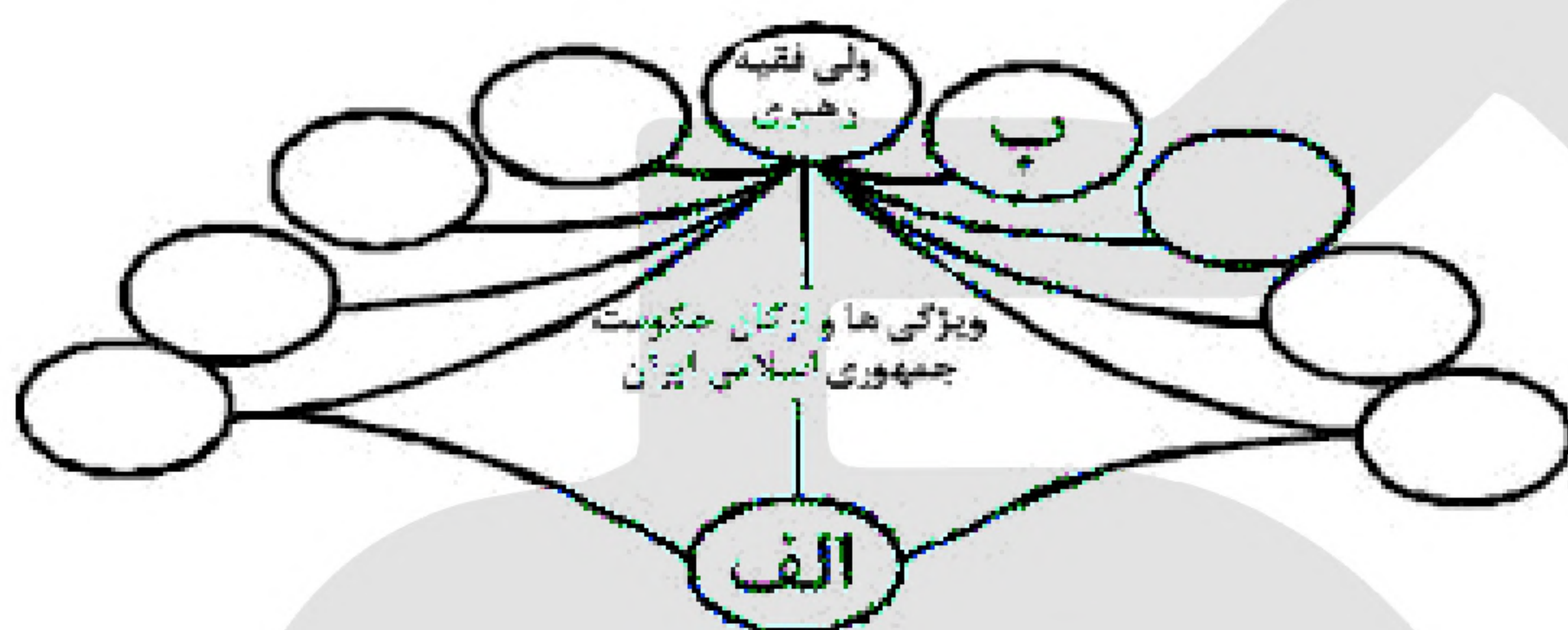


- ۱۳- کدام عبارت، با مفهوم «خط منصف» مطابقت بیش‌تری دارد؟

- (الف) خط مرزی است که از هر دو ساحل به یک اندازه فاصله دارد.
(ب) مرز سیاسی میان دو کشور است که ممکن است از وسط رود عبور کند.
(ج) قراردادی است و با تصمیم‌گیری انسان تعیین می‌شود.
(د) خط مرزی است که نقاط عمیق، در وسط بستر رودخانه را به هم متصل می‌کند.
- (۱) الف و ج (۲) الف و ب (۳) ب و د (۴) ج و د



- ۱۴- «امروزه بیش از ۱۹۰ کشور مستقل در جهان وجود دارد که عضو سازمان ملل متحد هستند» کدام گزینه وجه تمایز این نواحی را با سایر نواحی سیاسی بیان می‌کند؟
- (۱) بهره‌مندی از سازه‌ی انسانی
 - (۲) تعیین محدوده‌ی جغرافیایی
 - (۳) برخورداری از اقتدار سیاسی
 - (۴) اشتغال بخش‌هایی از سطح زمین



- ۱۵- با توجه به ویژگی‌ها و ارکان حکومت جمهوری اسلامی ایران، در تصویر زیر، کدام گزینه، موارد الف و ب را به درستی بیان می‌کند؟
- (۱) (الف) بُعد عمودی کشور و (ب) چهره‌ی طبیعی
 - (۲) (الف) بُعد تشکیلاتی حکومت و (ب) مشروعیت
 - (۳) (الف) افراد درون یک کشور و (ب) داشتن استقلال
 - (۴) (الف) چهره‌ی فیزیکی و (ب) بدنه‌ی تشکیلاتی و اجرایی

- ۱۶- در کدام گزینه به ترتیب، دلیل محدودیت کشاورزی در «روسیه» و مشکلات ایجاد خطوط ارتباطی در «تایلند» به درستی بیان شده است؟

- (۲) وسعت - موقع جغرافیایی
- (۴) وضع ناهمواری - شکل سرزمین

- (۱) وسعت - وضع ناهمواری
- (۳) موقع جغرافیایی - شکل سرزمین

- ۱۷- همه‌ی موارد از ویژگی‌های «کانون سیاسی یک کشور» به شمار می‌آید، به جز:
- (۱) مرکز اقتدار سیاسی یک کشور است.
 - (۲) به دلیل دوری از مرزها، قابلیت دفاعی مناسبی دارد.
 - (۳) محل تصمیم‌گیری‌های سیاسی یک کشور با سایر کشورها است.
 - (۴) فرمان‌های سیاسی از این کانون در سراسر کشور پخش می‌شود.

- ۱۸- در کدام عبارت «شکل سرزمینی» دو کشور، به درستی مقایسه شده است؟

- (۱) کشورهای تایلند و افغانستان، دارای یک دالان با اهمیت استراتژیک هستند.
- (۲) کشورهای شیلی و لهستان، در احداث جاده و خطوط آهن با مشکلاتی مواجه هستند.
- (۳) کشورهای الجزایر و اندونزی، از کم‌ترین و کوتاه‌ترین مرزهای قابل دفاع برخوردار هستند.
- (۴) کشورهای ژاپن و نروژ، در نظارت بر همه‌ی قسمت‌های سرزمین، با دشواری روبه‌رو می‌شوند.

- ۱۹- در همه‌ی مناطق ذکر شده، سایر کشورها حق عبور و مرور بدون ضرر را دارند، به جز:

- (۱) فلات قاره
- (۲) دریای سرزمینی
- (۳) آب‌های داخلی
- (۴) آب‌های آزاد