

گنجینه سوال رایگان

+ پاسخ تشریحی

یاوران دانش



راه های ارتباطی با ما:

www.Dyavari.com

۰۲۱-۷۶۷۰۳۸۵۸

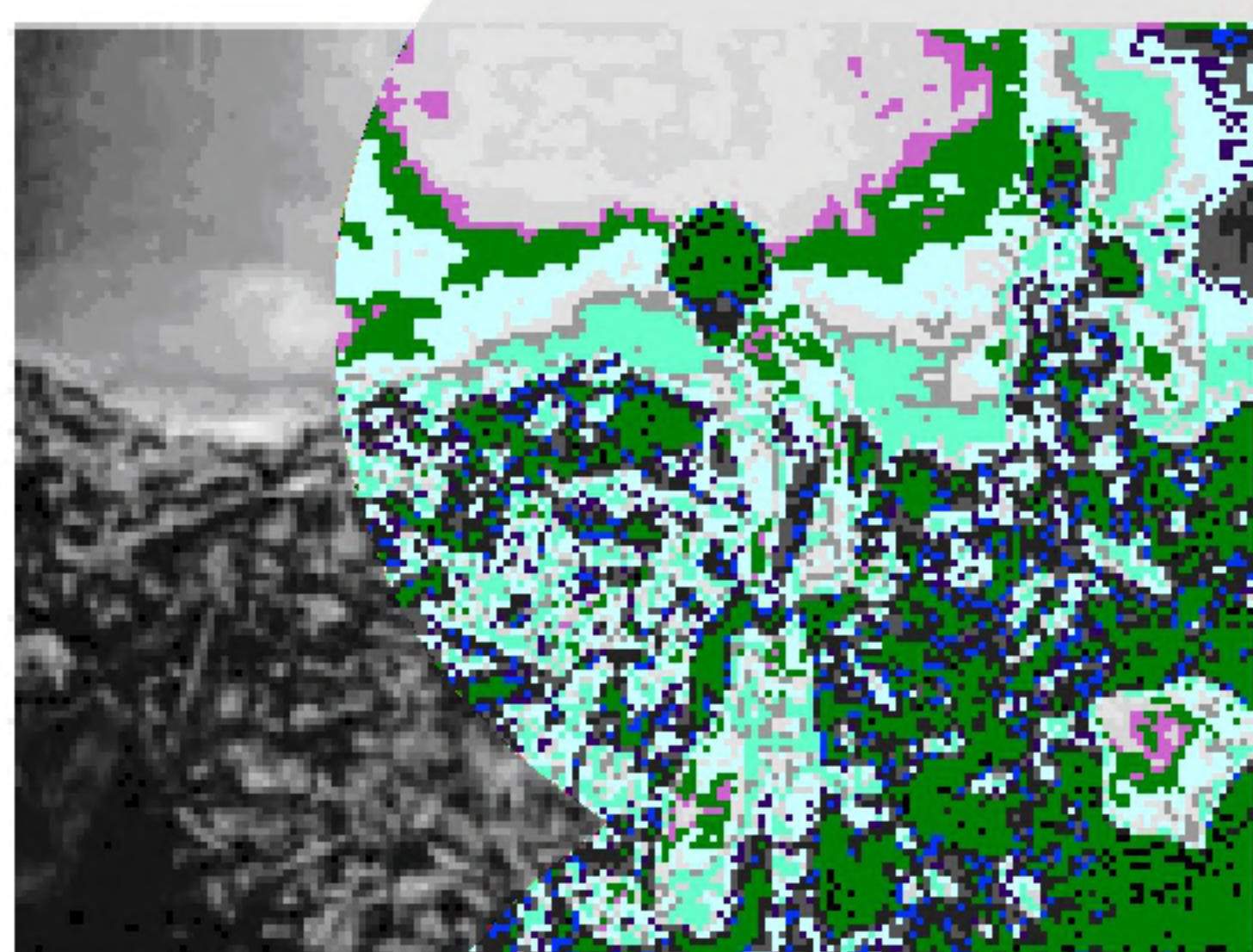
۰۹۱۲-۳۴ ۹۴ ۱۳۴



- ۱- هریک از موارد زیر به ترتیب مربوط به کدام ناحیه سیاسی می باشد؟
 الف) از استقلال محدودی برخوردارند و در امور سیاست خارجی و دفاع، تابع حکومت مرکزی هستند.
 ب) اتباع خارجی می توانند بدون اخذ روادید وارد این منطقه شوند.
 ج) اخذ روادید بین کشورهای هم پیمان لزومی ندارد.
 ۱) الف) ناحیه سیاسی ویژه (خودمختار) ب - ناحیه سیاسی ویژه (آزاد تجاری) ج) ناحیه سیاسی منطقه ای
 ۲) الف) نواحی خودمختار ب) نواحی خودمختار ج) ناحیه سیاسی فروملی
 ۳) الف) ناحیه سیاسی ویژه (آزاد تجاری) ب) الف) ناحیه سیاسی ملی ج) الف) ناحیه سیاسی ملی
 ۴) الف) الف) ناحیه سیاسی منطقه ای ب) الف) ناحیه سیاسی آزاد تجاری ج) الف) ناحیه سیاسی فروملی

۲- در گذشته کدام کشورها برای دستیابی به منطقه خلیج فارس با یکدیگر به رقابت می پرداختند و شبه جزیره کریمه تا پیش از فروپاشی اتحاد جماهیر شوروی بخشی از خاک کدام کشور محسوب می شد و تونل مانس چقدر طول دارد و در چند متری زیر دریا ساخته شده است؟

- ۱) انگلستان و آمریکا - اوکراین - ۵۲ کیلومتر، ۳۰ متر
 ۲) روسیه و انگلستان - اوکراین - ۵۲ کیلومتر، ۴۰ متر
 ۳) انگلستان و آمریکا - روسیه - ۶۲ کیلومتر، ۳۰ متر
 ۴) روسیه و انگلستان - روسیه - ۶۲ کیلومتر، ۴۰ متر



- ۳- کدام عبارت زیر در ارتباط با تصویر داده شده درست است؟
 ۱) توافق و تصمیمات سیاسی و اقتصادی حکومت ها بر فضای جغرافیایی تأثیر چندانی ندارد.
 ۲) سیاست ها و تصمیماتی که حکومت یک کشور در زمینه اقتصاد، اشتغال و توزیع درآمد اتخاذ می کند، بر توزیع امکانات و تجهیزات در نواحی مختلف اثر می گذارد.
 ۳) تصمیم گیری های مدیریت سیاسی و اداری یک ناحیه بر فضای جغرافیایی آن ناحیه تأثیر می گذارد.
 ۴) وجود یک منطقه حساس بر کشمکش های بین حکومت ها تأثیر می گذارد.

- ۴- در چه صورتی، امکان قدرتمندی برای کشورهایی که از منابع انرژی و معدنی بهره مند هستند، فراهم می شود؟
 ۱) صادرات این منابع به کشورهای مجاور
 ۲) توزیع متناسب با فضای جغرافیایی
 ۳) استفاده از منابع در جهت توسعه صنایع
 ۴) به کارگیری آن در حوزه نظامی و دفاعی

۵- هر دو مورد کدام گزینه نادرست است؟

- الف) امروزه ۹۰ درصد مبادلات اقتصادی کشورها از طریق حمل و نقل زمینی صورت می گیرد.
 ب) فزونی ارزش واردات بر صادرات را کسری تجاری می گویند که برای اقتصاد کشور نامطلوب است.
 ج) برخی کشورهای صادر کننده نفت و گاز به منظور جلوگیری از آسیب پذیری ناشی از کاهش قیمت نفت در بازار جهانی، با یکدیگر متحد شده و سازمان اوپک را به وجود آورده اند.
 د) شرکت های چند ملیتی با ایجاد یک شعبه اصلی در کشور میزبان از شرکت های محلی برای تولید یا فروش کالاها و خدمات خود استفاده می کنند و از این طریق به سرمایه گذاری و کسب سود فراوان می پردازند.
 ه) کشورهایی مانند افغانستان که محصور در خشکی هستند از حمل و نقل دریایی بهره ای نمی برند.

- ۱) د، ه ۲) ه، ب ۳) الف، ج ۴) ج، ب



- ۶- صحیح یا غلط بودن هر یک از موارد زیر در کدام گزینه درج شده است؟ (به ترتیب)
- الف) ناحیه سیاسی منطقه‌ای عبارت است از چند کشور که تحت اداره نظام‌های مدیریتی مختلف قرار گرفته‌اند و این کشورها در عین حال استقلال با هم متحد هستند.
- ب) تونل مانس بین دو کشور انگلستان و فرانسه در زیر دریا ساخته شده و انگلستان را به قاره اروپا متصل می‌کند.
- ج) شهرستان زیر کوه واقع در استان خراسان جنوبی یک ناحیه سیاسی فروملی محسوب می‌شود.
- د) مطابق پیمان شنگن اخذ روادید بین کشورهای اتحادیه اروپا لغو شده و واحد پول همه کشورهای عضو اتحادیه اروپا یورو است.
- ۱) ص - غ - غ - ص ۲) غ - ص - غ - ص ۳) ص - غ - ص - غ ۴) غ - ص - ص - غ

- ۷- کدام عبارات با توجه به «نظام مدیریت فضای جغرافیایی» مربوط به یک ناحیه سیاسی است؟
- الف) برخی قوانین مالیاتی اجرا نمی‌شود و عوارض گمرکی پرداخت نمی‌گردد.
- ب) در امور سیاست خارجی و دفاع تابع حکومت مرکزی هستند.
- ج) اغلب در مجاورت بنادر مهم یک کشور ایجاد می‌شوند.
- د) تحت اداره یک نظام مدیریت منطقه‌ای قرار گرفته‌اند.
- ۱) ب و د ۲) الف و ب ۳) ب و ج ۴) الف و ج

- ۸- کدام گزینه در مورد شکل کشورهای زیر صحیح است؟
- «لسوتو - اندونزی - تایلند - شیلی»
- ۱) محاطی - طویل - چندپاره - طویل
- ۲) محاطی - طویل - دنباله‌دار - چندپاره
- ۳) محاطی - طویل - دنباله‌دار - چندپاره
- ۴) محاطی - چندپاره - دنباله‌دار - طویل
- ۵) محاطی - چندپاره - طویل - چندپاره

- ۹- چه تعداد از موارد زیر دست است؟
- نود درصد از تجارت جهانی (از نظر وزن کالاها) مربوط به حمل و نقل دریایی است.
 - به آن دسته از نواحی که نظام مدیریت مخصوص به خود را دارند، ناحیه‌ی سیاسی فروملی گفته می‌شود.
 - مطالعه‌ی نواحی سیاسی یکی از موضوعات رشته‌ی علوم سیاسی است.
 - کانون یک ناحیه‌ی سیاسی محل تمرکز قدرت سیاسی یک ناحیه است.
- ۱) یک ۲) دو ۳) سه ۴) چهار

- ۱۰- به ترتیب، هر کدام از عبارات زیر معرّف عناوین ذکر شده در کدام گزینه هستند؟
- «این گونه مرزها معمولاً زمینه‌های اختلافات و ناآرامی را فراهم می‌کنند» - «از انواع این مرزها می‌توان به مرز بین کانادا و ایالات متحده آمریکا اشاره کرد» - «مرز بین فرانسه و اسپانیا، خطی است که از متصل کردن نوک بلندترین نقاط کوهستانی رشته‌کوه پیرنه ایجاد شده است».
- ۱) مرزهای تحمیلی - مرزهای تطبیقی - خط منصف
- ۲) مرزهای پیشتاز - مرزهای پیشتاز - خط الرأس
- ۳) مرزهای تحمیلی - مرزهای پیشتاز - خط الرأس
- ۴) مرزهای پیشتاز - مرزهای تطبیقی - خط منصف



۱۱- کدام گزینه به ترتیب پاسخ صحیح هر یک از موارد زیر است؟

- الف) «داشتن استقلال و بی‌نیاز بودن از نظارت دولت‌های خارجی» معرف کدام عنصر در تعریف کشور است؟
ب) احداث تونل مانس نشان‌دهنده چه چیزی می‌باشد؟
ج) رشته کوه پیرنه خط مرزی بین کدام دو کشور است؟
۱) حاکمیت - تأثیر جغرافیا بر سیاست - اسپانیا و فرانسه
۲) حاکمیت - تأثیر سیاست بر فضای جغرافیایی - فرانسه و اسپانیا
۳) حکومت - تأثیر فضای جغرافیایی بر سیاست - انگلستان و فرانسه
۴) حکومت - تأثیر سیاست بر فضای جغرافیایی - انگلستان و فرانسه

۱۲- هر یک از موارد زیر به ترتیب مربوط به کدام نظریه ژئوپلیتیکی می‌باشد؟

- الف) نابودی کشورهای کم‌وسعت قطعی است.
ب) مؤثر بودن این نظریه در سیاست‌های جنگ‌طلبانه آلمان
پ) چگونگی پیروز شدن انگلستان بر رقیبان خود در آن مطرح شده است.
۱) فضای حیاتی - قدرت دریایی - هارتلند
۲) هارتلند - قدرت دریایی - فضای حیاتی
۳) هارتلند - قدرت خشکی - قدرت دریایی
۴) فضای حیاتی - قدرت خشکی - قدرت دریایی

۱۳- کدام یک از ارکان یک ناحیه‌ی سیاسی به شمار نمی‌رود؟

- ۱) جمعیت
۲) منابع و خدمات
۳) سرزمین
۴) نظام مدیریتی

۱۴- کدام گزینه به ترتیب تکمیل‌کننده جاهای خالی عبارت زیر می‌باشد؟

- «بین کانادا و آلاسکا از نظر پیدایش و شکل‌گیری، مرز وجود دارد. مرز بین ایران و عراق است. وضع قوانین و مقررات، مربوط به است که از جمله وظایف عمده مدیریت کشور است.»
۱) تطبیقی - مصنوعی - اداره سازه انسانی
۲) پیشتاز - طبیعی - اداره امور سرزمین
۳) پیشتاز - طبیعی - اداره سازه انسانی
۴) تطبیقی - مصنوعی - اداره امور سرزمین

۱۵- کدام گزینه به تأثیر بر تصمیمات سیاسی اشاره دارد؟

- ۱) وضع قانون زوج و فرد برای کاهش ترافیک در شهر مشهد
۲) ستیز کشورهای اوکراین و روسیه به دلیل پیوستن شبه‌جزیره کریمه به روسیه
۳) زندگی بیش از چهار میلیون نفر از مردم فیلیپین در زاغه‌ها
۴) ساخته شدن تونل مانس بین کشورهای فرانسه و انگلیس



- ۱۶- به ترتیب کدام نواحی مصداق مناسبی برای هر یک از توضیحات داده شده است؟
- (الف) اتباع خارجی می‌توانند بدون اخذ روادید از قبل، به این منطقه وارد شوند.
- (ب) این منطقه در امور سیاست خارجی و دفاع تابع حکومت مرکزی بوده و در عین حال از استقلال محدودی نیز برخوردار است.
- (ج) این منطقه در حال حاضر مهم‌ترین انبار نفت جهان است.
- (د) این منطقه به موضوع کشمکش بین اوکراین و روسیه همراه با مداخله آمریکا و دولت‌های غربی عضو پیمان ناتو تبدیل شده است.
- (۱) قشم - نخجوان - خلیج فارس - شبه جزیره کریمه
- (۲) کیش - قره باغ - بندر هنگ کنگ - شبه جزیره کریمه
- (۳) کیش - نخجوان - خلیج فارس - تونل مانش
- (۴) قشم - قره باغ - بندر هنگ کنگ - تونل مانش

- ۱۷- کدام گزینه به گزاره‌ی درستی درباره‌ی ژئوپلیتیک اشاره ندارد؟
- (۱) برای آن تعاریف گوناگونی ارائه شده که درباره‌ی همه‌ی آن‌ها اتفاق نظر وجود ندارد.
- (۲) جوهره‌ی ژئوپلیتیک را قدرت تشکیل می‌دهد.
- (۳) در ژئوپلیتیک عنصر قدرت به سیاست و جغرافیا اضافه شده است.
- (۴) ژئوپلیتیک با موضوع جغرافیا و ارتباط آن با قدرت و سیاست سروکار دارد.

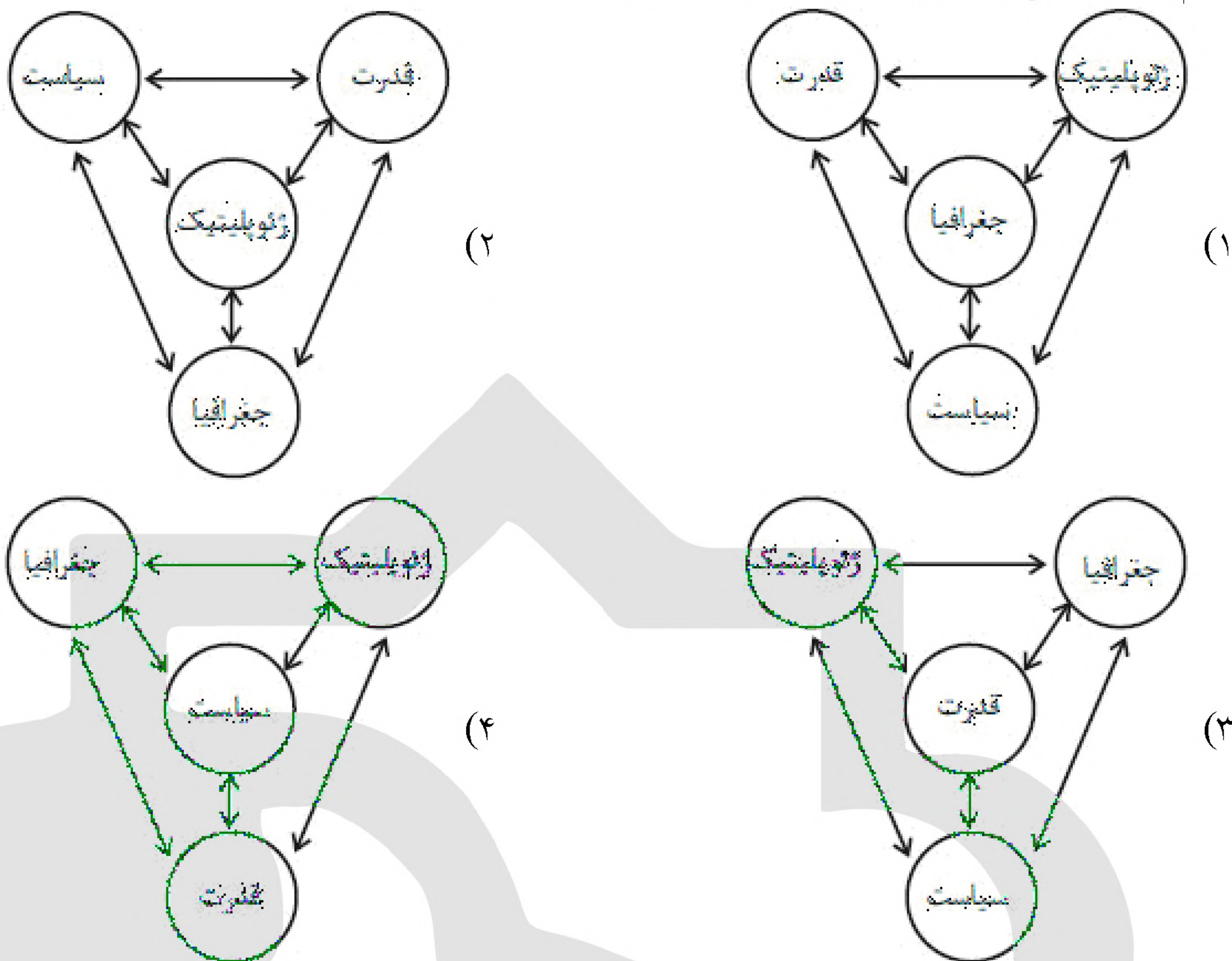
«بانک سوال موسسه یاوران دانش»

- ۱۸- به ترتیب، کدام کشور جزء کشورهای حائل است و بین کدام کشورها قرار گرفته و کدام کشورها توانسته‌اند به قدرت‌های بزرگ دریایی تبدیل شوند؟
- (۱) سری لانکا - هند و پاکستان - انگلیس و ژاپن
- (۲) سری لانکا - چین و هند - ایتالیا و فرانسه
- (۳) لهستان - آلمان و فرانسه - ایتالیا و فرانسه
- (۴) لهستان - روسیه و آلمان - انگلیس و ژاپن

- ۱۹- پاسخ موارد زیر در کدام گزینه به درستی آمده است؟
- (الف) آلفرد ماهان قدرت دریایی را در چه چیزی می‌داند؟
- (ب) موقعیت جغرافیایی کدام کشورها آنها را آسیب‌پذیر می‌سازد؟
- (ج) مزیت قرار گرفتن پایتخت در مرکز یک کشور فشرده چیست؟
- (۱) ناوگان جنگی دریایی و تجارت دریایی - کشورهای حائل بین دو یا چند قدرت بزرگ - دسترسی سریع به تمام نقاط کشور
- (۲) ناوگان دریایی و فرهنگ دریانوردی - کشورهای مجاور با قدرت‌های دریایی بزرگ - بی‌نیازی از سرمایه‌گذاری دفاعی
- (۳) برخورداری از سواحل گسترده - کشورهای حائل بین دو یا چند قدرت بزرگ - دور بودن از کویر و بیابان
- (۴) ناوگان جنگی دریایی و تجارت دریایی - کشورهای فاقد دسترسی به آب‌های آزاد - دسترسی سریع به تمام نقاط کشور



۲۰- کدام یک از شکل‌های زیر در مورد ژئوپلیتیک درست است؟



۲۱- مرز میان کانادا و آلاسکا از چه نوع مرزهایی می‌باشد و در چه زمانی ترسیم شده است؟

- (۱) تحمیلی - پس از سکونت
(۲) پیش‌تاز - پیش از سکونت
(۳) تطبیقی - پس از سکونت
(۴) تحمیلی - پیش از سکونت

۲۲- با توجه به عبارت‌های زیر هر دو مورد کدام گزینه نادرست است؟

- (الف) آلفرد ماهان قدرت دریایی را منحصراً در نیروی جنگی ناوگان دریایی می‌دانست. او توانست در کتاب خود نشان دهد که چگونه انگلستان به دلیل برخورداری از قدرت دریایی بر رقیبان خود پیروز شد.
- (ب) بخشی از آب‌های پهناور ایران از تنگه هرمز به سمت غرب تا دهانه خلیج گواتر امتداد می‌یابد که دریای مکران نامیده می‌شود و این دریا بخشی از اقیانوس هند است.
- (ج) عامل موقعیت جغرافیایی، کشور لهستان را به کشوری آسیب‌پذیر تبدیل نموده و باعث پایین آمدن قدرت ملی این کشور شده است.
- (د) داشتن منابع انرژی و معدنی تنها در صورتی منشأ قدرت است که این منابع در جهت توسعه صنایع قرار بگیرند و اقتصاد یک کشور وابسته به صادرات آن‌ها نباشد.

- (۱) د، الف (۲) ج، د (۳) الف، ب (۴) ب، ج

۲۳- به ترتیب اشکال هر یک از کشورهای فیلیپین و افغانستان چگونه است و در کدام نوع کشورها ایجاد خطوط ارتباطی

با مشکل مواجه می‌شود؟

- (۱) طویل، دنباله‌دار - فشرده
(۲) چند تکه، فشرده - طویل
(۳) طویل، فشرده - چند تکه
(۴) چند تکه، دنباله‌دار - طویل



۲۴- برای تعیین مرز دریایی بین دو کشور خط مبنا چگونه ترسیم می‌شود؟

- (۱) از لبه‌ی ساحل تا عمیق‌ترین بستر دریا آب‌های داخلی یک کشور محسوب می‌شود.
- (۲) با یک خط مرزی فاصله‌ی مرزی از هر دو ساحل را به یک اندازه تعیین می‌کنند.
- (۳) از کنار ساحل تا حدود ۱۲ مایل دریایی آب‌های داخلی یک کشور محسوب می‌شود.
- (۴) از پایین‌ترین حد جزر دریایی آب‌های داخلی و دریای سرزمینی را از هم جدا می‌سازد.

۲۵- راتزل در نظریه‌ی خود عاقبت کدام کشورها را نابودی حتمی می‌دانست؟ هم‌چنین مکیندر کدام ناحیه را منبع بزرگ قدرت می‌دانست؟

- (۱) کشورهای کوچک و فاقد فضای کافی که درصد توسعه‌ی سرزمینی برنیایند - منطقه‌ی خشکی اوراسیا
- (۲) کشورهای کوچک و فاقد فضای کافی که درصد توسعه‌ی سرزمینی برنیایند - شرق اروپا
- (۳) کشورهای مجاور با قدرت‌های بزرگ که ضمیمه‌ی آن قدرت می‌شوند - منطقه‌ی خشکی اوراسیا
- (۴) کشورهای مجاور با قدرت‌های بزرگ که ضمیمه‌ی آن قدرت می‌شوند - شرق اروپا

۲۶- کدام گزینه، با توجه به «الگوی مدیریت سیاسی فضا» از وجوه شباهت دو کشور عراق و انگلستان به شمار می‌آید؟

- (الف) حکومت مرکزی، نقش هماهنگ‌کننده و ارتباط دهنده دارد.
 - (ب) نظام قانون‌گذاری و سیاست‌گذاری، متمرکز است.
 - (ج) مناطق خودمختار، اختیارات سیاسی و اجرایی ویژه‌ای دارند.
 - (د) قوانین آموزش و پرورش و دوره‌های تحصیلی در نواحی مختلف، متفاوت است.
- (۱) الف و ج (۲) الف و د (۳) ب و ج (۴) ب و د

۲۷- شکل کشورهای زیر به ترتیب چگونه است؟

«تایلند - اندونزی - لسوتو - نروژ»

- (۱) دنباله‌دار - طویل - جمع و جور - دنباله‌دار
- (۲) طویل - جمع و جور - محاطی - طویل
- (۳) طویل - چند تکه - جمع و جور - دنباله‌دار
- (۴) دنباله‌دار - چند تکه - محاطی - طویل

۲۸- توضیح مربوط به کدام یک از مفاهیم زیر به درستی بیان نشده است؟

- (۱) مرز: خطی اعتباری و قراردادی است که برای تعیین حدود یک ناحیه‌ی سیاسی بر روی زمین مشخص می‌شود.
- (۲) جمعیت (ملت): به اتباع یک نظام سیاسی (حکومت) که در آن کشور یا دیگر نقاط جهان مقیم و مستقر باشند گفته می‌شود.
- (۳) سرزمین: بخشی از سطح زمین است که توسط یک کشور (ناحیه‌ی سیاسی) اشغال شده و زیستگاه مشترک افرادی است که به آن کشور تعلق دارند.
- (۴) پایتخت: مرکز اقتدار سیاسی یک کشور است که فرمان‌ها و تصمیمات سیاسی از این نقطه‌ی مرکزی به سراسر کشور پخش می‌شود.



۲۹- چه تعداد از عبارت‌های زیر درست است؟

- الف) ایران در سواحل جنوبی ۱۵۰۰ کیلومتر مرز دریایی دارد.
 ب) روابط بین‌المللی و رفتار کشورها با یک‌دیگر از میزان قدرت آن‌ها تأثیر می‌پذیرد.
 پ) بخشی از آب‌های جنوبی کشورمان از تنگه هرمز به سمت مغرب تا دهانه خلیج گواتر، دریا مکران نام دارد.
 ت) ایران در دریای عمان دو بندر مهم، یعنی بندر جاسک و بندر اقیانوسی چابهار دارد.
- ۱) سه (۲) یک (۳) دو (۴) چهار

۳۰- کدام عامل موجب تبدیل شدن پایتخت‌ها به کلان‌شهرها می‌شود؟

- ۱) پیوند خوردن حومه‌ها و شهرک‌های اقماری یک مادرشهر به حومه‌ها و شهرک‌های مادرشهر دیگر
 ۲) داشتن قابلیت‌های محیطی و دور بودن از مرزها
 ۳) تمرکز اقتصادی نهادهای مالی و شرکت‌های بزرگ
 ۴) افزایش جمعیت و تبدیل شدن آن به مرکز حکومتی و مذهبی

۳۱- به بخشی از سطح زمین که تحت مدیریت سیاسی یا فرمانروایی یک قدرت سیاسی باشد، چه می‌گویند و هنگ‌کنگ جزء کدام نوع از تقسیم‌بندی ناحیه سیاسی می‌باشد؟

- ۱) سرزمین - ناحیه سیاسی ملی
 ۲) مرز جغرافیایی - ناحیه سیاسی ویژه
 ۳) ناحیه سیاسی - ناحیه سیاسی ویژه
 ۴) ساختار انسانی - ناحیه سیاسی ملی

۳۲- کدام بخش از دریا متعلق به کشور مجاور دریاست اما سایر کشورها نیز می‌توانند در آن کشتیرانی کنند؟

۱) دریای سرزمینی (۲) آب‌های داخلی (۳) دریای آزاد (۴) منطقه‌ی نظارت

۳۳- چرا امروزه خطوط مرزی کشورها ارزش حقوقی و بین‌المللی دارند؟ زیرا

- ۱) محدوده‌های کشورهای هم‌مرز در اسناد سازمان ملل متحد ثبت می‌شود.
 ۲) نیروی دفاعی کشورها در نقاط مرزی مستقر و سازمان ملل نیز از آنان دفاع می‌کند.
 ۳) کشورها بنا به توافقی که با کشورهای هم‌مرز کرده‌اند به آن احترام می‌گذارند.
 ۴) محدوده‌های کشورهای هم‌مرز توسط سازمان گوناگون بین‌المللی محترم شمرده می‌شود.

۳۴- در مورد «مناطق آزاد تجاری» وضعیت عبارات زیر از حیث صحیح یا غلط بودن در کدام گزینه به درستی آمده است؟

- مناطقی هستند که برخی قوانین و مقررات کشور در آن‌ها اجرا نمی‌شود.
 - اتباع خارجی تنها با اخذ روادید می‌توانند به مناطق آزاد تجاری یک کشور وارد شوند.
 - قوانین مالیاتی و گمرکی کشورها در مورد سرمایه‌گذاری با دقت بیش‌تری در آن‌جا اجرا می‌شود.
 - نواحی سیاسی ویژه هستند که نظام مدیریت مخصوص به خود را دارند.
- ۱) ص - غ - ص - ص (۲) ص - غ - ص - غ (۳) ص - غ - غ - ص (۴) غ - غ - غ - ص

۳۵- در چه صورتی منابع انرژی و معدنی می‌توانند در قدرت آن کشور مؤثر باشند و کدام ویژگی جمعیت پیش‌شرط قدرت است و قابلیت دفاعی در کدام شکل از کشور زیاد است و کدام کشور دارای شکل محاطی است؟

- ۱) قابل صادرات باشند - کیفیت و ترکیب - طویل - آفریقای جنوبی
 ۲) در جهت توسعه صنایع قرار بگیرند - کیفیت و ترکیب - فشرده - آفریقای جنوبی
 ۳) در جهت توسعه صنایع قرار بگیرند - جمعیت زیاد - فشرده - لسوتو
 ۴) قابل صادرات باشند - جمعیت زیاد - طویل - لسوتو



۳۶- کدام گزینه نظام سیاسی مقابل آن را به درستی تشریح نمی‌کند؟

- (۱) مدیریت محلی تصمیمات دولت مرکزی را اجرا می‌کنند و قوانین و مقررات و تشکیلات اداری در تمام کشور همسان است. (نظام یکپارچه)
- (۲) بخش اعظم کشور به صورت تک‌ساخت است و فقط یک یا چند بخش کوچک به صورت ناحیه‌ای اداره می‌شود. (نظام سیاسی ناحیه‌ای)
- (۳) مناطق خودمختار اختیارات سیاسی و اجرایی ویژه‌ای در ناحیه‌ی خود دارند. (نظام سیاسی فدرال)
- (۴) هر ایالت در امور و برنامه‌ریزی توسعه‌ی اجتماعی و اقتصادی خود به طور مستقل تصمیم‌گیری و عمل می‌کنند. (نظام سیاسی فدرال)

۳۷- همه‌ی موارد از جمله عوامل تشکیل یک کشور هستند؛ به جز

- (۱) حاکمیت (۲) جمعیت مقیم (۳) قلمرو جغرافیایی (۴) امنیت

۳۸- چند مورد از موارد داده شده صحیح است؟

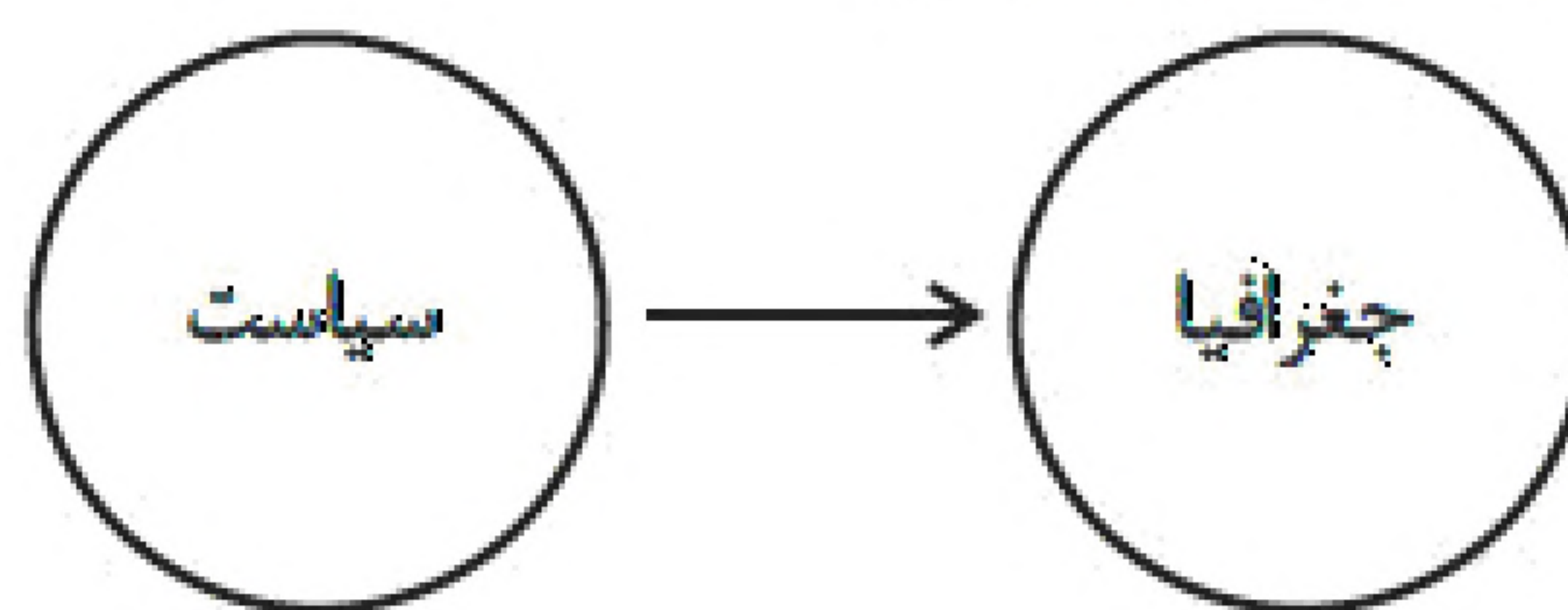
- (الف) در صورتی که خط مرزی عمیق‌ترین نقاط بستر دو رود را به هم متصل کند، به آن خط منصف می‌گویند که نوعی مرز طبیعی است. هم‌چنین تالوگ بهترین خط مرزی در رودهای قابل کشتی‌رانی است.
- (ب) در آب‌های آزاد، کشتیرانی، فعالیت نظامی، ماهیگیری، ایجاد تأسیسات و تحقیقات برای همه کشورها بدون هیچ‌گونه قید و شرطی آزاد است.
- (ج) دریای سرزمینی از خط مبنا به سمت دریا تا حدود ۱۲ مایل دریایی است که متعلق به کشور مجاور دریاست و سایر کشورها در آن منطقه حق عبور و مرور بدون اجازه آن کشور را ندارند.
- (د) در مرزهای پیشتاز حداقل کشمکش‌های و اختلافات مشاهده می‌شود و بالعکس در مرزهای تحمیلی حداکثر اختلافات رخ می‌دهد.
- (ه) کشور فرانسه از پیشگامان نظام سیاسی تک‌ساخت است که این نوع نظام سیاسی از اروپا به دیگر نقاط جهان راه یافته است که در این نوع نظام حکومت مرکزی حدد اختیارات همه واحدهای سیاسی را تعیین می‌کند.
- (۱) دو (۲) یک (۳) چهار (۴) سه

۳۹- کدام گزینه عبارت‌های صحیح درباره‌ی انواع مرزها و اهمیت آنها را مشخص می‌کند؟

- (الف) مرزهای تحمیلی آن دسته از مرزها هستند که در تعیین آنها شرایط فرهنگی در نظر گرفته نشده است.
- (ب) مرزهای تطبیقی آن مرزهایی هستند که پس از مطالعه‌ی شرایط طبیعی و با در نظر گرفتن آنها ترسیم شده‌اند.
- (ج) مرز هوای فضایی است که در آسمان هر کشوری واقع شده و هواپیماهای دیگر کشورها ملزم به کسب اجازه برای ورود به آن هستند.
- (د) حساسیت زیاد نسبت به مرزها و نظارت و مراقبت ویژه بر آنها به منظور امنیت مرزنشینان و رونق اقتصادی کشورها به ویژه در بازارچه‌های مرزی است.
- (ه) امن و یا ناامن بودن مرزها تأثیر بسزایی در رونق اقتصادی کشورها دارد.
- (۱) الف، د (۲) ب، ج (۳) ج، د (۴) الف، ه



۴۰- همه عبارات‌ها در رابطه با نمودار زیر مصداق دارد؛ به‌جز



- (۱) در شهر هوشمند جهت ارتقای زندگی ساکنان برای امور مختلف مانند حمل‌ونقل، مصرف انرژی، مدیریت ترافیک و ... از فناوری اطلاعات و ارتباطات استفاده می‌شود.
- (۲) در جریان پیشرفت و توسعه یک کشور باید ابتدا ظرفیت‌ها و توانمندی‌های مناطق شناسایی شود و سپس متناسب با آن برنامه‌ریزی صورت بگیرد.
- (۳) جوامع انسانی به دلیل توسعه صنعتی و اقتصاد مبتنی بر سرمایه‌داری، تغییرات نامطلوبی در محیط طبیعی ایجاد کرده‌اند.
- (۴) امروزه صحنه اقیانوس‌ها و تنگه‌های مهم آن به دلیل نقش کلیدی و مهم در تجارت دریایی از اهمیت بالایی برخوردار است.